



Dans la classe, les élèves sont organisés en 3 groupes. Complète le tableau :

Les poissons : 5 filles et 0 garçons

Les chats : 5 filles et 3 garçons

Les oiseaux : 1 fille et 6 garçons

| | Groupe des poissons  | Groupe des chats  | Groupe des oiseaux  |
|------------------|---|--|---|
| Filles | | | |
| Garçons | | | |
| Total par groupe | | | |

Quel groupe contient le moins d'enfants ?.....

Combien y-a-t-il d'enfants en tout dans la classe ?

Calcul :

Réponse : Il y a enfants dans la classe.



Dans la classe, les élèves sont organisés en 3 groupes. Complète le tableau :

Les poissons : 5 filles et 0 garçons

Les chats : 5 filles et 3 garçons

Les oiseaux : 1 fille et 6 garçons

| | Groupe des poissons  | Groupe des chats  | Groupe des oiseaux  |
|------------------|---|--|--|
| Filles | | | |
| Garçons | | | |
| Total par groupe | | | |

Quel groupe contient le moins d'enfants ?.....

Combien y-a-t-il d'enfants en tout dans la classe ?

Calcul :




Réponse : Il y a enfants dans la classe.



01



Lire ou compléter un tableau dans des situations concrètes simples.

Complète les tableaux en dessinant.

| |  |  |  |
|-------|---|---|---|
| bleu | | | |
| vert | | | |
| rouge | | | |




| | orange | violet | marron |
|---|--------|--------|--------|
|  | | | |
|  | | | |
|  | | | |




01



Lire ou compléter un tableau dans des situations concrètes simples.

Complète les tableaux en dessinant.

| |  |  |  |
|-------|---|---|---|
| bleu | | | |
| vert | | | |
| rouge | | | |

| | orange | violet | marron |
|---|--------|--------|--------|
|  | | | |
|  | | | |
|  | | | |