

Compétence évaluée :

Mesures : Comparer les angles d'une figure en utilisant un gabarit

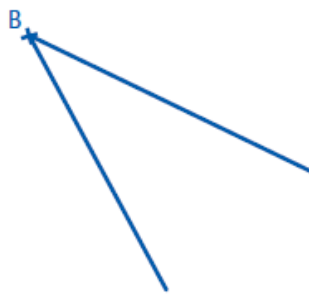
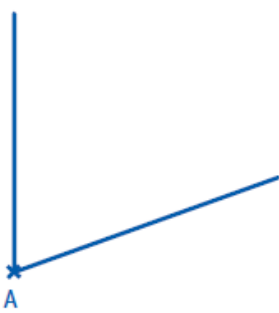
Mesures : Estimer et vérifier en utilisant l'équerre, qu'un angle est droit, aigu ou obtus

Mesures : Reproduire un angle donné en utilisant un gabarit

A	VA	NA

1 Classe ces angles du plus petit au plus grand.:

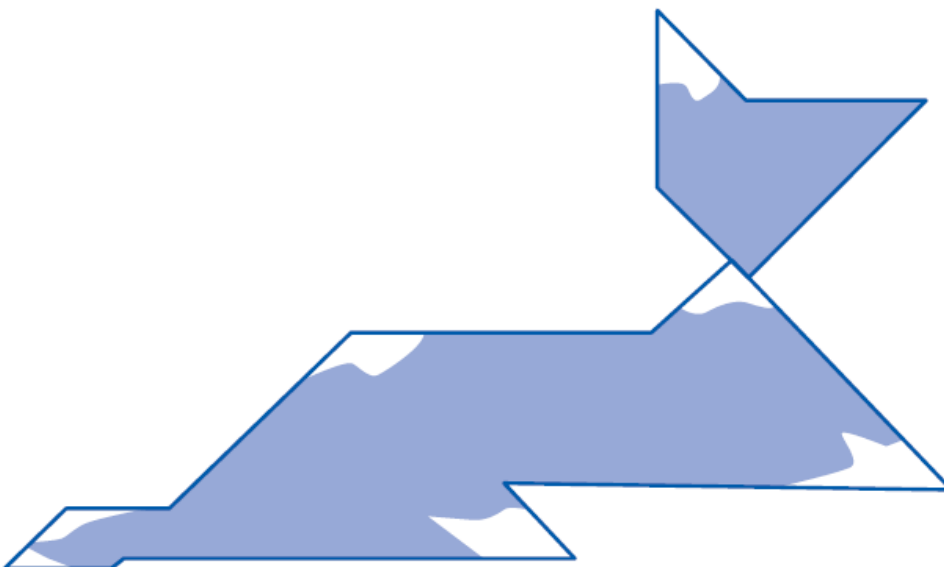
...../4



.....<.....<.....<.....

2 Colorie en rouge les angles droits, en orange les angles aigus et en violet les angles obtus:

...../7

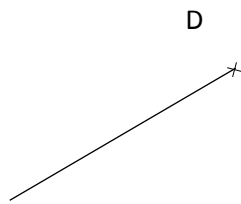


Date :

Prénom :

3 Trace des angles.

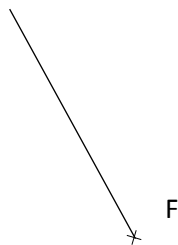
a) Trace un angle droit de sommet D



b) Trace un angle droit de sommet E



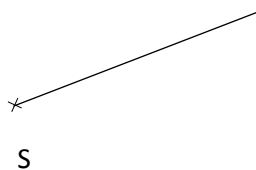
c) Trace un angle aigu de sommet F



d) Trace un angle aigu de sommet G



e) Trace un angle obtus de sommet S



f) Trace un angle obtus de sommet H

