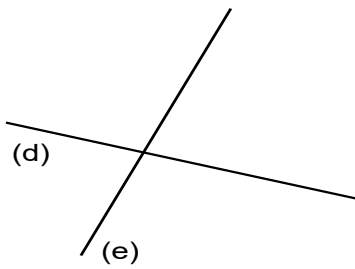
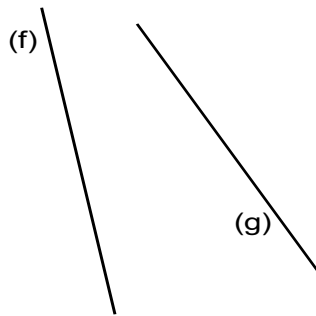


Droites parallèles

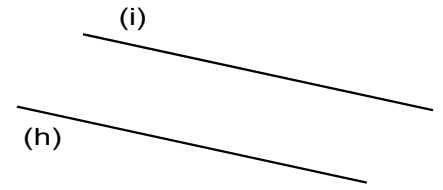
On dit que deux droites sont parallèles quand leur écartement est toujours le même, elles ne se croiseront jamais, même si on les prolonge.



Les droites (d) et (e) se coupent : elles **ne sont pas** parallèles.



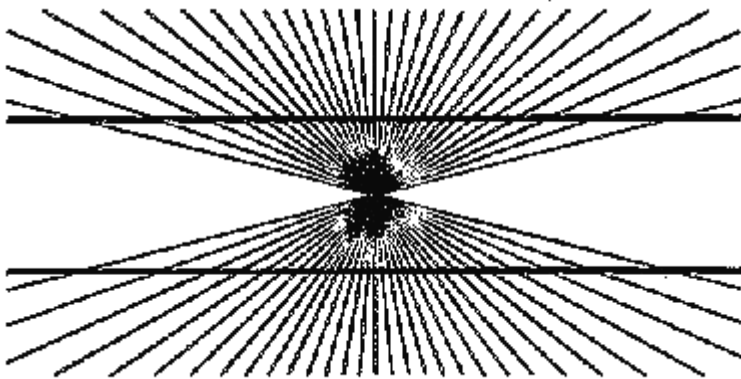
Les droites (f) et (g) ne se coupent pas dans la feuille, mais **vont se couper** si on les prolonge : elles **ne sont pas** parallèles.



Les droites (h) et (i) **sont** parallèles.

On utilise le symbole //

Les droites suivantes sont-elles parallèles ? Explique.



Oui elles sont bien parallèles, leur écartement est toujours le même, on a l'impression qu'elles sont plus écartées au milieu mais c'est une illusion d'optique.