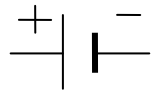


Fiche 15 : montage en série 2 ampoules + interrupteur

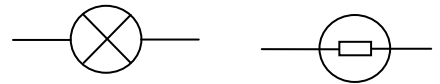
Réalise le montage suivant et réponds aux questions.

Prénom : _____


pile :



lampe:



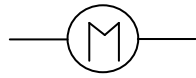
interrupteur ouvert



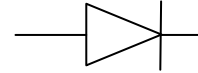
interrupteur fermé



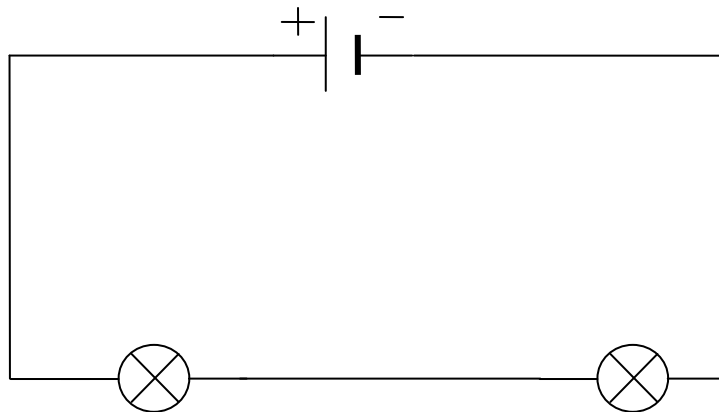
moteur



diode



Combien d'interrupteur faut-il pour couper le circuit ?
réalise le montage et complète le dessin



Réponse :