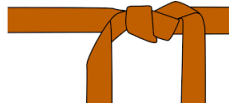


4 Je sais calculer le double d'un nombre (jusqu'à 10+10).



 Complète.

a) $10 + 10 = \dots$

d) double de 2 = ...

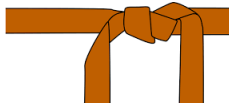
b) $5 + 5 = \dots$

e) double de 4 = ...

c) $6 + 6 = \dots$

f) double de 8 = ...

4 Je sais calculer le double d'un nombre (jusqu'à 10+10).



 Complète.

a) $8 + 8 \dots$

d) double de 7 ...


b) $1 + 1 \dots$

e) double de 5 ...

c) $4 + 4 \dots$

f) double de 9 ...

4 Je sais calculer le double d'un nombre (jusqu'à 10+10).



 Complète.

a) $7 + 7 = \dots$

d) double de 3 = ...


b) $2 + 2 = \dots$

e) double de 6 = ...

c) $9 + 9 = \dots$

f) double de 1 = ...

4 Je sais calculer le double d'un nombre (jusqu'à 10+10).



 Complète.

a) $3 + 3 \dots$

d) double de 8 ...

b) $6 + 6 \dots$

e) double de 2 ...

c) $7 + 7 \dots$

f) double de 5 ...