



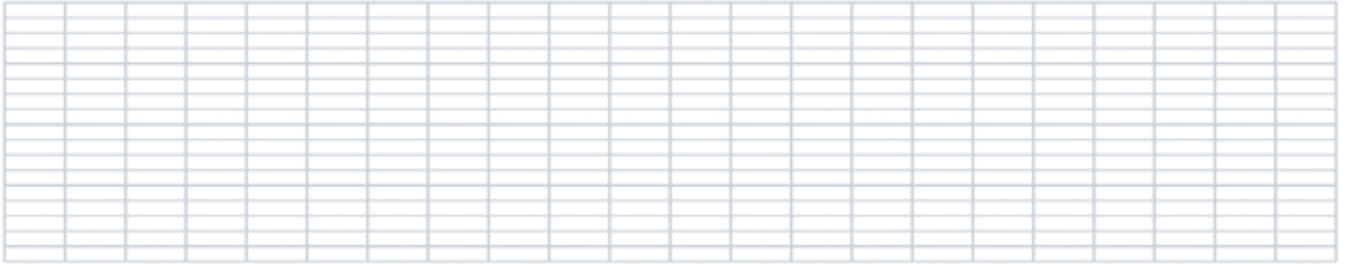
4 Pose et effectue les additions.

$354 + 239$

$381 + 138$

$167 + 225$

$372 + 147$

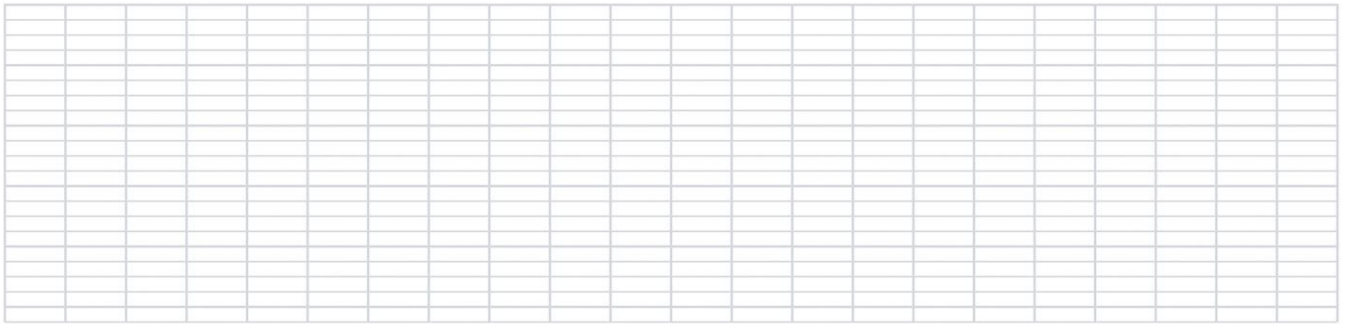


5 Pose et effectue les additions.

$146 + 121 + 236$

$64 + 442 + 73$

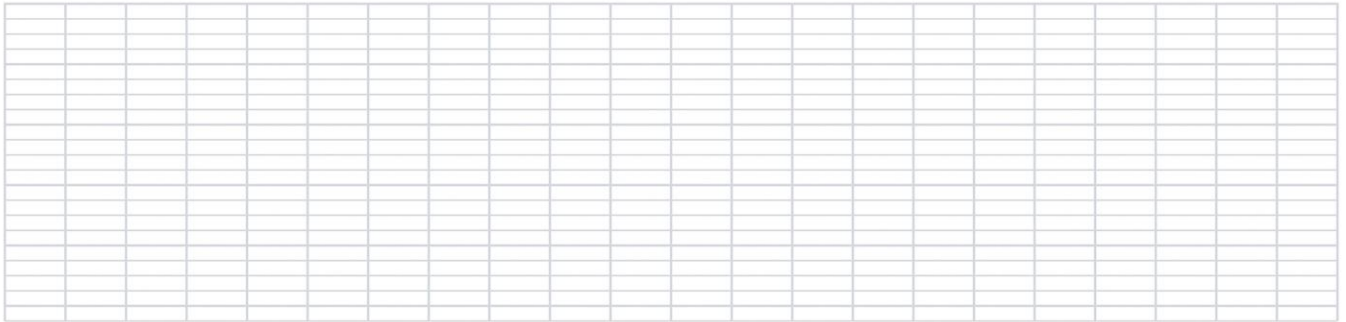
$508 + 51 + 24$



6 Résous les problèmes suivants. N'oublie pas d'écrire le calcul et la phrase réponse.

a. Chloé a 456 cartes postales dans son album et Inès en a 376.

**Combien de cartes postales ont-elles en tout ?**



b. Mathys a 587 petits cubes de construction. Il en a 135 de moins qu'Elliott.

**Combien de cubes Elliott possède-t-il ?**

