

Compte le nombre de doigts levés



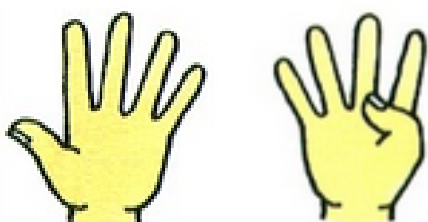
Le-stylo-de-vero.ekiablog.com

CALCUL



5

Compte le nombre de doigts levés




Le-stylo-de-vero.ekiablog.com

CALCUL



9

Compte le nombre de doigts levés



Le-stylo-de-vero.ekiablog.com

CALCUL



7

Compte le nombre de doigts levés




Le-stylo-de-vero.ekiablog.com

CALCUL



7

Combien d'euros y a-t-il dans le porte-monnaie ?




Le-stylo-de-vero.ekiablog.com

CALCUL



11

Combien d'euros y a-t-il dans le porte-monnaie ?




Le-stylo-de-vero.ekiablog.com

CALCUL



12

Combien d'euros y a-t-il dans le porte-monnaie ?



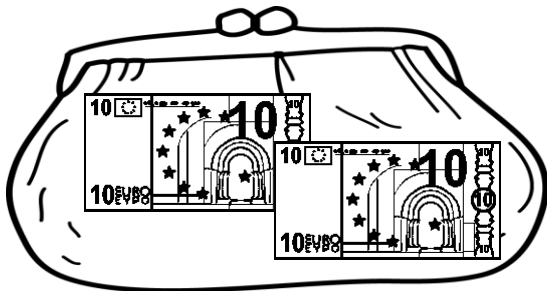
Le-stylo-de-vero.ekiablog.com

CALCUL



14

Combien d'euros y a-t-il dans le porte-monnaie ?



Le-stylo-de-vero.ekiablog.com


CALCUL



20

Compte de 2 en 2, quel est le nombre suivant ?

14 - 16 - 18 - ...



CALCUL




Le-stylo-de-vero.eklablog.com

20

Compte de 2 en 2, quel est le nombre suivant ?

9 - 11 - 13 - ...



CALCUL




Le-stylo-de-vero.eklablog.com

15

Compte de 5 en 5, quel est le nombre suivant ?

5 - 10 - 15 - ...



CALCUL



Le-stylo-de-vero.eklablog.com

20

Compte de 5 en 5, quel est le nombre suivant ?

3 - 8 - 13 - ...



CALCUL




Le-stylo-de-vero.eklablog.com

18

Compte de 10 en 10, quel est le nombre suivant ?

7 - 17 - 27 - ...



CALCUL




Le-stylo-de-vero.eklablog.com

37

Compte de 10 en 10, quel est le nombre suivant ?

9 - 19 - 29 - ...



CALCUL




Le-stylo-de-vero.eklablog.com

39

Compte de 3 en 3, quel est le nombre suivant ?

5 - 8 - 11 - ...



CALCUL



Le-stylo-de-vero.eklablog.com

14

Compte de 3 en 3, quel est le nombre suivant ?

12 - 15 - 18 - ...



CALCUL



Le-stylo-de-vero.eklablog.com

21

Il y avait 14 pommes sur le pommier.
5 pommes sont tombées.

Combien reste-t-il de pommes ?



$$14 + 5 = 19$$

ou

$$14 - 5 = 9$$

PROBLEME



Le-stylo-de-vero.eklablog.com

9

Arthur a 9 billes.
A la récréation, il en gagne 8 de plus

Combien a-t-il de billes ?



$$9 + 8 = 17$$

ou

$$9 - 8 = 1$$

PROBLEME



Le-stylo-de-vero.eklablog.com

17

Zoé a 8 robes dans son armoire.
Elle en a 3 de moins que Marie.

Combien de robes a Marie ?



$$8 + 3 = 11$$

ou

$$8 - 3 = 5$$

PROBLEME



Le-stylo-de-vero.eklablog.com

11

Zoé et Arthur ont 15 tomates.
Ils en mangent 6.

Combien leur reste-t-il de tomates ?



$$15 + 6 = 21$$

ou

$$15 - 6 = 9$$

PROBLEME



Le-stylo-de-vero.eklablog.com

9

Arthur a 10 crayons.
Zoé a 4 crayons de moins dans sa trousse.

Combien Zoé a-t-elle de crayons dans sa trousse ?



Zoé a crayons.

PROBLEME



Le-stylo-de-vero.eklablog.com

6

Arthur a 12 ans.
Il a 6 ans de plus que Zoé.
Quel âge a Zoé ?



Zoé a ans.



PROBLEME



Le-stylo-de-vero.eklablog.com

6

Il y a 12 gâteaux dans la pâtisserie.
Gribouille en mange 5.
Combien de gâteaux reste-t-il dans la pâtisserie ?



Il reste gâteaux.

PROBLEME



Le-stylo-de-vero.eklablog.com

7

Arthur achète un livre à 18 €.
Il paye 3 € de plus que Zoé.
Combien Zoé a-t-elle payé ?



Elle a payé €.

PROBLEME



Le-stylo-de-vero.eklablog.com

15