

Prénom : _____


Date : _____

Découvrir les nombres : Retrouver les décompositions des nombres inférieurs à 10. Comparer des quantités.


Complète les armoires avec des chapeaux ronds de deux couleurs en suivant les indications des calculs. Entoure l'armoire qui a le plus de chapeaux.




$$\dots + \dots = \dots$$




$$\dots + \dots = \dots$$




$$\dots + \dots = \dots$$




$$\dots + \dots = \dots$$




$$\dots + \dots = \dots$$



$$\dots + \dots = \dots$$



$$\dots + \dots = \dots$$



$$\dots + \dots = \dots$$

