

Prénom : _____

Date : _____



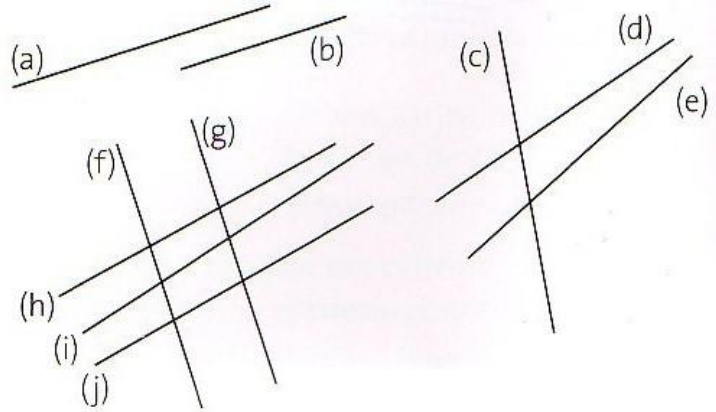
Espace et géométrie : Les droites parallèles et perpendiculaires

CM2

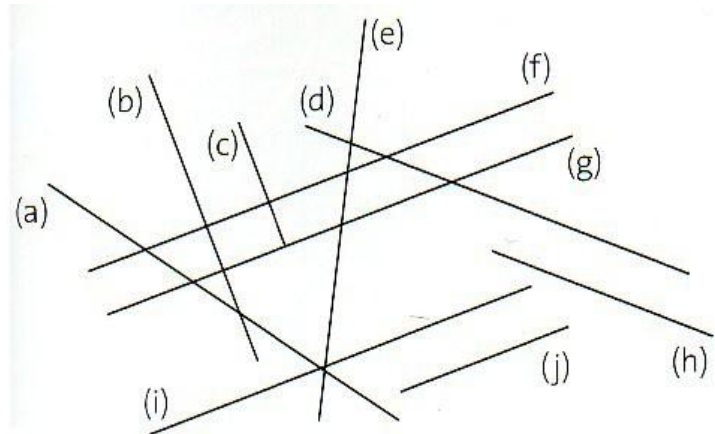
Fiche d'exercices n° 4
Leçon 2



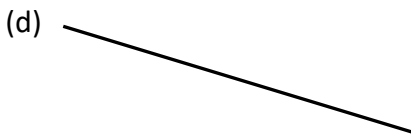
Exercice 1 : Nomme les droites parallèles.



Exercice 2 : Trouve les droites parallèles entre elles.



Exercice 3 : Trace une droite parallèle à la droite (d).



Exercice 4 : Trace une droite (f) parallèle à la droite (g) passant par le point A.



A
x