

Tu as 5 pingouins. Le premier et le dernier sont jaunes.

Le deuxième pingouin est vert.

Le pingouin rouge est avant le bleu.

Mets les pingouins dans l'ordre.

1

Tu as 6 pingouins de deux couleurs. Ils ne sont ni verts ni bleus. La moitié d'entre eux est rouge.

De quelle couleur sont les autres pingouins ?

2

Tu as 4 pingouins de deux couleurs. Le nombre de pingouins rouges est égal au nombre de pingouins verts.


Mets les pingouins dans l'ordre.

3

Tu as 7 pingouins de deux couleurs. 3 sont rouges. Il y a plus de pingouins verts que de rouges.

Aligne tes pingouins.

4




La Dornrad Klasse GP





La Dornrad Klasse GP



La Dornrad Klasse GP



La Dornrad Klasse GP



La Dornrad Klasse GP

Tu as 8 pingouins dans 4 couleurs différentes. Tu as le même nombre de pingouins dans chaque couleur.
Range tes 8 pingouins.

La Doudou Classe CP

5

Tu as 7 pingouins de deux couleurs. Le nombre de pingouins rouges est plus grand que le nombre de pingouins verts.

Combien as-tu de pingouins rouges et de pingouins verts ?

La Doudou Classe CP

7

Tu as 10 pingouins. Tu as un nombre plus petit de pingouins verts. Tu as un pingouin rouge et un pingouin jaune. Il y a un pingouin bleu de plus que la totalité des pingouins jaunes et verts. Aligne tes pingouins.

La Doudou Classe CP


6

Tu as 7 pingouins dans 3 couleurs. Deux sont jaunes. Le nombre de pingouins bleus est égal au nombre de pingouins jaunes. Il y a plus de pingouins verts que dans les autres couleurs. Aligne tes pingouins.



La Doudou Classe CP

8


La Dama de Classe CP




La Dama de Classe CP



La Dama de Classe CP



La Dama de Classe CP



Tu as 6 pingouins. 3 sont rouges.
Le nombre de pingouins bleus
est égal au nombre de pingouins
rouges. Combien de pingouins as
-tu dans chaque couleur ?

9

Tu as 6 pingouins dans 2
couleurs. Il y a deux pingouins
rouges de plus que les verts.
Aligne tes pingouins.

10

Tu as 5 pingouins de quatre
couleurs. 2 sont verts. Il y a le
même nombre de rouges et de
bleus.




Aligne tes pingouins.

11

Tu as 6 pingouins dans 4
couleurs. Le nombre de jaunes
est égal au nombre de rouges. Il
y a un peu plus de verts que de
jaunes.

De quelles couleurs sont tes
pingouins ?

12



La Dornrod Klasse GP

La Dornrod Klasse GP

La Dornrod Klasse GP

La Dornrod Klasse GP

Tu as 8 pingouins. Le premier est rouge. Le dernier est bleu. Il y a 3 pingouins verts juste avant le bleu. Les autres sont tous jaunes.

Aligne tes pingouins dans le bon ordre.

13

Tu as 10 pingouins de deux couleurs. Tu commences par un bleu et tu termines par un jaune. Un bleu ne peut pas suivre un autre bleu et un jaune ne peut pas suivre un autre jaune.

Mets tes pingouins dans l'ordre.

15



Tu as 9 pingouins. Le premier, le dernier et celui du milieu sont rouges. Il y a un groupe de 3 pingouins jaunes après le premier. Le reste des pingouins est vert. Aligne tes pingouins dans le bon ordre.

14

Tu as 4 pingouins. Tu en as un de chaque couleur. Le dernier est jaune. Le rouge n'est ni premier ni second. Le premier n'est pas vert.

Mets tes pingouins dans l'ordre.

16



La Dama de Classe CP

La Dama de Classe CP

La Dama de Classe CP

La Dama de Classe CP

Tu as 7 pingouins de 3 couleurs.
Il n'y a aucun pingouin rouge. Le
plus petit nombre de pingouins
est vert. Il y a autant de bleus
que de jaunes.
Aligne tes pingouins.

17

Tu as 12 pingouins. Tu as le
même nombre de pingouins de
chaque couleur.
Aligne tes pingouins.


18

Tu as 5 pingouins de quatre
couleurs. Deux sont rouges.
Aligne tes pingouins.


19

20


Tu as 7 pingouins. 3 sont rouges.
Il y a plus de pingouins verts que
de rouges .
Aligne tes pingouins.




La Dorrrod Classe CP



La Dorrrod Classe CP



La Dorrrod Classe CP



La Dorrrod Classe CP

