

Prénom :


Découvrir le lieu où j'habite

Evaluation

Compétences :

Localiser mon (mes) lieu(x) de vie et le(s) situer à différentes échelles.

1. Complète.

À différentes échelles 

Nom de ma commune :
.....

Noms de mon département :
.....

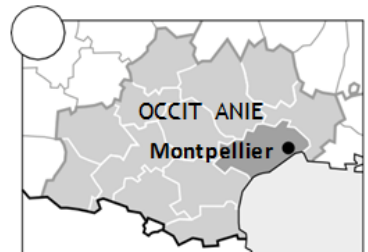
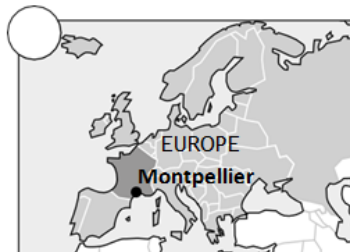
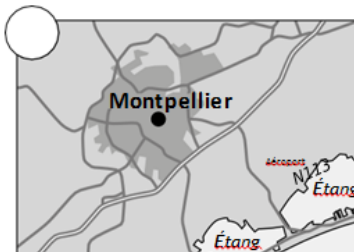
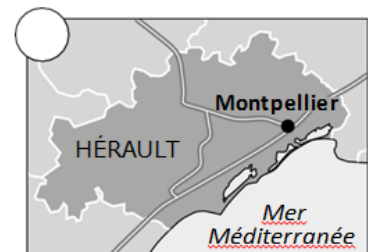
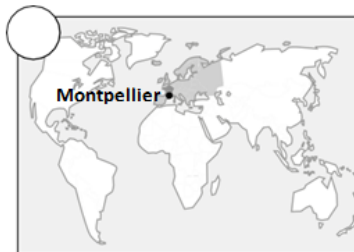
Nom de ma région :
.....

Mon pays :

Mon continent :

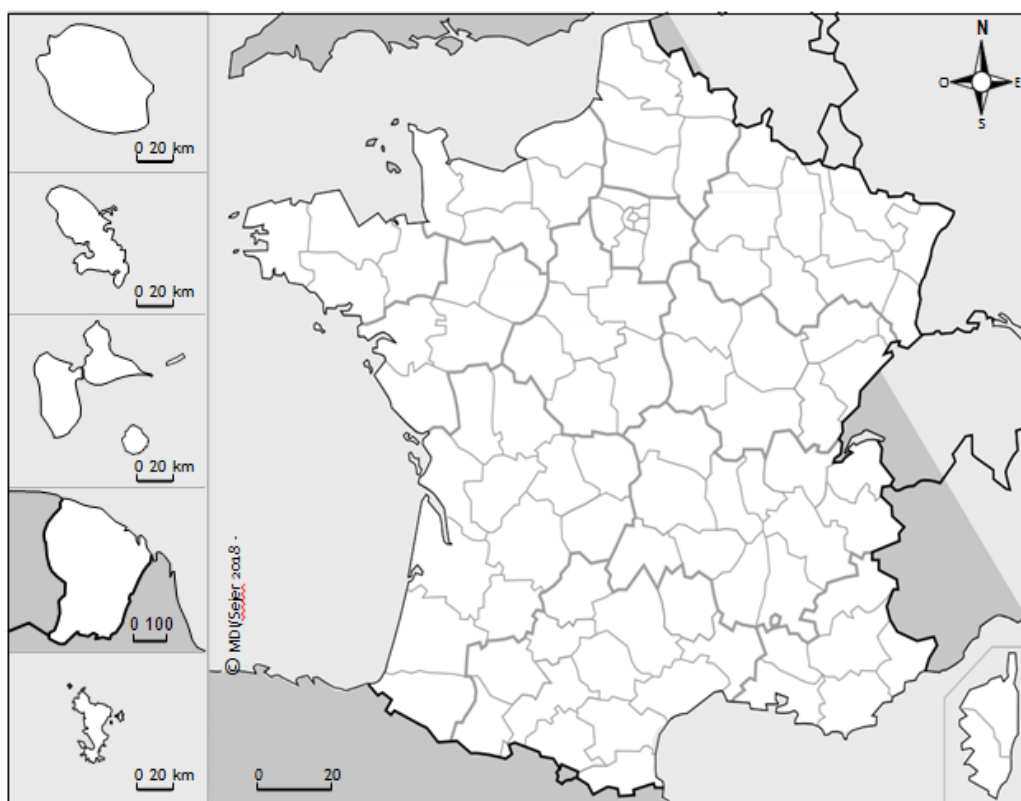
2. Observe ces 6 cartes : un même lieu de vie est situé à différentes échelles.

Numérote ces cartes dans l'ordre, du plus proche au plus lointain (de 1 à 6).



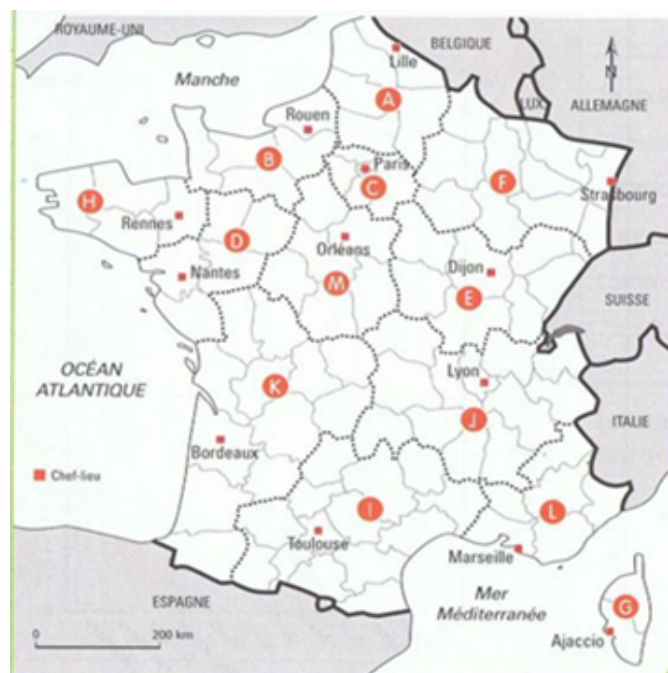
3. Situe ton lieu de vie sur la carte de France ci-dessous.

- a. En coloriant en jaune la région où il se situe.
- b. En coloriant en orange le département où il se situe.
- c. En faisant une croix rouge là où il se situe.



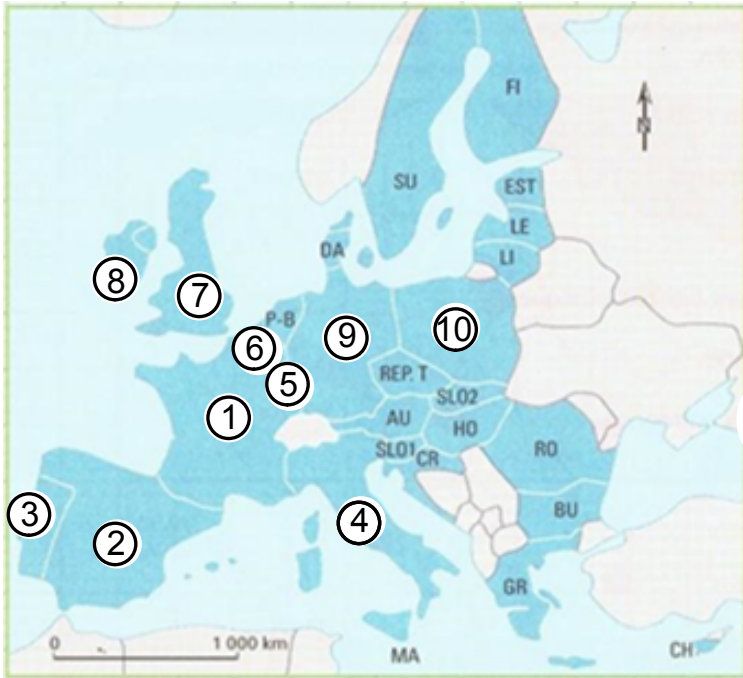
4. En regardant la carte, complète la liste des régions françaises de métropole.

- A :
- B :
- C :
- D :
- E :
- F :
- G :
- H :
- I :
- J :
- K :
- L :



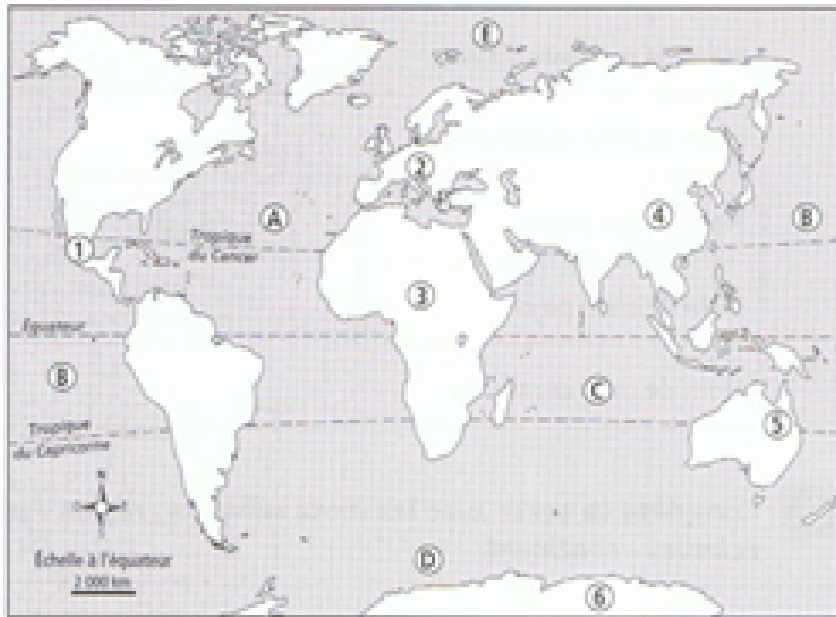
- L :

5. En regardant la carte, complète la liste des pays de l'Union Européenne . Barre le pays qui est sorti de l'Union européenne cette année.



①	⑥
AU:	LE:
②	LI:
BU:	⑦
CH:	MA:
CR:	P-B:
DA:	⑧
③	⑨
EST:	REP.T:
FI:	RO:
④	⑩
GR:	SLO 1:
HO:	SLO 2:
⑤	SU:

6. Complète le tableau en regardant le planisphère.



Océans	Continents
A :	1 :
B :	2 :
C :	3 :
D :	4 :
E :	5 :
	6 :

7. Relie chaque mot à sa définition.

une région ★

★ Pays ou personnes chargées de l'organiser

l'état ★

★ Ensemble de personnes chargées d'organiser la vie de la région

le lieu de vie ★

★ Division administrative du territoire français

le conseil régional ★

★ Division administrative du territoire français, composée d'un ou plusieurs départements

un département ★

★ Endroit où nous habitons et les lieux que nous fréquentons régulièrement

une commune ★

★ Plus petite division administrative du territoire français