

Je sais écrire le son [g] correctement.

○ 1. Orthographe 

Complète les mots avec g ou gu :

laêpe la lon.....eur

uneoutte un ma.....asin



un ba.....age se dé.....iser

laare leide ri.....oler

○ 2. Orthographe 

Classe les mots dans 2 colonnes :


un garçon, la mangue, rouge
manger, la glace, la magie,
les genoux, la guirlande

J'entends 	J'entends 
.....
.....
.....

Je comprends ce que je lis.

○ 1. Lecture 

Fais la fiche *Lecture de consigne*
sur *l'école*

○ 2. Lecture 

Fais la fiche *Lecture de consigne*
sur *Le marché*

Je connais le nombre et le genre des noms.


○ 1. Grammaire 

Transforme les groupes suivants au pluriel.

la longueur – un voyage

ma bague – la guitare

la guêpe – une glace

○ 2. Grammaire 

Classe en 2 colonnes les noms suivants :


un animal un canapé
une fenêtre le chat
la chaise la maison
le calcul l'écriture

masculin	féminin
.....
.....
.....

Je sais ranger les lettres dans l'ordre alphabétique.




○ 1. Vocabulaire 




Fais la fiche sur *l'ordre alphabétique.*

○ 2. Vocabulaire 

Range ces lettres dans l'ordre alphabétique :

- O U E A Y I
- G Q K C S B
- T F M H P J

Je connais les compléments à 10.	
○ 1. Calcul	
..... + = 10 + = 10
..... + = 10 + = 10
..... + = 10 + = 10
..... + = 10 + = 10
○ 2. Calcul	
vingt + trois = ...	douze + deux = ...
trente + cinq = ...	onze + quatre = ...
dix + trois = ...	seize + quatre = ...
quatre-vingt-treize + un = ...	
○ 3. Calcul	
vingt + trente = ...	dix + quarante = ...
trente + trente = ...	quarante + vingt = ...
vingt + vingt = ...	soixante + vingt = ...
trente + dix = ...	cinquante + vingt = ...

Je connais les dizaines et les unités	
○ 1. Numération	
Recopie et complète:	
10 + 10 + 10 + 10 + 5 = ...	
10 + 10 + 10 + 9 = ...	
10 + 10 + 10 + 10 + 10 + 2 = ...	
10 + 10 + 10 + 10 + 3 = ...	
10 + 10 + 4 = ...	
..... = 31	
..... = 56	
..... = 45	
..... = 61	
○ 2. Numération	
1. Écris tous les nombres de 2 chiffres qui ont 4 dizaines :	
2. Écris tous les nombres de 2 chiffres situés entre 12 et 59 et qui ont 5 unités :	
○ 3. Numération	
1. Trouve un nombre plus petit que 44 mais plus grand que 27 ayant 5 unités.	
2. Trouve un nombre plus grand que 17 mais plus petit que 32 ayant 6 unités.	

Prénom :

Colorie les jours du plan au fur et à mesure :

