


Prénom : _____

Le jardinier a planté des salades



Écrit le nombre de salades en face de chaque ligne, puis sous chaque colonne.


Calcule de deux manières le nombre de salades.

Par colonne

_____ + _____ + _____ + _____ = _____

Par ligne :

_____ + _____ + _____ + _____ + _____ + _____ = _____



L'addition réitérée

■ Je calcule le nombre d'œufs :

en ligne : _____ + _____ + _____

en colonne : _____ + _____ + _____ + _____

_____ + _____ + _____ = _____ + _____ + _____ + _____



3 termes

4 termes

_____ fois _____ œufs = _____ fois _____ œufs.

Il y a _____ œufs.

Calcule et complète.

$2 + 2 + 2 + 2 + 2 = \underline{\quad} \Rightarrow$ c'est _____ fois 2.

$6 + 6 + 6 = \underline{\quad} \Rightarrow$ c'est _____ fois 6.

$3 + 3 + 3 + 3 = \underline{\quad} \Rightarrow$ c'est _____ fois _____.

4 fois 5 \Rightarrow _____ + _____ + _____ + _____ = _____

2 fois 7 \Rightarrow _____ = _____

5 fois 4 \Rightarrow _____ = _____

Le produit de deux nombres

■ On peut dire :

6 rangées de 4 chocolats :

_____ + _____ + _____ + _____ + _____ + _____ = _____ \times _____ (4 multiplié par 6)

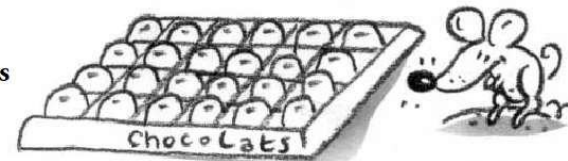
ou

4 rangées de 6 chocolats :

_____ + _____ + _____ + _____ = _____ \times _____ (6 multiplié par 4)

■ On peut écrire que : _____ \times _____ = _____ \times _____ = _____

Les produits 6×4 et 4×6 sont égaux à 24.



Observe l'immeuble de Miguel et réponds aux questions.

■ Combien y a-t-il d'étages ? _____

■ Combien y a-t-il de fenêtres par étage ? _____

■ Combien y a-t-il de fenêtres

en tout

sur cette façade ? _____

= _____

