




1. 
 $9 - 7 =$

2. 
 $5 - 3 =$

3. 
 $6 - 5 =$


4. 
 $8 - 6 =$


5. 
 $5 - 3 =$


6. 
 $6 - 3 =$


7. 
 $8 - 7 =$

8. 
 $8 - 5 =$

9. 
 $10 - 7 =$

10. 
 $7 - 4 =$

11. 
 $4 - 2 =$

12. 
 $6 - 4 =$

