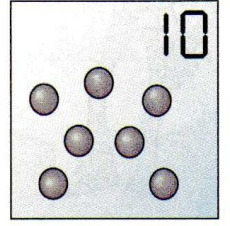
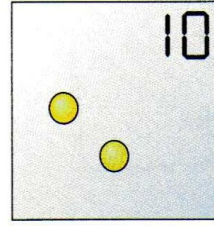
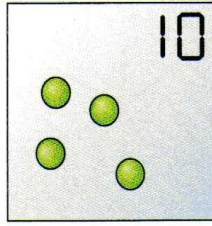
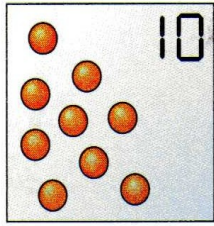
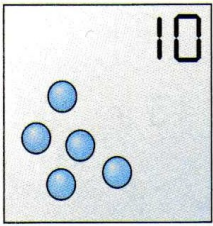


Calcul : les compléments à 10



1

Ajoute les points qui manquent pour faire 10. Complète les additions.



$5 + \dots = 10$

$9 + \dots = 10$

$4 + \dots = 10$

$2 + \dots = 10$


$7 + \dots = 10$

2

J'ai 10 balles, des jaunes et des rouges. Il y a 4 balles rouges.

Colorie toutes les balles.


Combien y a-t-il de balles jaunes ?



$4 + \dots = 10$

3

Complète les étiquettes pour que la somme fasse 10



$\dots + 9$

$5 + \dots$

$7 + \dots$

$1 + \dots$

$8 + \dots$

$10 + \dots$

4

Complète chaque losange pour que la somme fasse 10

