

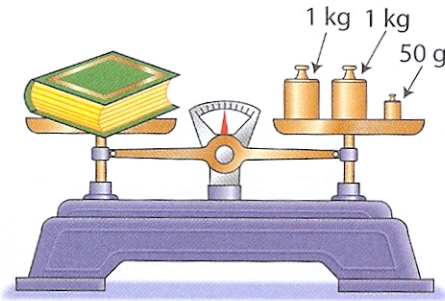
Prénom : .....

# MESURES


Date : ..... / ..... / .....

## Les unités de masse.

1. Ecris la masse des objets pesés.

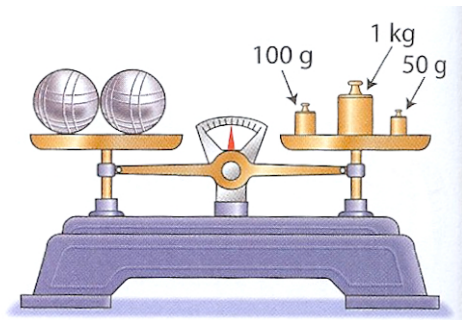


Masse du dictionnaire : .....



Masse de la boîte de sucre : .....

2. Quelle est la masse des deux boules ?



Masse des deux boules : .....

Masse d'une boule : .....

3. Observe l'exemple et complète.

1 kg 450 g	1 450 g
	2 340 g
5 kg 200 g	
	3 080 g
2 kg 50 g	



4. Combien pèse chaque enfant ?

Anna pèse .....

Léa pèse .....



48 kg 500 g



26 kg 350 g

