

Défi calcul mental n°17





Compétence travaillée : Connaître la table de 3

...../ 20 points

1/ Ecris seulement le résultat.

2/ Problème :

3/ Calcule le plus rapidement possible.

<input type="checkbox"/>		<input type="checkbox"/>		<input type="checkbox"/>	
--------------------------	---	--------------------------	---	--------------------------	---

$3 \times \dots = 21$

$3 \times \dots = 9$

$3 \times \dots = 27$

$3 \times \dots = 15$

$3 \times \dots = 24$

$3 \times \dots = 18$

© Les trouvailles de KarINETTE

Défi calcul mental n°17






Compétence travaillée : Connaître la table de 3

...../ 20 points

1/ Ecris seulement le résultat.

2/ Problème :

3/ Calcule le plus rapidement possible.

<input type="checkbox"/>		<input type="checkbox"/>		<input type="checkbox"/>	
--------------------------	---	--------------------------	---	--------------------------	---

$3 \times \dots = 21$

$3 \times \dots = 9$

$3 \times \dots = 27$

$3 \times \dots = 15$

$3 \times \dots = 24$

$3 \times \dots = 18$

© Les trouvailles de KarINETTE