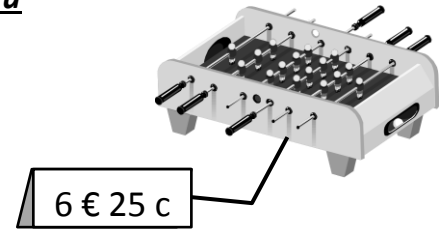
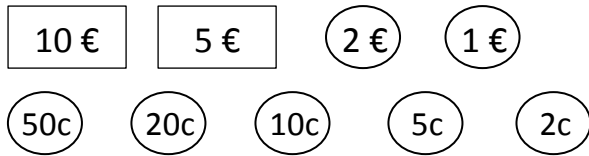




Ton prénom : \_\_\_\_\_

1. Colorie les billets et les pièces nécessaires pour acheter ce jeu



2. Colorie de la même couleur la figure géométrique et sa description.

Ses 3 côtés sont de longueurs différentes

Elle a 5 sommets

Ses 4 côtés sont de même longueur

3. Classe ces nombres du plus petit au plus grand : 75 / 15 / 175 / 94

..... < ..... < ..... < .....

4. Complète les phrases :

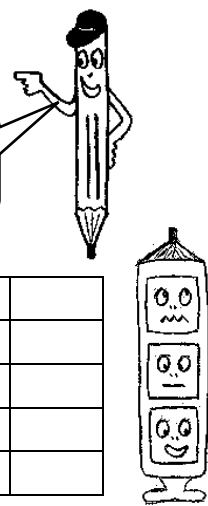
Dans 1 mètre, il y a ..... centimètres.

Si je coupe 1 m en deux morceaux identiques, chaque morceau mesure ..... cm

5. Au début de la partie, Pauline a 5 billes et Elise a 7 billes.

Pauline a ..... de billes qu'Elise.

Pauline a-t-elle plus ou moins de billes qu'Elise ?



Je sais compter avec les euros et centimes d'euros (exercice 1)	
Je connais certaines propriétés des figures usuelles (exercice 2)	
Je sais comparer des grands nombres (exercice 3)	
Je connais des ordres de grandeurs des longueurs (exercice 4)	
Je sais résoudre un problème additif faisant intervenir des comparaisons (exercice 5)	