




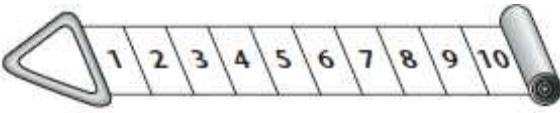
## Calculer une somme : surcompter

1.  Colorie comme dans l'exemple, puis  complète le résultat.

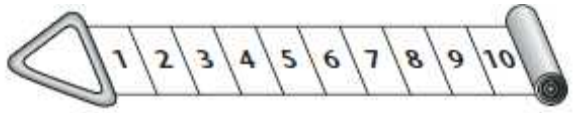
Exemple :




$4+3 = \dots$



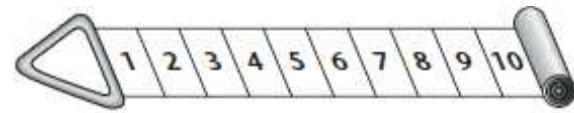
$5+2 = \dots$






$6+3 = \dots$




$7+2 = \dots$





$6+4 = \dots$


2. Calcule en ajoutant des doigts: +1  +2  +3 

$6 + 2$   = \_\_\_\_\_

$7 + 3$   = \_\_\_\_\_

$5 + 1$   = \_\_\_\_\_

$5 + 3$   = \_\_\_\_\_

$7 + 2$   = \_\_\_\_\_

$9 + 1$   = \_\_\_\_\_

$6 + 3 =$  \_\_\_\_\_

$8 + 2 =$  \_\_\_\_\_

$7 + 1 =$  \_\_\_\_\_

$4 + 2 =$  \_\_\_\_\_

$5 + 4 =$  \_\_\_\_\_

$3 + 3 =$  \_\_\_\_\_

3.  Relie chaque étiquette au dessin qui lui correspond.

$2 + 4 + 6$

$3 + 5 + 4$

$4 + 6 + 2$

$2 + 6 + 4$

$5 + 4 + 3$

$3 + 4 + 5$

