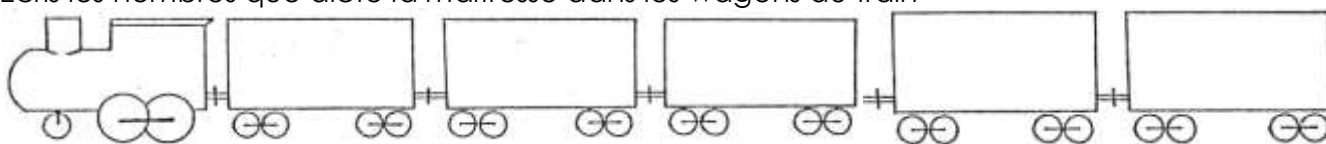


Mathématiques CP (période 1)

Dictée de nombres

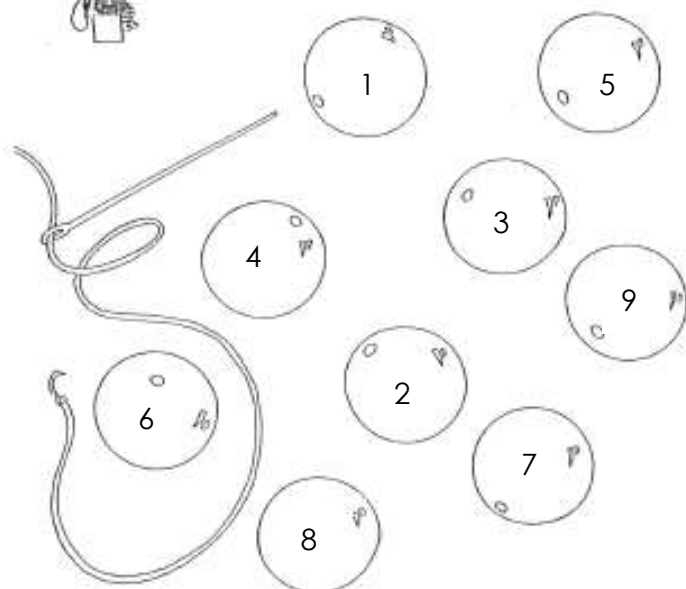
Ecris les nombres que dicte la maîtresse dans les wagons du train



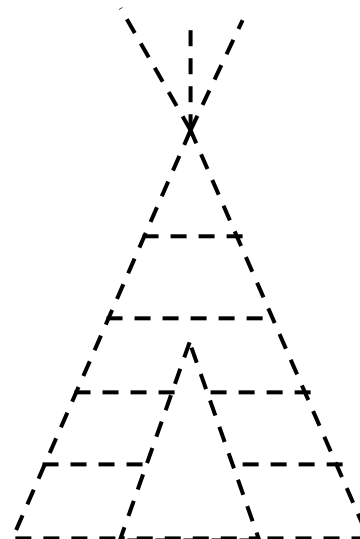
Numération :



ENFILE LES PERLES DANS L'ORDRE.



Géométrie : « Trace le tipi indien ci-dessous »



Calculs :

$$2 + 3 =$$

$$2 + 1 =$$

$$2 + 2 =$$

$$4 + 2 =$$

$$1 + 1 =$$

$$3 + 1 =$$

Coloriage magique :

Colorie le robot selon le code.

3 : noir

4 : jaune

5 : rouge

6 : vert

7 : bleu

