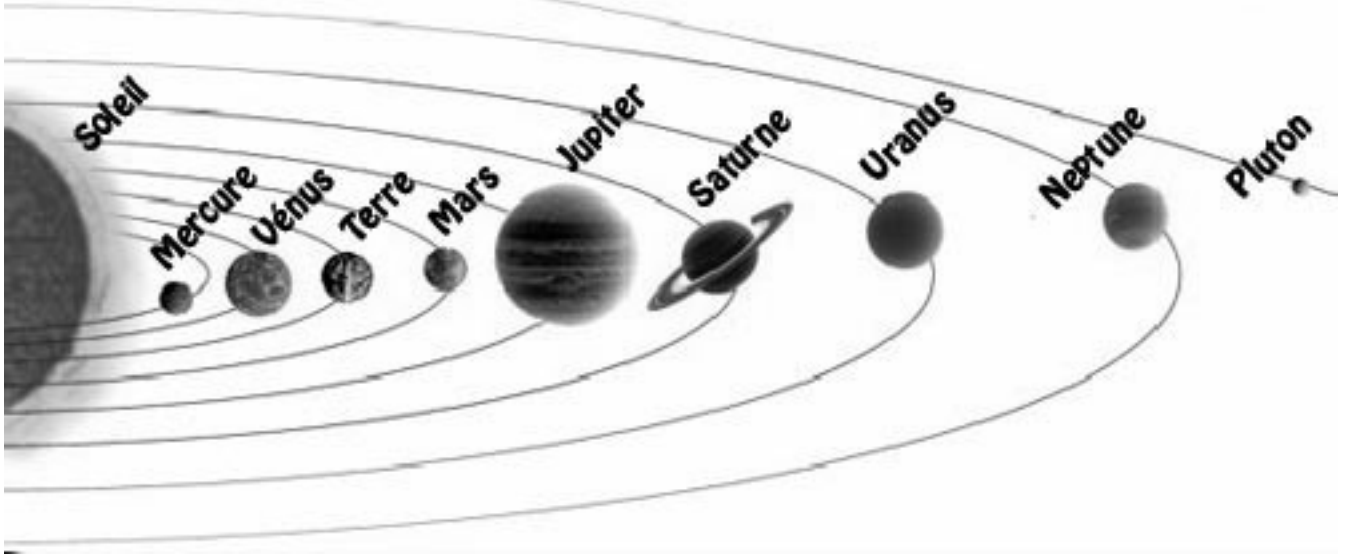


La Terre

Le système solaire

(Attention, sur ce schéma, les tailles et les distances ne sont pas respectées.)

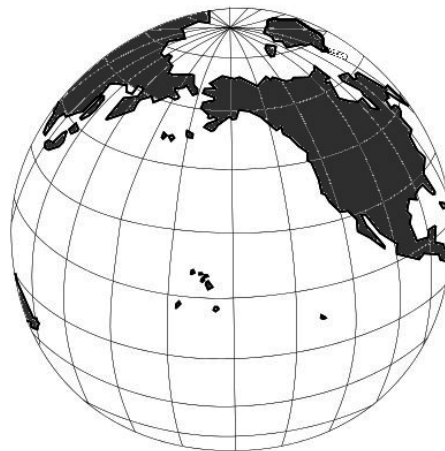
Depuis 2006, Pluton ne fait plus partie des planètes de notre système. Elle est classée « planète naine ».



La Terre est la _____ planète de notre système solaire.

Elle a la forme d'une énorme _____.

Elle est en grande partie recouverte par les _____ et les _____.



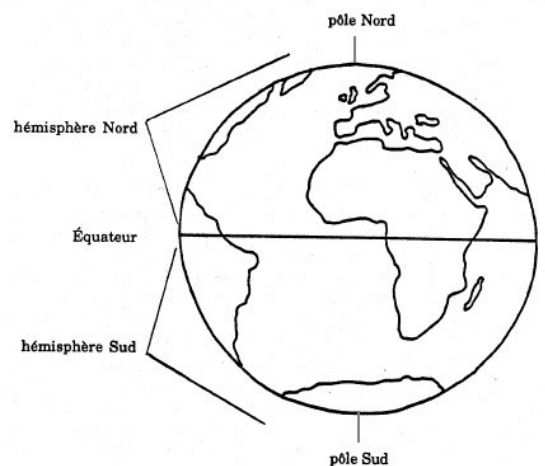
Colorie les mers et océans en bleu.

Pour se repérer, on a créé une ligne imaginaire, à égale distance des deux pôles, qui s'appelle _____.

L'équateur partage la Terre en deux parties :

- _____ Nord

- _____ Sud




On peut représenter la Terre grâce à un _____

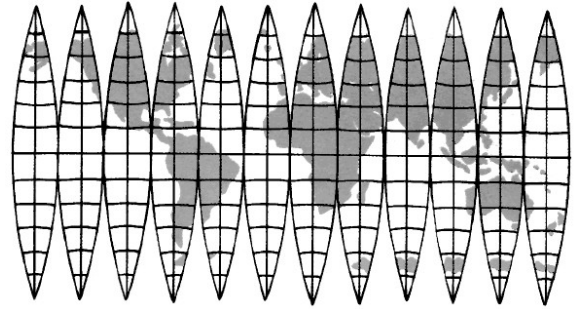
(maquette en plus petit).



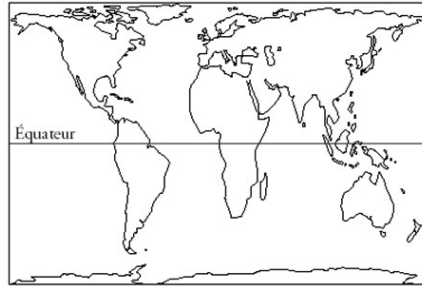
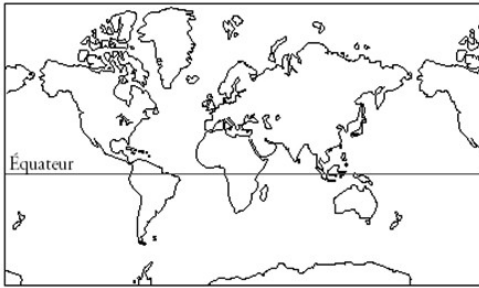
Mais si on veut la représenter à plat, il faut la découper, comme on pèle une orange.



On obtient quelque chose de plat mais avec des vides qu'il va falloir remplir. On va donc déformer certaines parties.



Selon la manière de découper, on va obtenir des _____ très différents :



Pour voir les déformations, colorie par exemple le Groenland en rouge.

La partie émergée de la Terre est composée de six _____ :

- L' _____ , qui est formé de deux grandes parties (Nord et Sud)

- L' _____ (Madagascar est rattaché à ce continent)

- L' _____ Ces deux continents ne sont pas séparés par une mer ou un océan.

- L' _____ , qui est un ensemble d'îles.

- L' _____ , qui est inhabité et recouvert de glace.

Les continents sont séparés par cinq _____ :

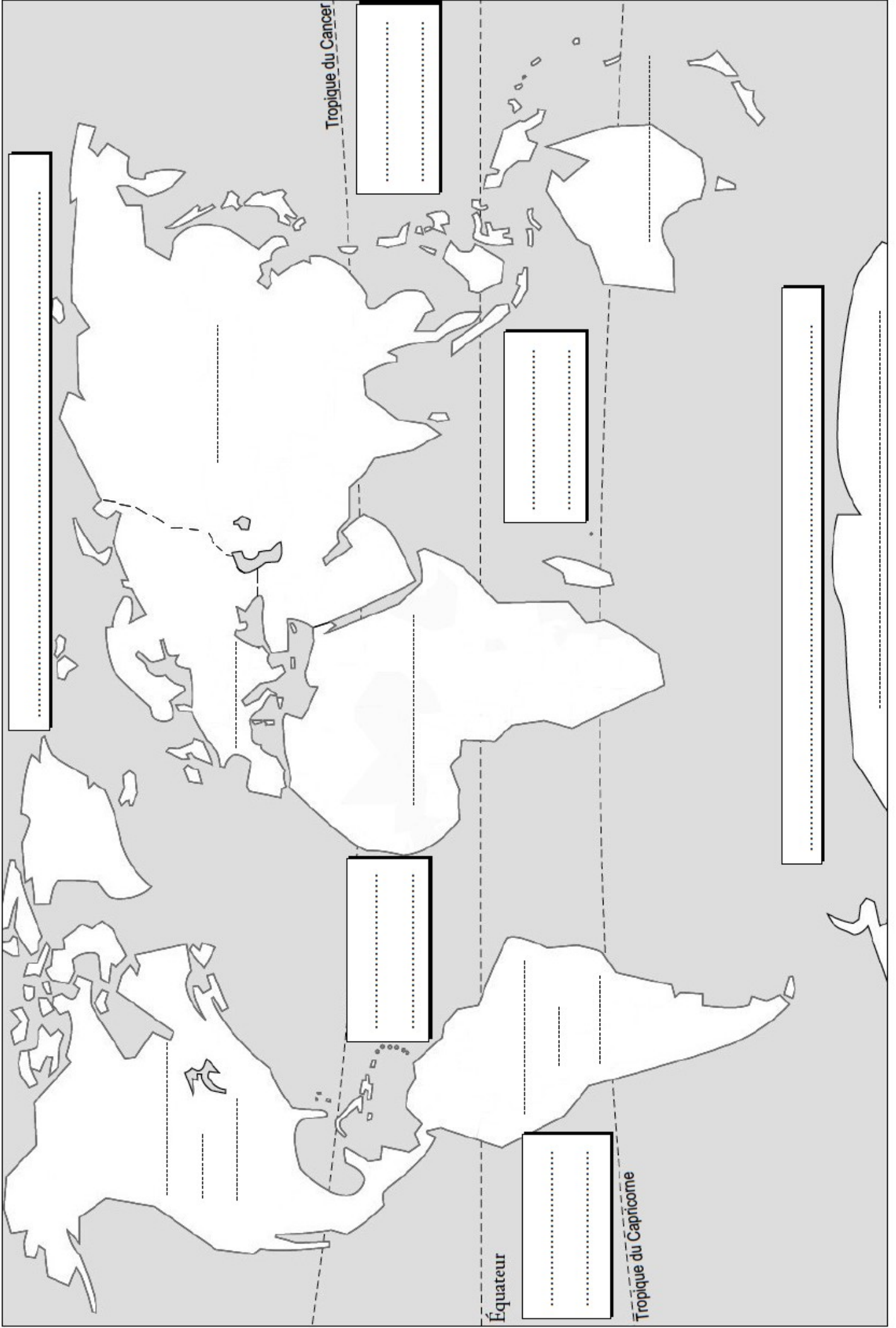
- L' _____ (C'est le plus grand. Il recouvre un tiers de la planète.)

- L' _____ (Il sépare l'Amérique de l'Europe et l'Afrique.)

- L' _____ (Il est presque entièrement dans l'hémisphère Sud.)

- L' _____ (Il est recouvert d'une épaisse couche de glace.)

- L' _____ (Il entoure l'Antarctique.)



Tropique du Cancer

.....
.....

.....
.....

.....

.....
.....

.....
.....

Équateur

Tropique du Capricorne