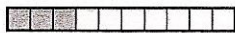


1 Écris le nombre décimal et la fraction qui correspondent à la partie coloriée de l'unité.




..... = $\frac{\dots}{10}$




..... = $\frac{\dots}{\dots}$



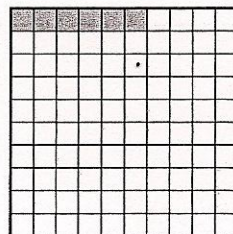
..... = $\frac{\dots}{\dots}$



..... = $\frac{\dots}{100}$




..... = $\frac{\dots}{\dots}$



..... = $\frac{\dots}{\dots}$

2 Écris le nombre décimal indiqué par chaque lettre sur le segment.



A indique B indique C indique D indique

3 Écris les nombres proposés dans le tableau associé, puis complète avec <, = ou >.

2,01 1,99

Partie entière	Partie décimale	
unités	dixièmes	centièmes
,		
,		

1,68 1,72

Partie entière	Partie décimale	
unités	dixièmes	centièmes
,		
,		

3,5 3,05

Partie entière	Partie décimale	
unités	dixièmes	centièmes
,		
,		

4,90 4,9

Partie entière	Partie décimale	
unités	dixièmes	centièmes
,		
,		