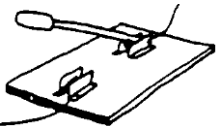

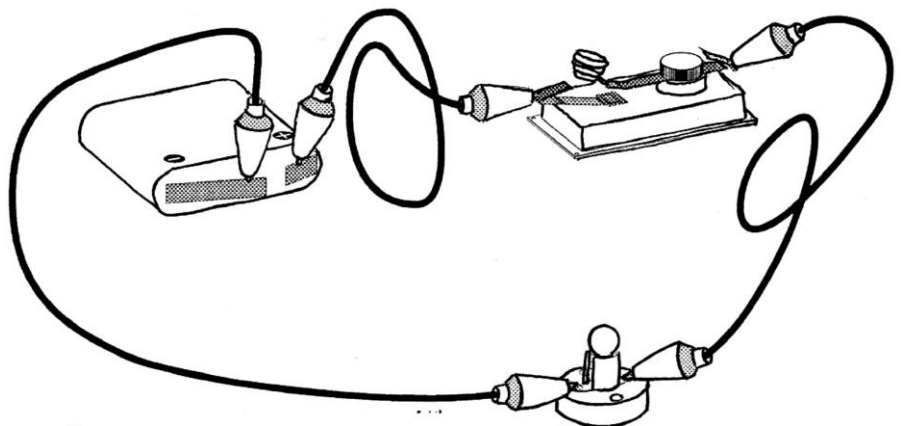


1. Je fais connaissance avec le matériel

Nom	dessin	symbole
<i>Interrupteur</i>		

2. Utilisons un interrupteur

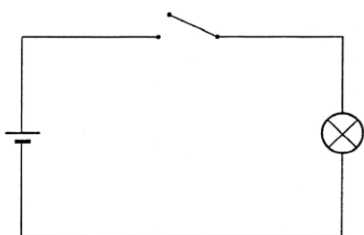
Que devais-tu faire dans le 1^{er} montage pour éteindre l'ampoule ? **enlever un fil**
Observe le dessin puis construis le montage.



Que dois-tu faire pour que l'ampoule s'allume ? : **fermer le circuit**

A quoi sert l'interrupteur ? : **Il permet de fermer le circuit**

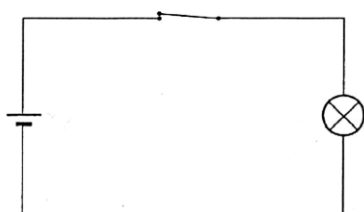
3. Voici le schéma du circuit que tu viens de réaliser.



Interrupteur ouvert

Que fait l'ampoule ?

Elle reste éteinte



Interrupteur fermé

Que fait l'ampoule ?

L'ampoule s'allume

Symboles:



= interrupteur ouvert.

= interrupteur fermé.