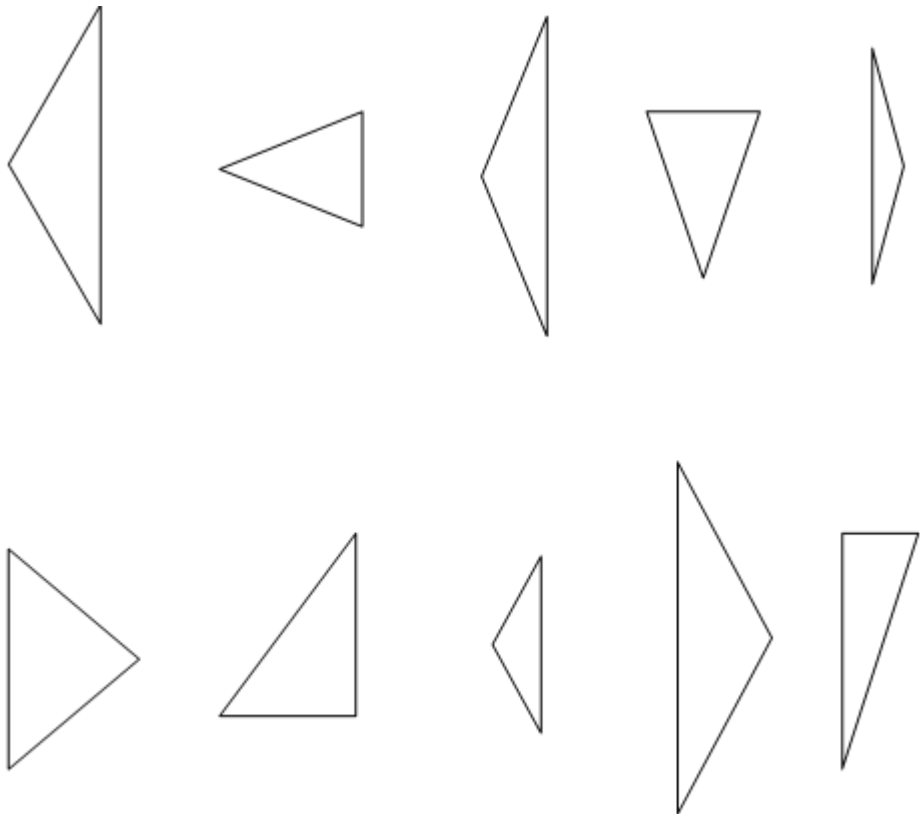


# Classements des triangles : exercices.

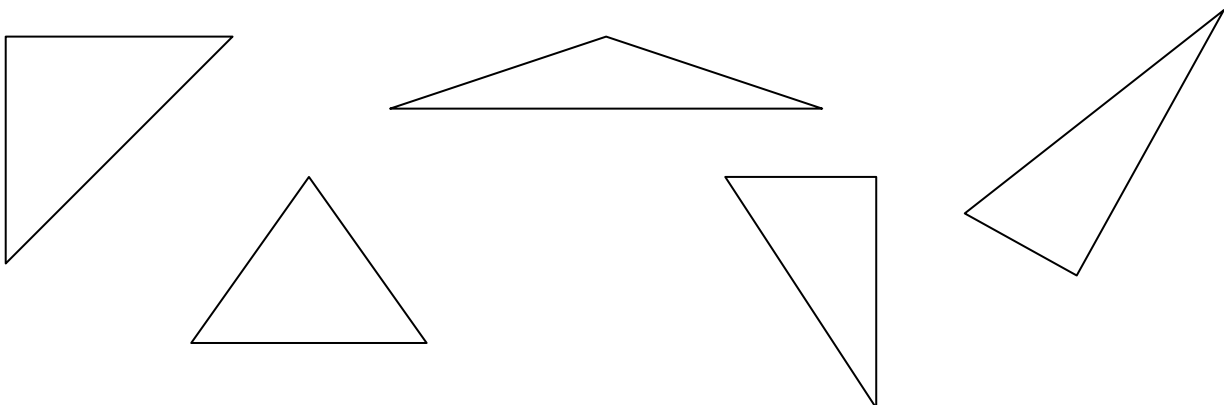
Prénom : .....

## PARTIE 2 : Le classement selon les angles.

Colorie en bleu les triangles rectangles, en jaune les triangles obtusangles et en marron les triangles acutangles.



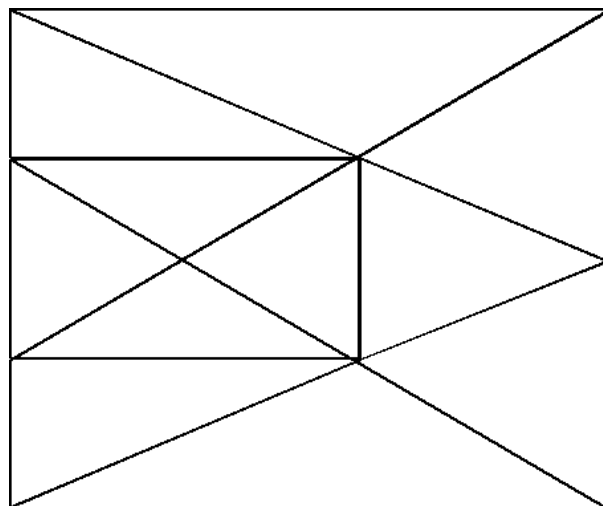
Indique s'il s'agit d'un triangle acutangle (A), obtusangle (O) ou rectangle (R).



Ce tableau te donne les mesures des angles de différents triangles. Note s'il s'agit d'un triangle acutangle (A), obtusangle (O) ou rectangle (R).

<i>Angle 1</i>	<i>Angle 2</i>	<i>Angle 3</i>	<i>A, O ou R</i>
90 °	45°	45°	
35°	35 °	110°	
60°	60°	60°	
40°	80°	60°	
30°	60°	90°	

Colorie uniquement les triangles obtusangles.



Trace, avec ta latte et ton équerre, un triangle rectangle.

