



Prénom : .....

J'ai **2 semaines** pour faire ce travail.

Lorsque j'ai terminé un atelier, je précise si j'ai eu des difficultés (je colorie la case).

Jour 1

<b>1</b>	Rituel	J'ai compris.	C'est difficile.	Aide	<b>1</b>
----------	--------	---------------	------------------	------	----------

Entoure le nombre de dizaines en rouge.

2 654 / 4 850 / 3 120

Rituel	J'ai compris.	C'est difficile.	Aide	<b>2</b>
--------	---------------	------------------	------	----------

Décompose le nombre 5 (avec 3 nombres)

5 = .....

5 = .....

Calcul mental	J'ai compris.	C'est difficile.	Aide	<b>3</b>
---------------	---------------	------------------	------	----------

Jeu : « La guerre du potager. »

Qui a gagné ? .....

Colle la feuille sur ton cahier du jour.

Calcul mental	J'ai compris.	C'est difficile.	Aide	<b>4</b>
---------------	---------------	------------------	------	----------

Colorie et trouve l'intrus	Calcul du jour, j'y cours ...				CE2 / 1
	5€ + 5€	9€	5€ + 2€ + 1€	4€	12€
	5€ + 2€	2€ + 2€ + 2€	10€	5€ + 5€ + 2€	8€
	7€	2€ + 2€	5€ + 1€ + 2€ + 1€	11€	6€

Je calcule : somme de billets et de pièces.

Jour 2

Rituel	J'ai compris.	C'est difficile.	Aide	<b>5</b>
--------	---------------	------------------	------	----------

Entoure le nombre de dizaines en rouge.

7 015 / 4 900 / 9 018

Rituel	J'ai compris.	C'est difficile.	Aide	<b>6</b>
--------	---------------	------------------	------	----------

Décompose le nombre 5 (avec 3 nombres)

100 = .....

100 = .....

Calcul mental	J'ai compris.	C'est difficile.	Aide	<b>7</b>
---------------	---------------	------------------	------	----------

Colorie les carrés dans la table de Pythagore.

x	0	1	2	3	4	5	6	7	8	9	10
0	0	0	0	0	0	0	0	0	0	0	0
1	0	1	2	3	4	5	6	7	8	9	10
2	0	2	4	6	8	10	12	14	16	18	20
3	0	3	6	9	12	15	18	21	24	27	30
4	0	4	8	12	16	20	24	28	32	36	40
5	0	5	10	15	20	25	30	35	40	45	50
6	0	6	12	18	24	30	36	42	48	54	60
7	0	7	14	21	28	35	42	49	56	63	70
8	0	8	16	24	32	40	48	56	64	72	80
9	0	9	18	27	36	45	54	63	72	81	90
10	0	10	20	30	40	50	60	70	80	90	100

Calcul mental	J'ai compris.	C'est difficile.	Aide	<b>8</b>
---------------	---------------	------------------	------	----------

Sur l'ardoise

Prends ton porteclé des tables.

Interroge un camarade sur **10 calculs** (tables de 2 à 6).

Ensuite c'est à ton tour.

Calcul mental	J'ai compris.	C'est difficile.	Aide	<b>9</b>
---------------	---------------	------------------	------	----------

Pose et calcul vite

63 X 2 puis 38 X 5

↗

↘

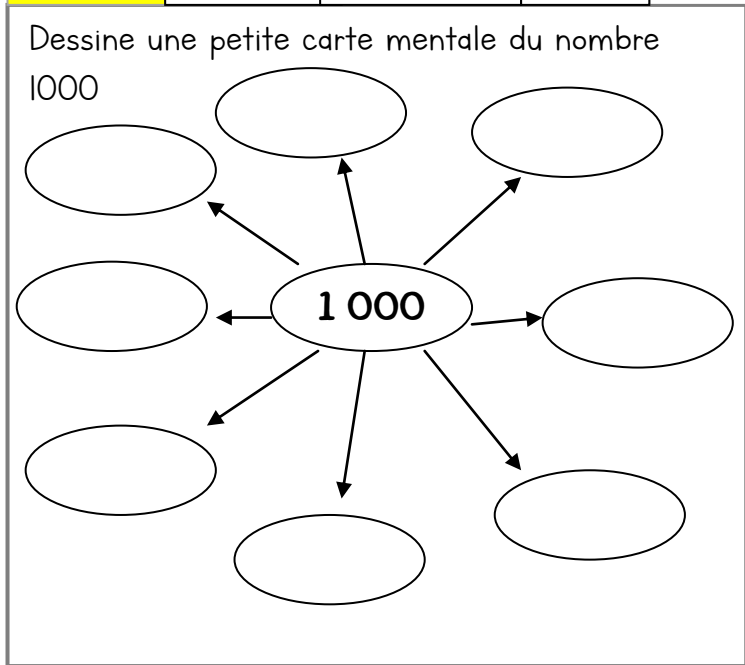
Rituel	J'ai compris.	C'est difficile.	Aide	10
--------	---------------	------------------	------	----

Décompose le nombre 1 000 (avec 3 nombres)

1 000 = .....

1 000 = .....

Rituel	J'ai compris.	C'est difficile.	Aide	11
--------	---------------	------------------	------	----



Calcul mental	J'ai compris.	C'est difficile.	Aide	12
---------------	---------------	------------------	------	----

1/ Barre ce qui est en trop pour faire la somme demandée

7 € 50	5 € 50

Rituel	J'ai compris.	C'est difficile.	Aide	13
--------	---------------	------------------	------	----

Choisis un encadrement pour ces nombres :

**545 et 181**

.....

.....

Calcul mental	J'ai compris.	C'est difficile.	Aide	15
---------------	---------------	------------------	------	----

Colonne et trouve l'intrus	Calcul du jour, j'y cours ... 🏃 🏃 🏃				CE2 / 2
	5€+5€+ 5€	9€	5€+5€+ 1€	17€	11€
	2€+1€	2€+2€+ 5€	6€	2€+2€+ 2€+1€	10€
	3€	2€+5€+ 5€+5€	5€+2€+ 2€+1€	15€	7€
Je calcule : somme de billets et de pièces.					

Calcul mental	J'ai compris.	C'est difficile.	Aide	14
---------------	---------------	------------------	------	----

Sur l'ardoise

**Entraîne-toi à ajouter 150 à un nombre !**

- Choisis un nombre plus grand que 1000. Ajoute 150. Vérifie si tu as bon avec la calculatrice.

Ajouter 150 c'est d'abord ajouter 100, puis ajouter 50 ou alors c'est ajouter 15 dizaines.

**Refais ça 10 fois !**

Calcul mental	J'ai compris.	C'est difficile.	Aide	16
---------------	---------------	------------------	------	----

La cible : Avec ces 3 flèches, combien ai-je obtenu ?

..... points

Bilan de la semaine. J'ai fait tous les exercices

Je n'ai pas terminé :

J'ai trouvé difficile les exercices : .....

Bilan de la maîtresse :

Rituel	J'ai compris.	C'est difficile.	Aide	17
--------	---------------	------------------	------	----

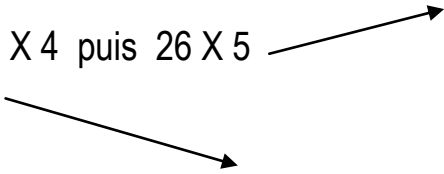
Sur l'ardoise

Pioche une carte « centaines, dizaines, unités ». Dicte le nombre à ton camarade. Puis c'est à son tour.

Calcul mental	J'ai compris.	C'est difficile.	Aide	19
---------------	---------------	------------------	------	----

Pose et calcul vite

32 X 4 puis 26 X 5



Rituel	J'ai compris.	C'est difficile.	Aide	18
--------	---------------	------------------	------	----

Sur une feuille blanche :

« Tracer un segment de 10 cm. Placer son milieu. Tracer un losange dont le segment précédent est une diagonale. »

Colle ton travail sur le cahier du jour.

Rituel	J'ai compris.	C'est difficile.	Aide	20
--------	---------------	------------------	------	----

Ecris tous les nombres possibles avec ces chiffres.

**2 - 5 - 8 - 9**

.....  
 .....  
 .....  
 .....

J'ai trouvé ..... nombres.

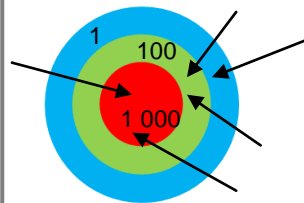
Calcul mental	J'ai compris.	C'est difficile.		22
---------------	---------------	------------------	--	----

Colorie et trouve l'intrus	Calcul du jour, j'y cours ...				CE2 / 3
	3 + 9	11	5 + 8	10	14
	5 + 9	5 + 3 + 2	9	4 + 7	16
	13	3 + 6	11 + 4	12	15

Je calcule : additions de petits nombres.

Calcul mental	J'ai compris.	C'est difficile.	Aide	21
---------------	---------------	------------------	------	----

La cible : Avec ces 5 flèches, combien ai-je obtenu ?



..... points

Calcul mental	J'ai compris.	C'est difficile.	Aide	23
---------------	---------------	------------------	------	----


Entraîne-toi à ajouter 9 ou 19.

- |                   |                   |
|-------------------|-------------------|
| 1 543 + 9 = ..... | 2546 + 19 = ..... |
| 5467 + 9 = .....  | 6478 + 19 = ..... |
| 1764 + 9 = .....  | 2568 + 19 = ..... |
| 7053 + 9 = .....  | 4476 + 19 = ..... |

Pour ajouter 9, je fais .....

.....

Relie tous les points pour construire seulement des triangles. Colorie les différentes formes créées de toutes les couleurs. Attention, tu dois utiliser la règle !



Rituel	J'ai compris.	C'est difficile.	Aide	24
--------	---------------	------------------	------	----

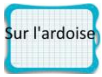
Ecris tous les nombres possibles avec ces chiffres.

**1 - 0 - 7 - 8 - 4**

.....  
 .....  
 .....  
 .....

J'ai trouvé ..... nombres.

Calcul mental	J'ai compris.	C'est difficile.	Aide	26
---------------	---------------	------------------	------	----



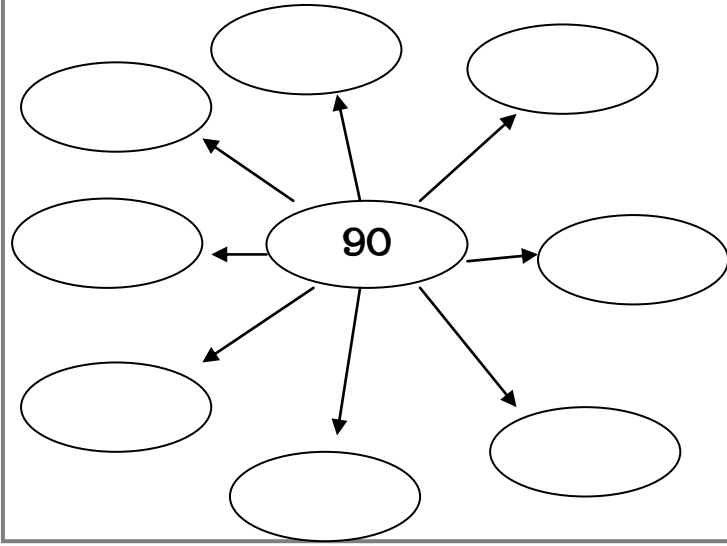
Prends ton porteclé des tables.

Interroge un camarade sur **10 calculs** (tables de 2 à 6).

Ensuite c'est à ton tour.

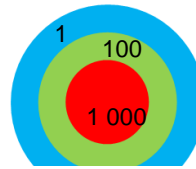
Rituel	J'ai compris.	C'est difficile.	Aide	25
--------	---------------	------------------	------	----

Dessine une petite carte mentale du nombre 90



Calcul mental	J'ai compris.	C'est difficile.	Aide	27
---------------	---------------	------------------	------	----

La cible : Dessine 5 flèches.



3 002 points

Calcul mental	J'ai compris.	C'est difficile.	Aide	28
---------------	---------------	------------------	------	----

Colombie et trouve l'intrus	Calcul du jour, j'y cours ...				CE2 / 4
	10 + 3	12	7 + 8	10	18
	8 + 8	11 + 7	9	5 + 4	16
	15	7 + 3	9 + 8	17	13

*Je calcule : additions de petits nombres.*

Calcul mental	J'ai compris.	C'est difficile.	Aide	30
---------------	---------------	------------------	------	----

Entraîne-toi à ajouter 9 ou 19.

3658 + 9 = .....                      3333 + 19 = .....

5687 + 9 = .....                      7562 + 19 = .....

4125 + 9 = .....                      2143 + 19 = .....

Rituel	J'ai compris.	C'est difficile.	Aide	29
--------	---------------	------------------	------	----

Observe ta carte mentale de 90 au jour 7.

Ecris des égalités :

90 = ..... + .....

90 = ..... + .....

90 = .....

90 = .....

90 = .....

90 = .....

90 = .....

Bilan de la semaine. J'ai fait tous les exercices :

Je n'ai pas terminé :

J'ai trouvé difficile les exercices : .....

Bilan de la maîtresse :

Signature :