

Prénom :

date :

note :



géographie

Les représentations de la terre/ continents et océans

Compétences évaluées :

savoir situer continents et océans sur un planisphère

connaître et utiliser le vocabulaire : globe, planisphère, nord, sud, est, ouest, océan, équateur, pôle, hémisphère, tropique, méridien, latitude, longitude

connaître le nom des lignes imaginaires qui permettent de se repérer.

identifier les différentes façons de se repérer le globe.

comprendre le contenu d'un document statistique simple (ex1)

interpréter un document statistique simple. (ex1)

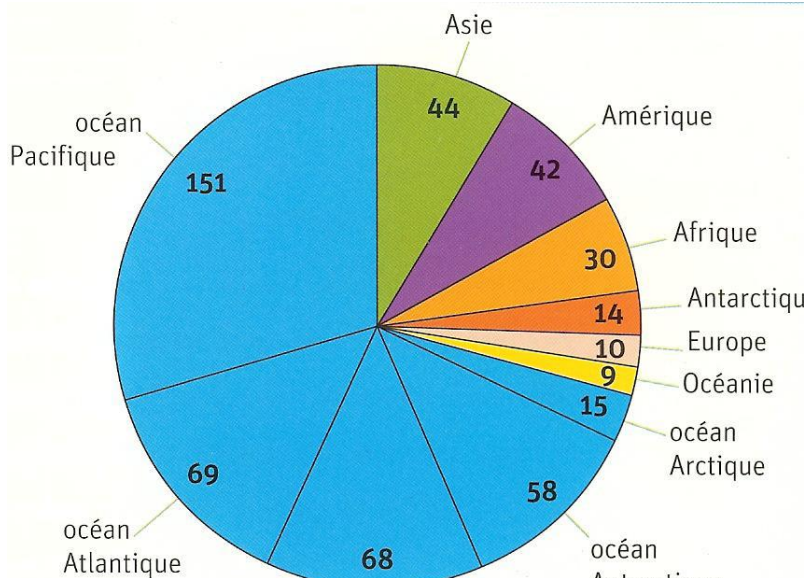
A

VA

NA

Exercice n° 1 : Observe le document, puis réponds aux questions.

La superficie des océans et des continents en millions de km²



1) Compare la superficie de la Terre occupée par les océans et celle occupée par les continents. (Que remarques-tu ?.....)

2) Quel continent occupe la plus grande superficie ?.....

3) Compare la superficie occupée par l'océan Pacifique et celle occupée par tous les continents réunis. Que peux-tu dire ?.....

4) Pourquoi appelle-t-on la Terre « la planète bleue » ?.....

Exercice n° 2 : Complete :

a) Il y a cinq..... sur Terre et 6sur Terre

b) L'océan glacial Arctique est situé au Pôle

c) On mesure la l..... sur les p.....

d) On mesure la l.....sur les m.....

e) On partage le globe en deux parties : les 2

f) On peut représenter la Terre de différentes manières :....

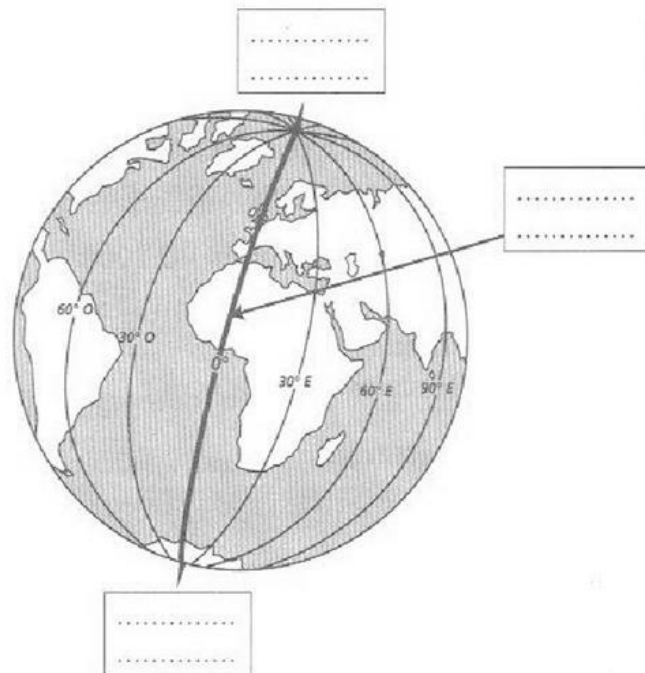
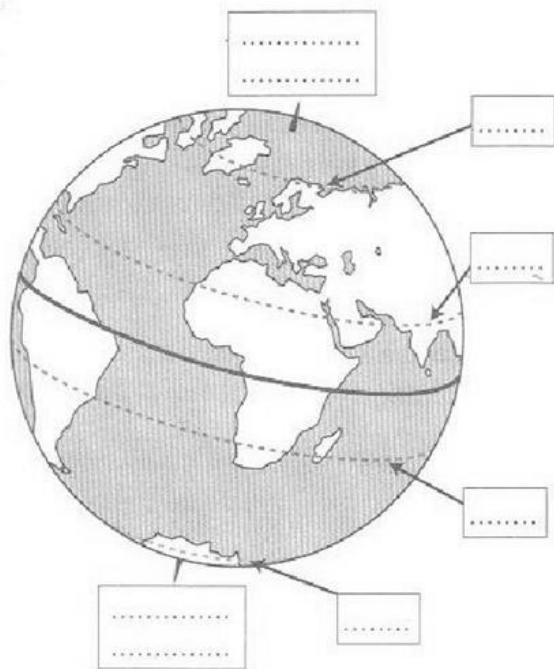
-

-

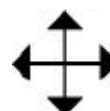
-

exercice n°3 :

1- Complete les schémas suivants avec les noms de lignes imaginaires :

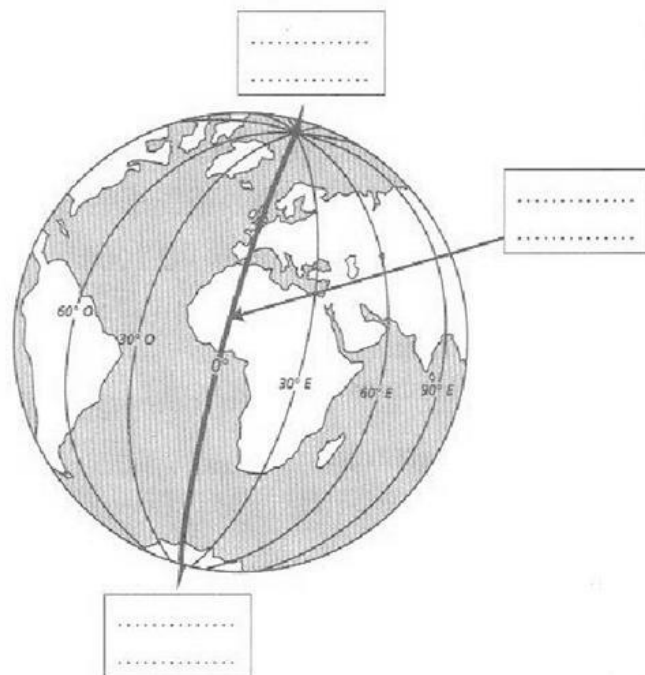
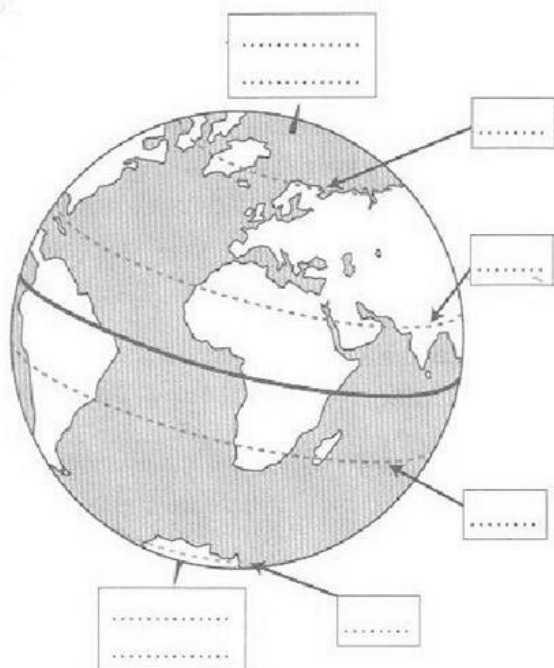


Complete la rose des vents (indique les directions) :

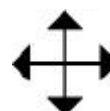


exercice n°3 :

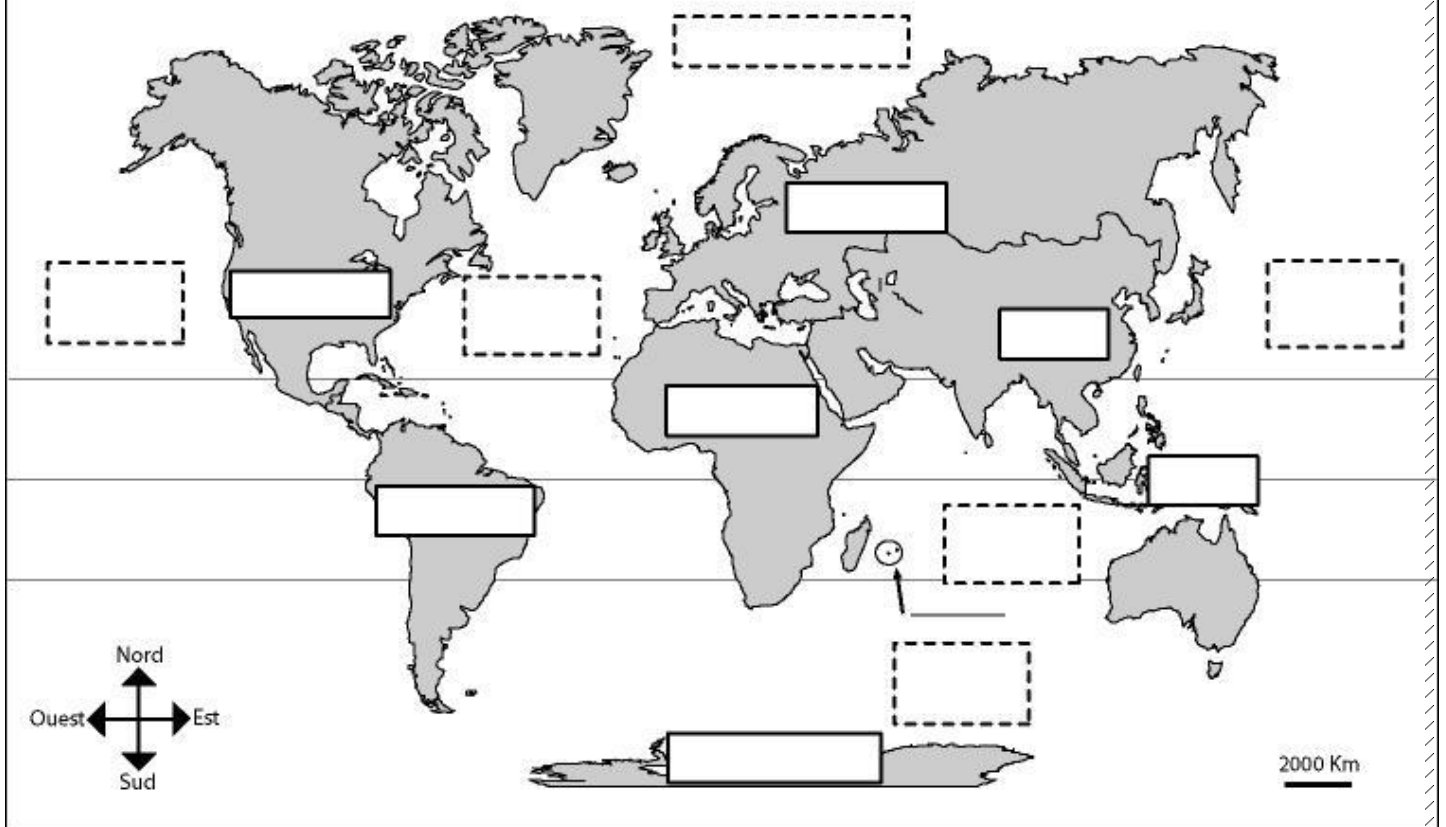
2- Complete les schémas suivants avec les noms de lignes imaginaires :



Complete la rose des vents (indique les directions) :



Les continents et océans de la Terre



Océans et continents

Classe : CM2
Nom :



Exercice

L'Océanie se situe dans l'.....