

Prénom : .....

Date : .....

# LES CENTAINES

1- L'écureuil a déjà fait des paquets de 10. **Dessine** un paquet de 100 et **compte** les noisettes.

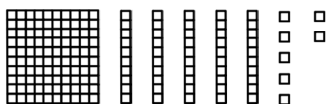


C	D	U
(centaines)	(dizaines)	(unités)
.....	.....	.....

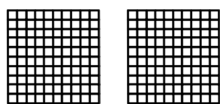
C	D	U
.	.	.

 Il y a ..... noisettes.

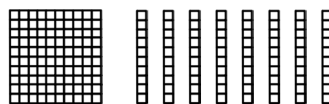
2- **Écris** le nombre de cubes.




C	D	U
.	.	.



C	D	U
.	.	.

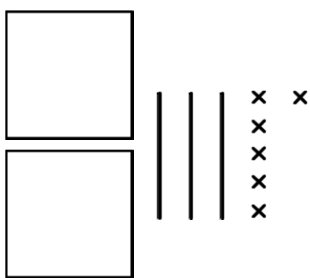


C	D	U
.	.	.



C	D	U
.	.	.

3- **Dessine** comme dans l'exemple.



236

172

506

430

4- **Colorie** de la même couleur les yeux des robots qui portent le même nombre.

5 centaines et 2 dizaines      250      5 centaines et 2 unités      520      205      52

2 centaines et 5 unités      5 dizaines et 2 unités      2 centaines et 5 dizaines      502