

Je m'appelle \_\_\_\_\_

date : \_\_\_\_\_







**Evaluation géographique**

Donne la définition du mot paysage

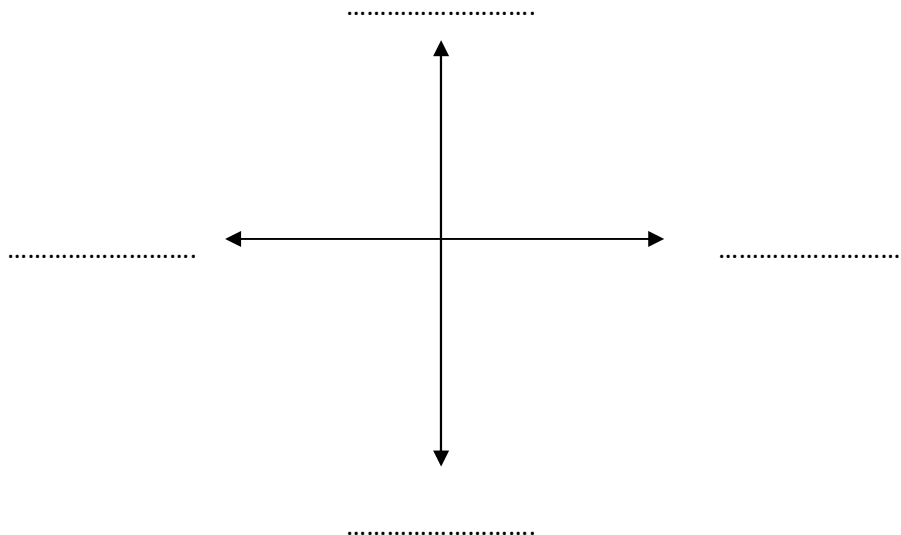
\_\_\_\_\_

\_\_\_\_\_

Ecris en dessous de l'image si c'est un paysage ou non.

		
.....	.....	.....
		
.....	.....	.....

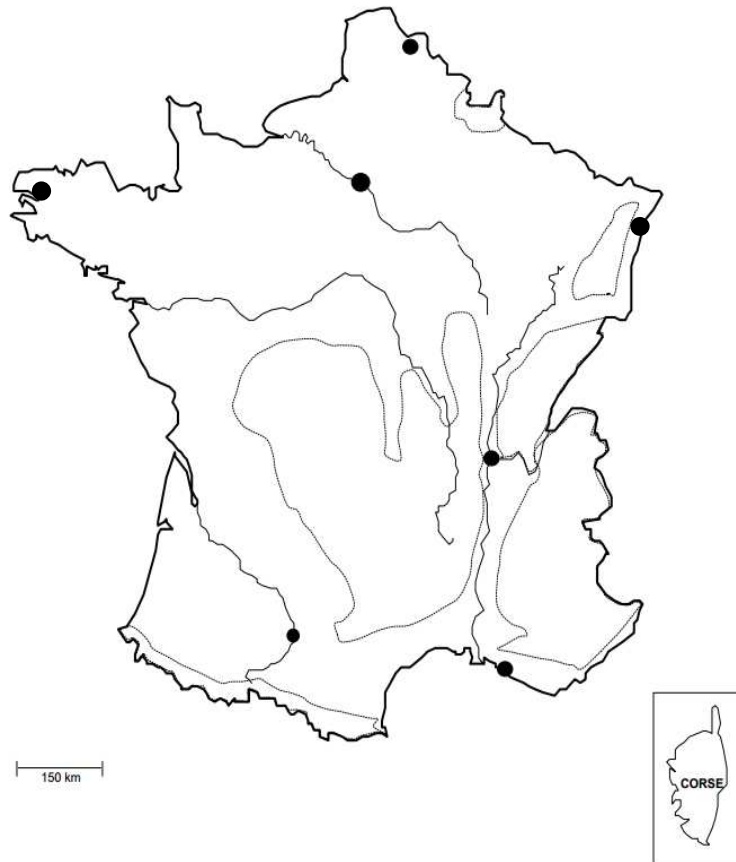
Complète le schéma avec les différents points cardinaux.



Je m'appelle \_\_\_\_\_

date : \_\_\_\_\_

**Complète la carte de France. (Attention il y a un point intrus !)**



**Donne deux villes de France selon leur position géographique.**

2 villes au Nord : \_\_\_\_\_

2 villes à l'Est : \_\_\_\_\_

2 villes au Sud : \_\_\_\_\_

2 villes à l'Ouest : \_\_\_\_\_

**Compétences évaluées:**

Je connais la définition du mot paysage :

Je sais reconnaître un paysage :

Je peux nommer les différents points cardinaux :

Je connais la position des points cardinaux :

Je sais placer les principales villes de France sur une carte :

Je connais des villes de France selon leur position géographique :