

Prénom : \_\_\_\_\_

Date : / /

# Evaluation Numération

Octobre 2012

Je sais écrire, nommer et représenter les nombres inférieurs ou égaux à 9.

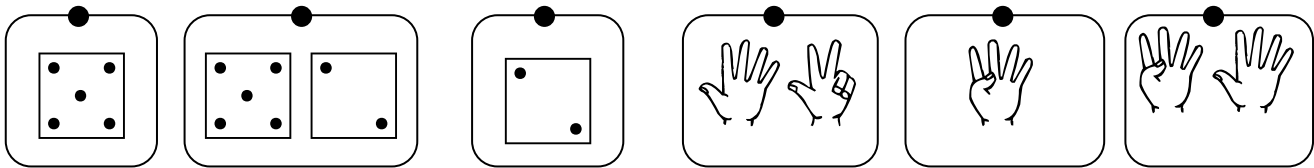
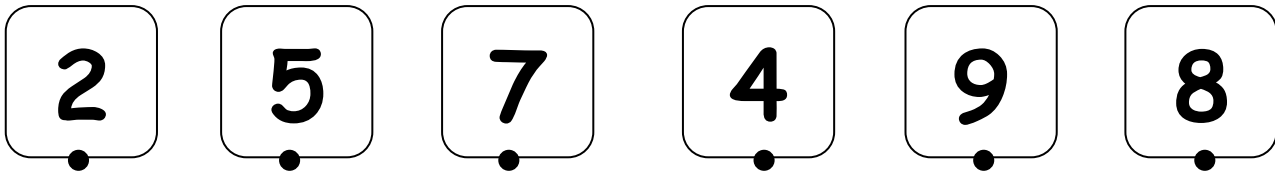
Note sur 10 : /10

Moyenne classe : /10

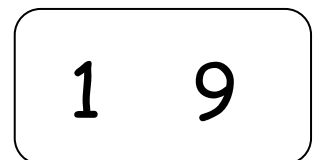
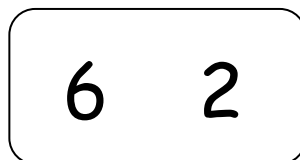
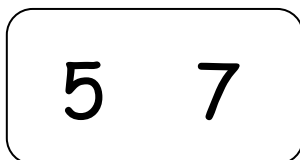
## 1- Dictée de nombres

|  |  |  |  |  |  |  |  |  |
|--|--|--|--|--|--|--|--|--|
|  |  |  |  |  |  |  |  |  |
|--|--|--|--|--|--|--|--|--|

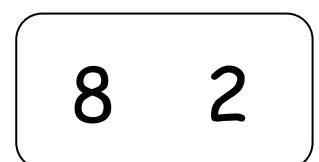
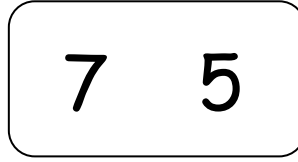
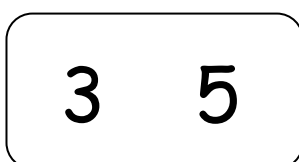
## 2- Relie



## 3- Entoure le plus grand des deux nombres.



## 4- Entoure le plus petit des deux nombres.



5- Ecris les nombres dans l'ordre du plus petit au plus grand.

7 - 2 - 8 - 4 - 9 - 6

|  |  |  |  |  |  |
|--|--|--|--|--|--|
|  |  |  |  |  |  |
|--|--|--|--|--|--|

6- Ecris les nombres dans l'ordre du plus grand au plus petit.

1 - 5 - 3 - 8 - 2 - 9

|  |  |  |  |  |  |
|--|--|--|--|--|--|
|  |  |  |  |  |  |
|--|--|--|--|--|--|

7- Ecris le nombre qui est juste avant ou après

|   |  |
|---|--|
| 6 |  |
|---|--|

|  |   |
|--|---|
|  | 2 |
|--|---|

|   |  |
|---|--|
| 5 |  |
|---|--|

|  |   |
|--|---|
|  | 5 |
|--|---|

|   |  |
|---|--|
| 2 |  |
|---|--|

|  |   |
|--|---|
|  | 9 |
|--|---|