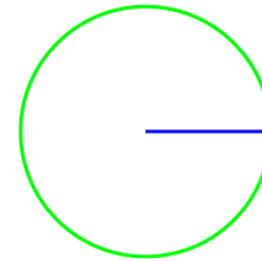


Cartes à tâches

Le cercle

<http://2maitressesalacampagne.ehlablog.com>

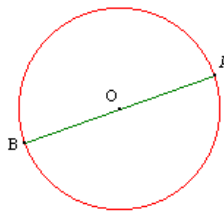
Nomme la partie
du cercle en bleu.



1

<http://2maitressesalacampagne.ehlablog.com>

Nomme la partie
du cercle en vert



2

<http://2maitressesalacampagne.ehlablog.com>

Urai ou faux?
le rayon est le
double du diamètre.

3

<http://2maitressesalacampagne.ehlablog.com>

Complète: un segment
qui relie le centre
du cercle à un point
du cercle est ...

4

<http://2maitressesalacampagne.ehlablog.com>

Complète: un diamètre
Relie 2 points du cercle
En passant par ...

5

<http://2maitressesalacampagne.ehlablog.com>

Dans un cercle,
Si $r=4$ cm alors $d=?$

6

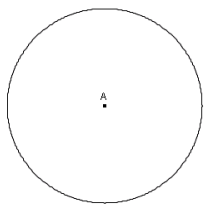
<http://2maitressesalacampagne.ehlablog.com>

A quoi correspond la
partie colorée du cercle?

7

<http://2maitressesalacampagne.ehlablog.com>

**A quoi correspond
le point A?**



8

<http://2maitressesalacampagne.eklablog.com>

**Urai ou faux? Dans un
Cercle, tous les rayons sont
De même longueur.**

9

<http://2maitressesalacampagne.eklablog.com>

**Dans un cercle si
 $D=12\text{cm}$, $r=?$**

10

<http://2maitressesalacampagne.eklablog.com>

**Urai ou faux? Un diamètre
correspond à 2
fois le rayon.**

11

<http://2maitressesalacampagne.eklablog.com>