

Prénom : .....

Date : .....

# Evaluation de Géographie – CM1

## Compétences évaluées :

Connaître les reliefs et les fleuves de France.

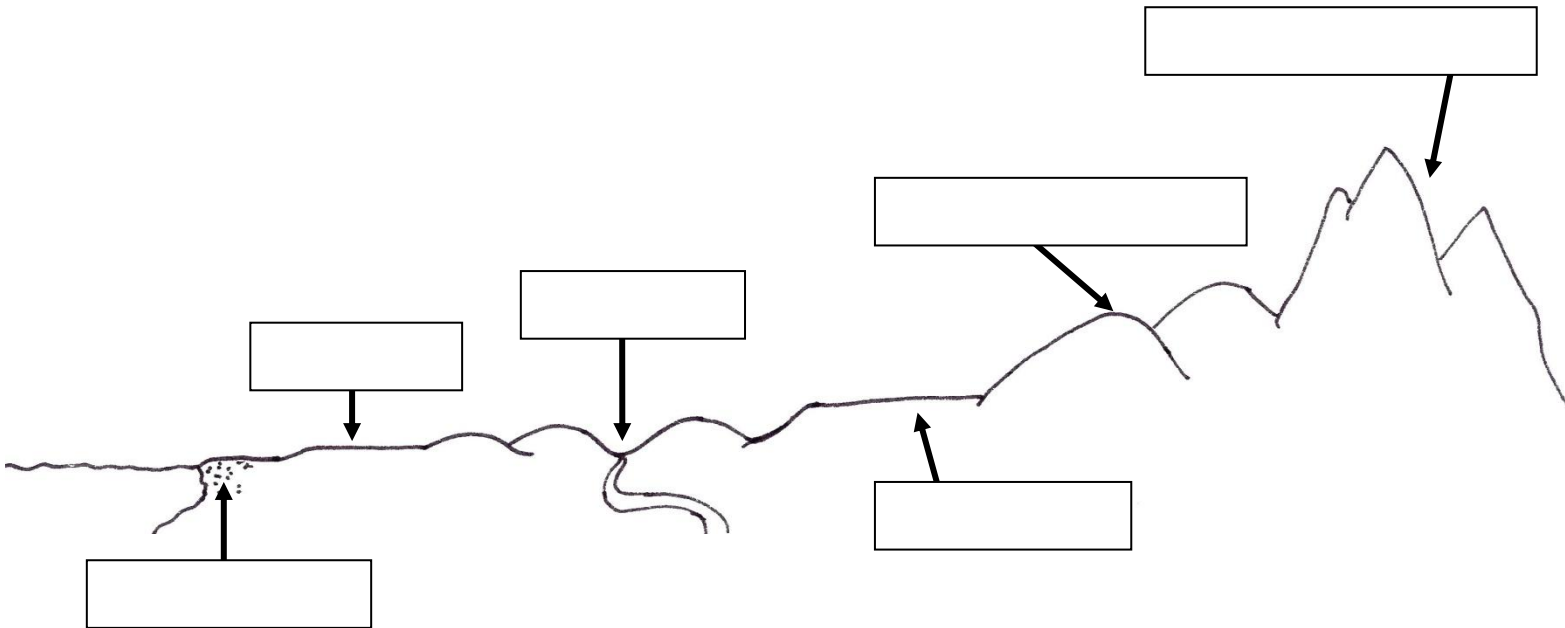
A B C D

A – Acquis B – Acquis à renforcer C – En cours d'acquisition D – Non acquis

### 1. Place sur le schéma les mots suivants :

/6

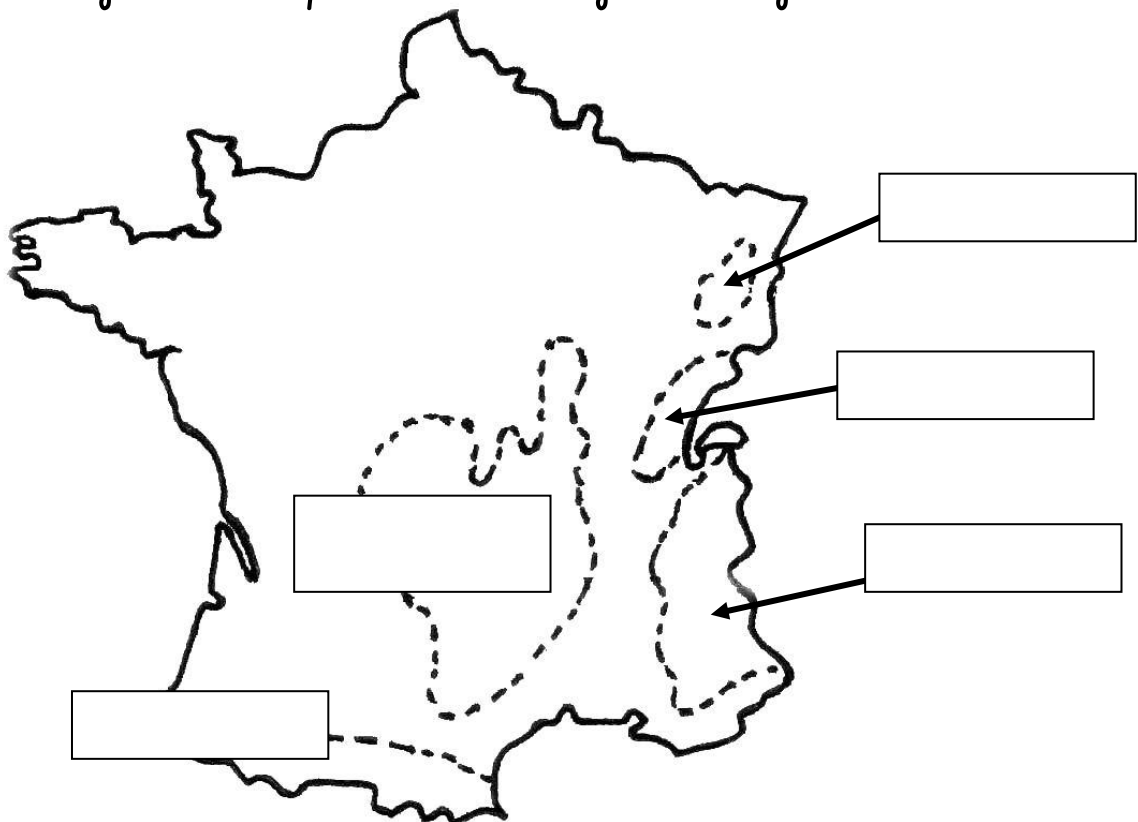
montagnes jeunes – vallon – plateau – littoral – montagnes vieilles – plaine



### 2. Place les noms des montagnes françaises sur la carte :

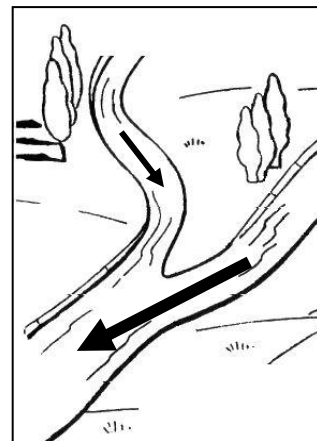
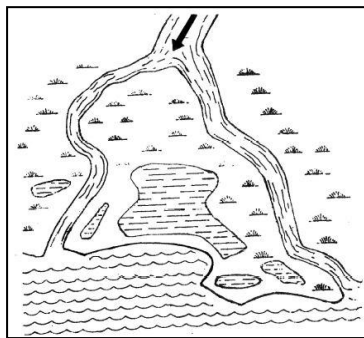
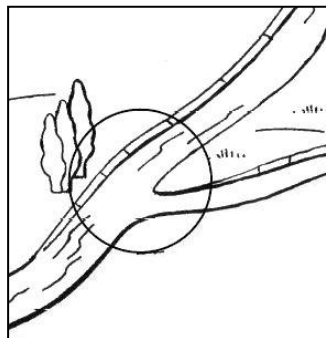
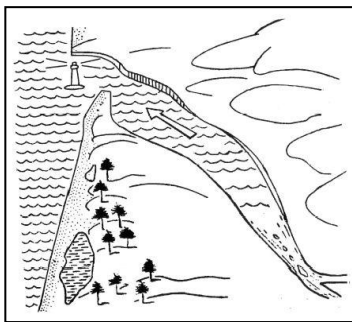
/5

Pyrénées – Alpes – Jura – Vosges – Massif Central



**3. Complète les définitions puis relie-les au bon dessin :**

**/4**



●

●

●

●

●

●

●

●

Les rivières se jettent dans les fleuves. Elles sont leurs .....

Lorsque l'embouchure s'élargit, on appelle ça un .....

L'endroit où deux cours d'eau se rejoignent s'appelle .....

Lorsque le fleuve se sépare en plusieurs bras au niveau de l'embouchure, on appelle ça un .....

**4. Place sur la carte les cinq grands fleuves de France :**

**/5**

*La Garonne – Le Rhône – Le Rhin – La Loire – La Seine*

