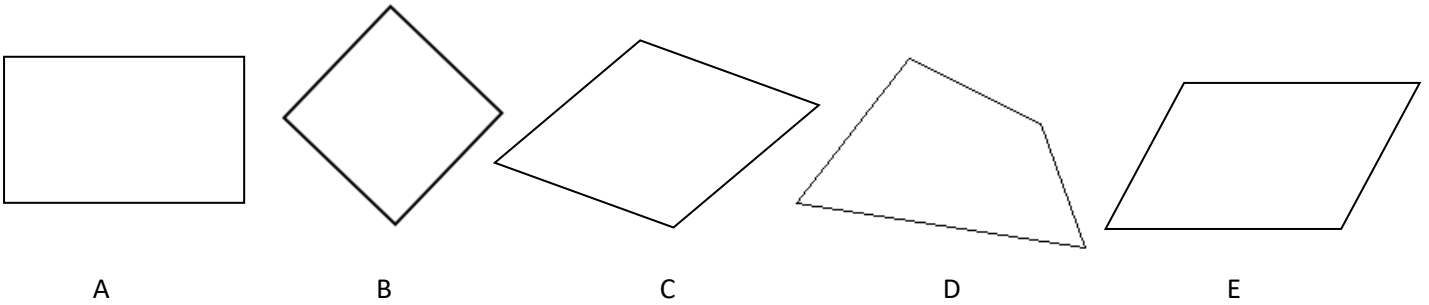


Nommer et décrire les principaux quadrilatères

Tracer des quadrilatères sur papier blanc

1) Observe bien ces figures et donne leurs noms.

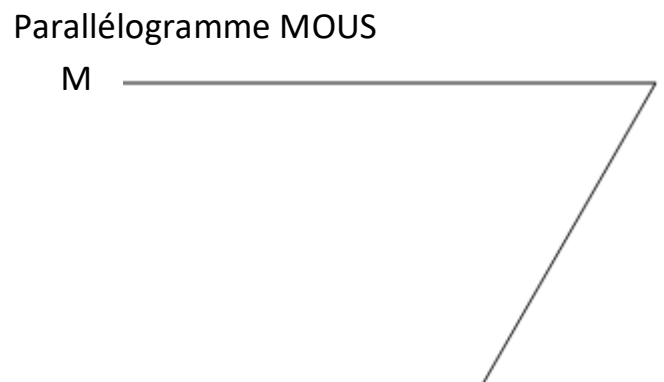
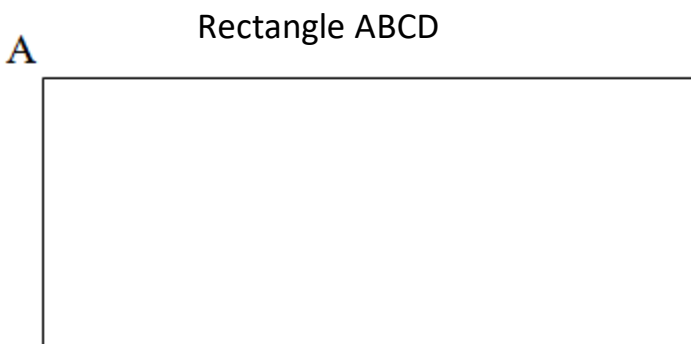
- a. Complète ensuite le tableau en plaçant des croix là où c'est nécessaire (une croix veut dire oui).
- b. Trace **les diagonales** au crayon de **couleur rouge**.
- c. Trace **les axes de symétrie** au crayon de **couleur bleu**.



Nom		Les côtés opposés sont parallèles	Les côtés opposés sont égaux	Il a 4 côtés égaux	Il a 4 angles droits
A				
B				
C				
D				
E				

2) Complète les quadrilatères suivants avec ton compas :

Prénom : _____



3) Trace en dessous les quadrilatères suivants avec ton compas et place les codes.

Le carré CHAT dont le côté mesure 5,5 cm.

Le losange PIES dont le côté mesure 4 cm.

Le rectangle LOUP ; [LO] = 6 cm et [OU] = 3,5 cm

Le parallélogramme THON ; [TH] = 5,5 cm et [HO] = 3 cm