




Le chef des brigands veut partager 431 pièces en 3 parts égales.

..... : .....





								
C	D	U	C	D	U	C	D	U

Étage des CENTAINES	
Étage des DIZAINES	
Étage des UNITÉS	

quotient			reste	Calcul en ligne
C	D	U		
Q = .....			R = .....	..... = .....x..... + .....

Le chef des brigands veut partager 584 pièces en 4 parts égales.

..... : .....

											
C	D	U	C	D	U	C	D	U	C	D	U

Étage des CENTAINES	
Étage des DIZAINES	
Étage des UNITÉS	

quotient			reste	Calcul en ligne
C	D	U		
Q = .....			R = .....	..... = .....x..... + .....