

1. Calcul mental : Nombre qui suit, nombre qui précède

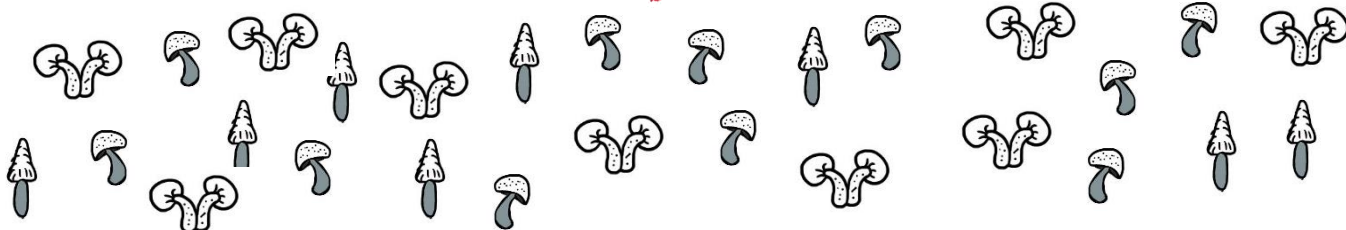


— — — — — — — —

2. Groupements par 10 jusqu'à 39



Compte le nombre de champignons et  colorie la bonne réponse.



Il y a 27 champignons

Il y a 38 champignons

Il y a 37 champignons

3. Cherche dans le tableau des nombres la couleur du nombre de chaque personnage.




0									9
10									19
20									29
30									39


Mon nombre est dans la famille des 10 et il finit par 2.  
Sa couleur est



Mon nombre n'a pas de paquet de 10 et il finit par 5.  
Sa couleur est



Mon nombre a 3 dizaines et il finit par 3.  
Sa couleur est



Mon nombre a 2 dizaines  
Sa couleur est



4. Problèmes soustractifs



Il y a 12 œufs dans le frigo.  
Pour faire son gâteau, maman utilise 5 œufs.  
**Combien reste-t-il d'œufs ?**

Il reste \_\_\_ œufs dans la frigo.

Il y a 25 prunes dans le panier.  
Julie mange 5 prunes.  
**Combien reste-t-il de prunes ?**

Il reste \_\_\_ prunes dans le panier.