

Ton prénom :

date :

5 Mets de l'ordre dans ces nombres,  range-les en ordre croissant. (croître = grandir).

7 804	984	7 408	94	7 840	7 084

6 Mets de l'ordre dans ces nombres,  range-les en ordre décroissant. (décroître = diminuer).

20 500	50 200	52 000	25 000	50 002	20 050

7 Utilise les signes de mathématiques.  Complète avec l'un de ces signes :

+ - = < > ≠


300 50 = 250

6000 + 300 + 4 3000+3000+304



500..... 30 = 100+100+100+100+100+10+10+10

27 300 + 5 27 000 + 355

20 401 20 041

8 Compter de x en x. a)  Compte de **5** en **5** de **960** jusqu'à **1015** .

--	--	--	--	--	--	--	--	--	--	--	--	--

b)  Observe la suite suivante, puis  entoure la bonne réponse.

5205	5305	5405	5505	5605	5705	5805	5905	6005	6105	6205	6305
------	------	------	------	------	------	------	------	------	------	------	------

de 2 en 2

de 5 en 5

de 10 en 10

de 20 en 20

de 25 en 25

de 50 en 50

de 100 en 100.

Ton prénom :

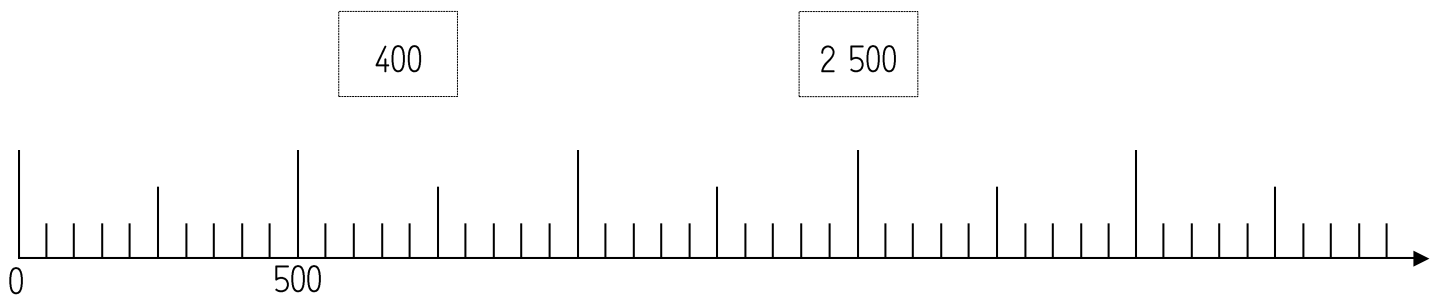
date :

9 Complète ces trois tableaux, 👁 👁 observe bien l'exemple.

Nombre qui est juste avant celui-ci →		Nombre qui est juste après celui-ci ←		Nombre arrondi à la dizaine avant celui-ci →		Nombre arrondi à la dizaine après celui-ci ←
522	523	524		520	523	530
	599			0	599	0
	340			0	340	0

Nombre arrondi à la centaine avant celui-ci →		Nombre arrondi à la centaine après celui-ci ←
500	523	600
00	599	00
00	340	00

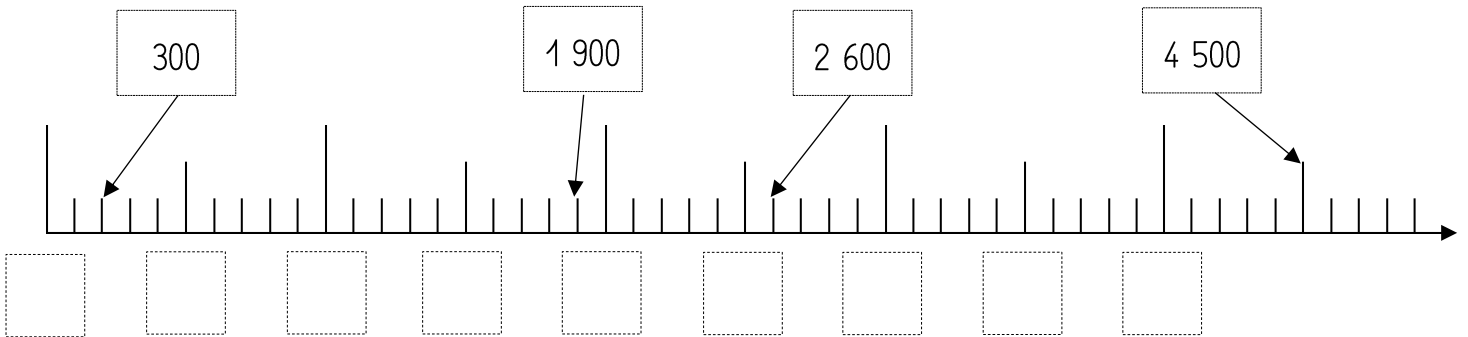
10 ✎ Trace un trait pour placer les nombres sur la demi-droite graduée.




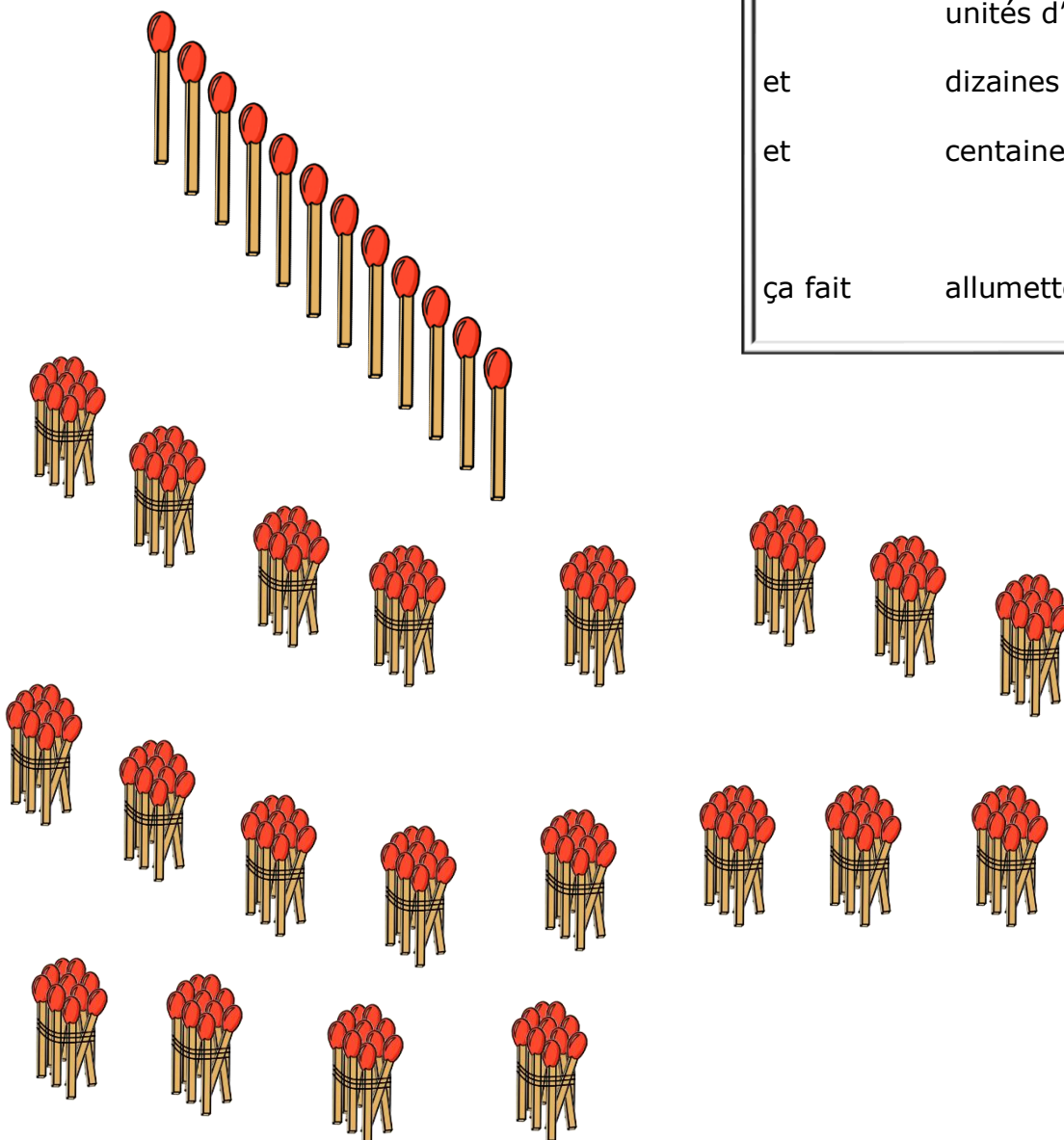
Ton prénom :

date :

11  Observe les nombres et  complète la demi-droite graduée.




12  Écris combien tu vois d'allumettes.

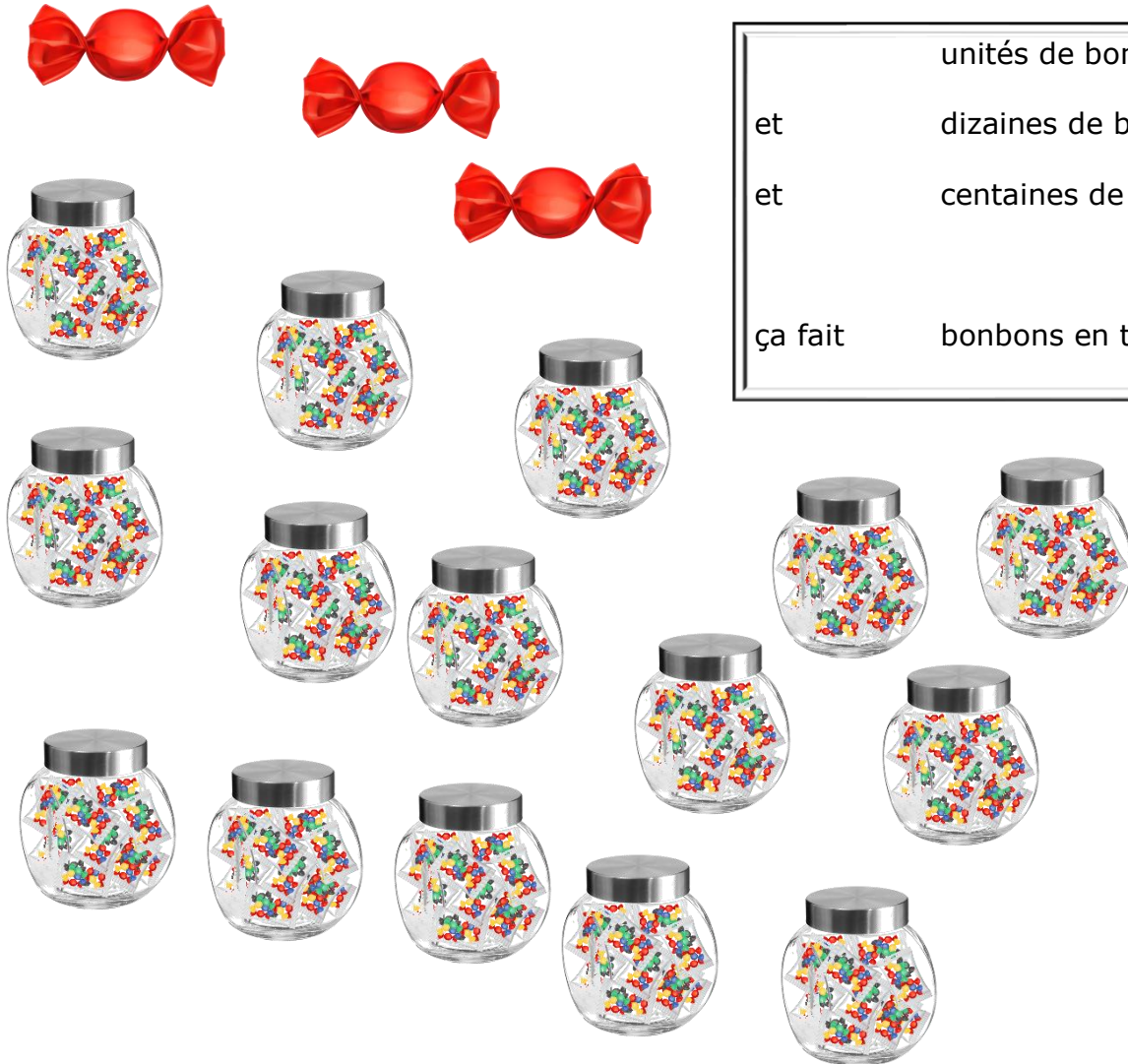


	unités d'allumettes
et	dizaines d'allumettes
et	centaines d'allumettes
ça fait	allumettes en tout.

Ton prénom :

date :

12  Écris combien tu vois de bonbons.



	unités de bonbons
et	dizaines de bonbons
et	centaines de bonbons
ça fait	bonbons en tout.