

# Evaluations de rentrée

## CE1

Prénom : .....

Nom : .....

Septembre 2022



Signature des  
parents :

A large empty rectangular box with a dashed black border, intended for a signature.



Français

1- Ecris la date : .....

2- Compte le nombre de lettres dans chaque mot :

pirate : ..... lettres

arbre : ..... lettres

maitresse : ..... lettres

3- Compte le nombre de mots dans chaque phrase :

- Sami a cassé son vélo. .... mots
- Le petit chat joue sur le bord de la fenêtre. .... mots

4- Recopie le texte suivant sur les lignes :

C'est l'heure d'aller se coucher. La lune brille dans la nuit noire.

A grid of 10 columns and 10 rows for handwriting practice. The grid is formed by vertical purple lines and horizontal light blue lines.

5- Ecris les mots dictés par la maitresse ou le maitre :

a .....

b .....

c .....

d .....

e .....

f .....

g .....

h .....

6- Ecris les phrases dictées par la maitresse ou le maitre.











★ .....

.....

.....

.....

7- Entoure le mot qui correspond au dessin.

	<p>touche poule douche mouche</p>		<p>chemin chenille cheminée cheville</p>
	<p>matin lune monde dune</p>		<p>chanson chanteur chambre champs</p>
	<p>malin mèche pêche marin</p>		<p>souris soupe soucoupe soulagé</p>
	<p>girafe jaune dragon jardin</p>		<p>balle balai ballon balise</p>
	<p>plateau grise plume prise</p>		<p>chasse chapeau chat château</p>

8- Entoure la phrase qui correspond à l'image.

	<p>Le bébé dort.</p> <p>Le bébé mange.</p> <p>Le bébé joue.</p>
	<p>La dame mange une glace.</p> <p>La dame mange une tarte.</p> <p>La dame mange de la salade.</p>
	<p>Il lit un livre.</p> <p>Il saute à la corde.</p> <p>Il prépare le repas.</p>
	<p>Il joue dans le jardin.</p> <p>Il regarde la télévision.</p> <p>Il achète des légumes.</p>
	<p>Il fait des roulades.</p> <p>Il fait du trapèze.</p> <p>Il fait du vélo.</p>

# Maths

1- Ecris les nombres dictés.

--	--	--	--	--	--	--	--	--	--

2- Ecris le nombre juste avant et le nombre juste après.

..... - 8 - .....

..... - 39 - .....

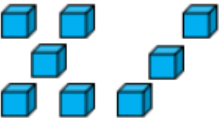
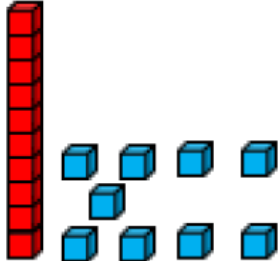
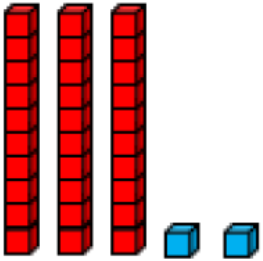
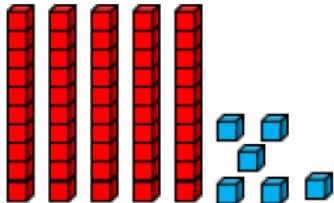
..... - 14 - .....

..... - 47 - .....

..... - 20 - .....

..... - 55 - .....

3- Ecris le nombre représenté par les cubes.

4- Ecris les nombres du plus petit au plus grand.

31 - 62 - 7 - 14 - 39

.....

## 5- Calcule ces additions :

$5 + 5 = \dots\dots$

$7 + 7 = \dots\dots$

$6 + 4 = \dots\dots$

$8 + 7 = \dots\dots$

$9 + 3 = \dots\dots$

$10 + 8 = \dots\dots$

$30 + 5 = \dots\dots$

$20 + 10 = \dots\dots$

$40 + 12 = \dots\dots$

## 6- Calcule ces soustractions :

$5 - 2 = \dots\dots$

$8 - 3 = \dots\dots$

$10 - 2 = \dots\dots$

$13 - 3 = \dots\dots$

$16 - 4 = \dots\dots$

$15 - 6 = \dots\dots$

$30 - 10 = \dots\dots$

$27 - 10 = \dots\dots$

$32 - 3 = \dots\dots$

## 7- Réponds aux questions.

Sami range 7 stylos bleus et 6 stylos rouges dans une boîte.  
Combien a-t-il rangé de stylos en tout ?

*Sami a rangé ..... stylos.*

Il y a 15 gâteaux dans le paquet.  
Julie en mange 3.  
Combien de gâteaux reste-t-il dans le paquet ?

*Il reste ..... gâteaux dans le paquet.*



# Pour l'enseignant :

## Dictée de mots :

- a ami
- b banane
- c domino
- d tomate
- e vélo
- f poire
- g chaton
- h jardin

## Dictée de phrases

★ Le pirate mange une grosse frite.

✋ Il y a un petit panda dans un arbre.

## Dictée de nombres

8	13	17	20	34	39	41	56	65	82
---	----	----	----	----	----	----	----	----	----