

Prénom :

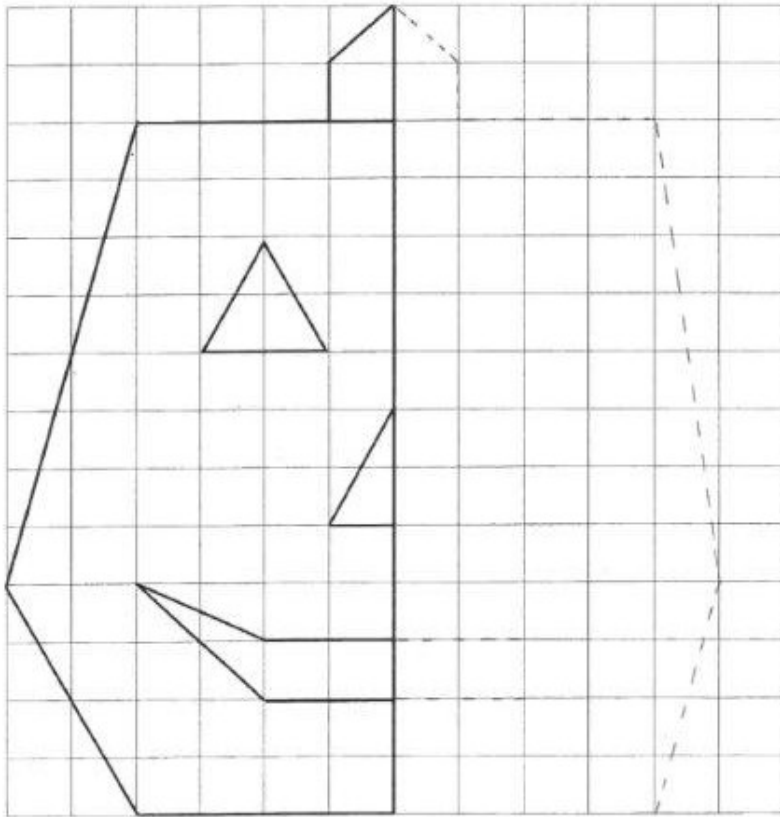
Date :

## Fiche atelier

# GEOM1

*une citrouille*

Trace la partie manquante.



Prénom :

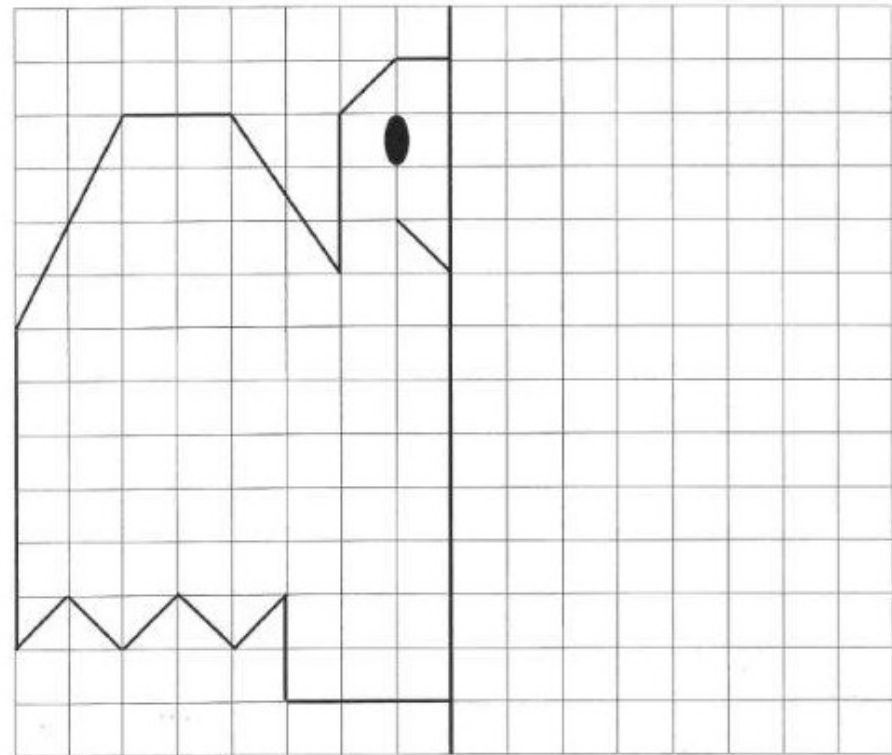
Date :

## Fiche atelier

# GEOM2

*un fantôme*

Trace la partie manquante.



Prénom :

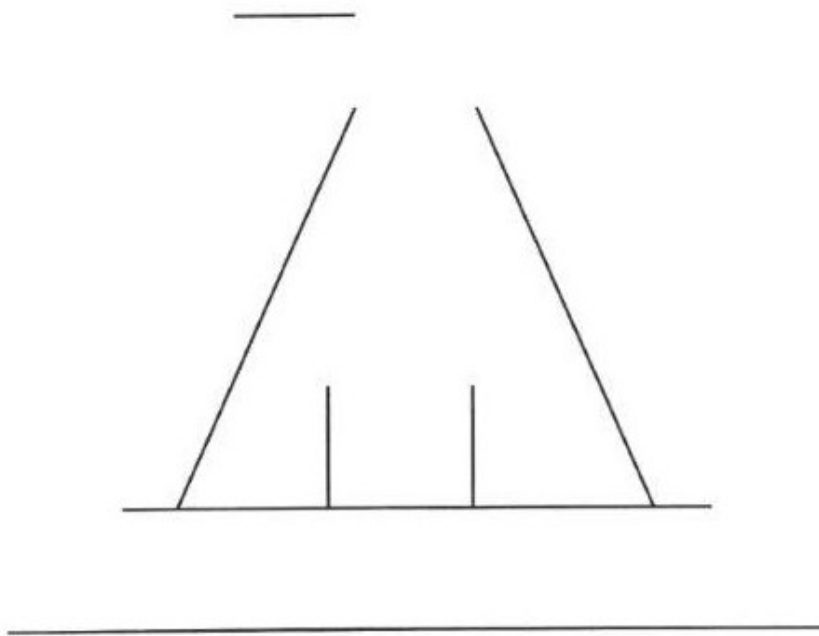
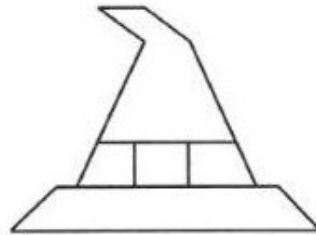
Date :

## Fiche atelier

# GEOM3

Termine le dessin avec ta règle et un crayon bien taillé.

*un chapeau*



Prénom :

Date :

## Fiche atelier

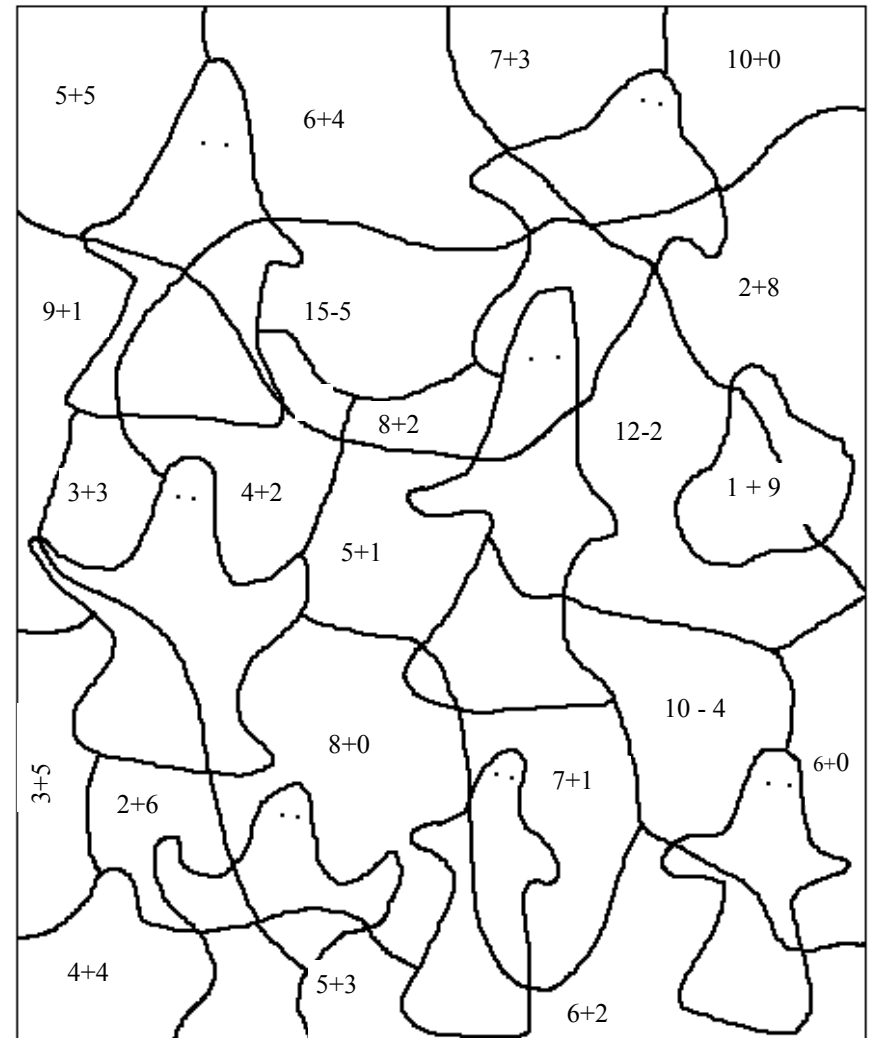
# CA

Colorie :

En bleu quand le résultat de l'addition est égal à 10

En vert quand le résultat de l'addition est égal à 8

En jaune quand le résultat de l'addition est égal à 6



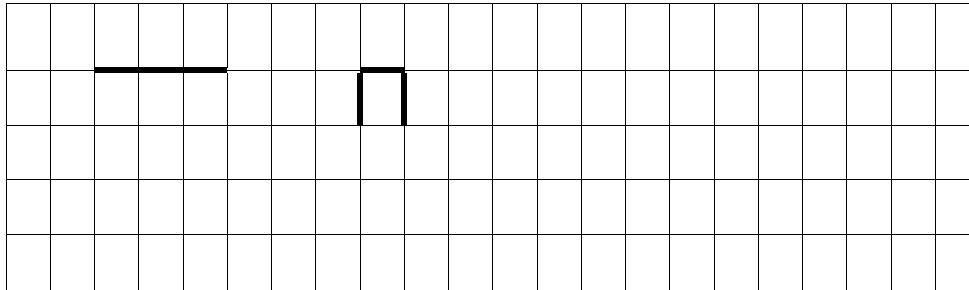
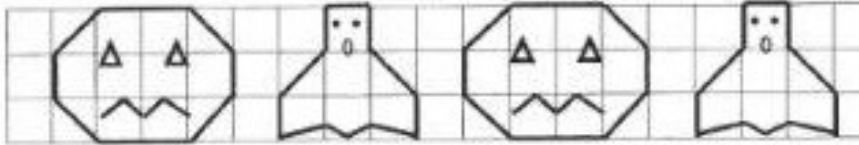
Prénom :

Date :

## Fiche atelier

**GEOM4**

Reproduis la frise sur le quadrillage.




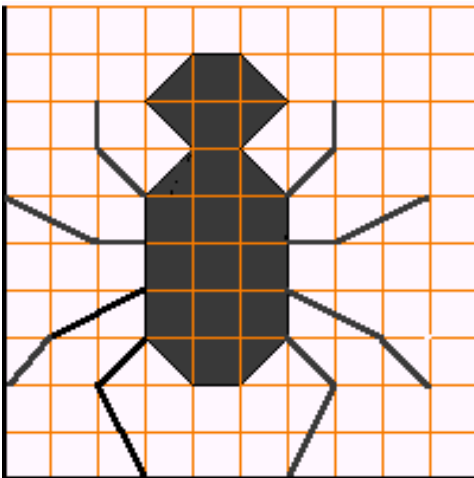
Prénom :

Date :

## Fiche atelier

**GEOM4**

Reproduis l'araignée sur le quadrillage.

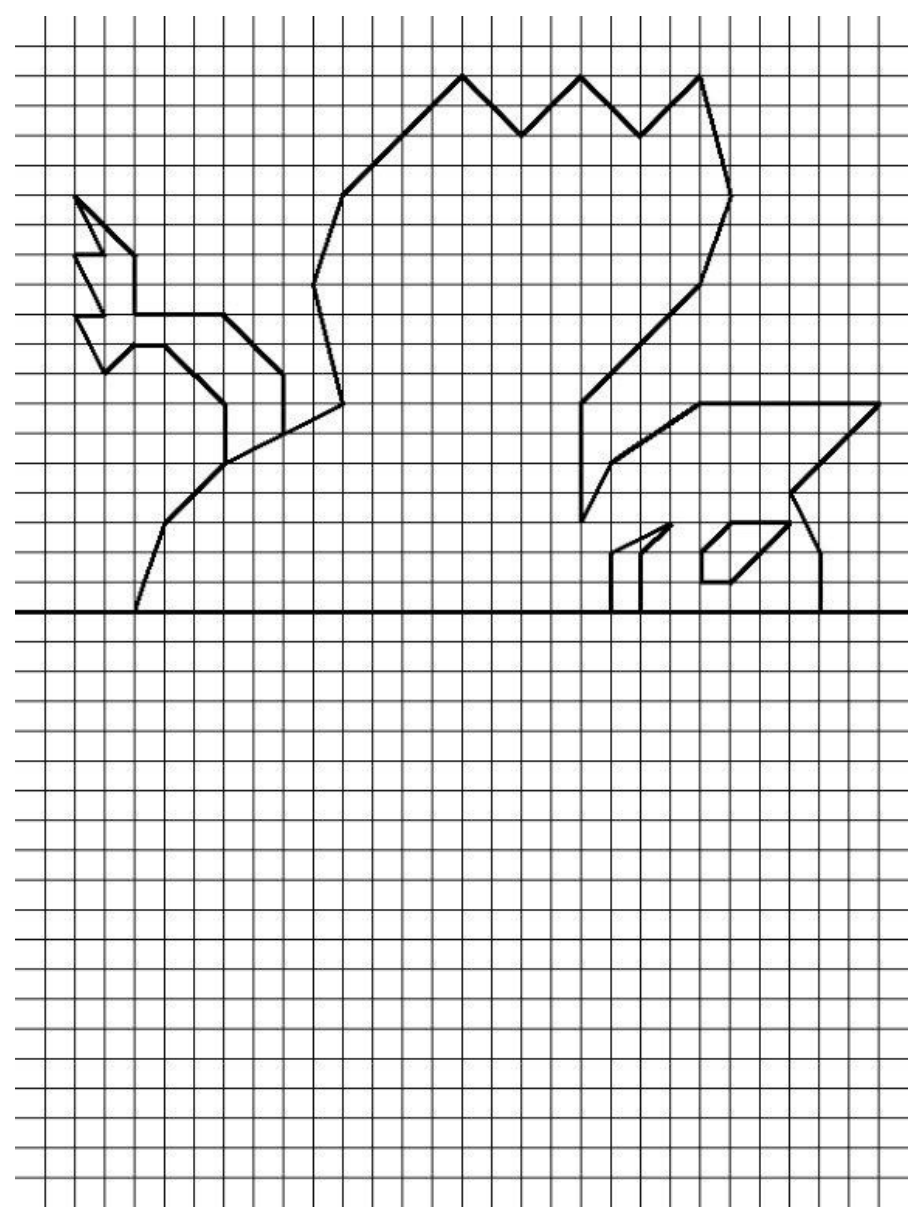
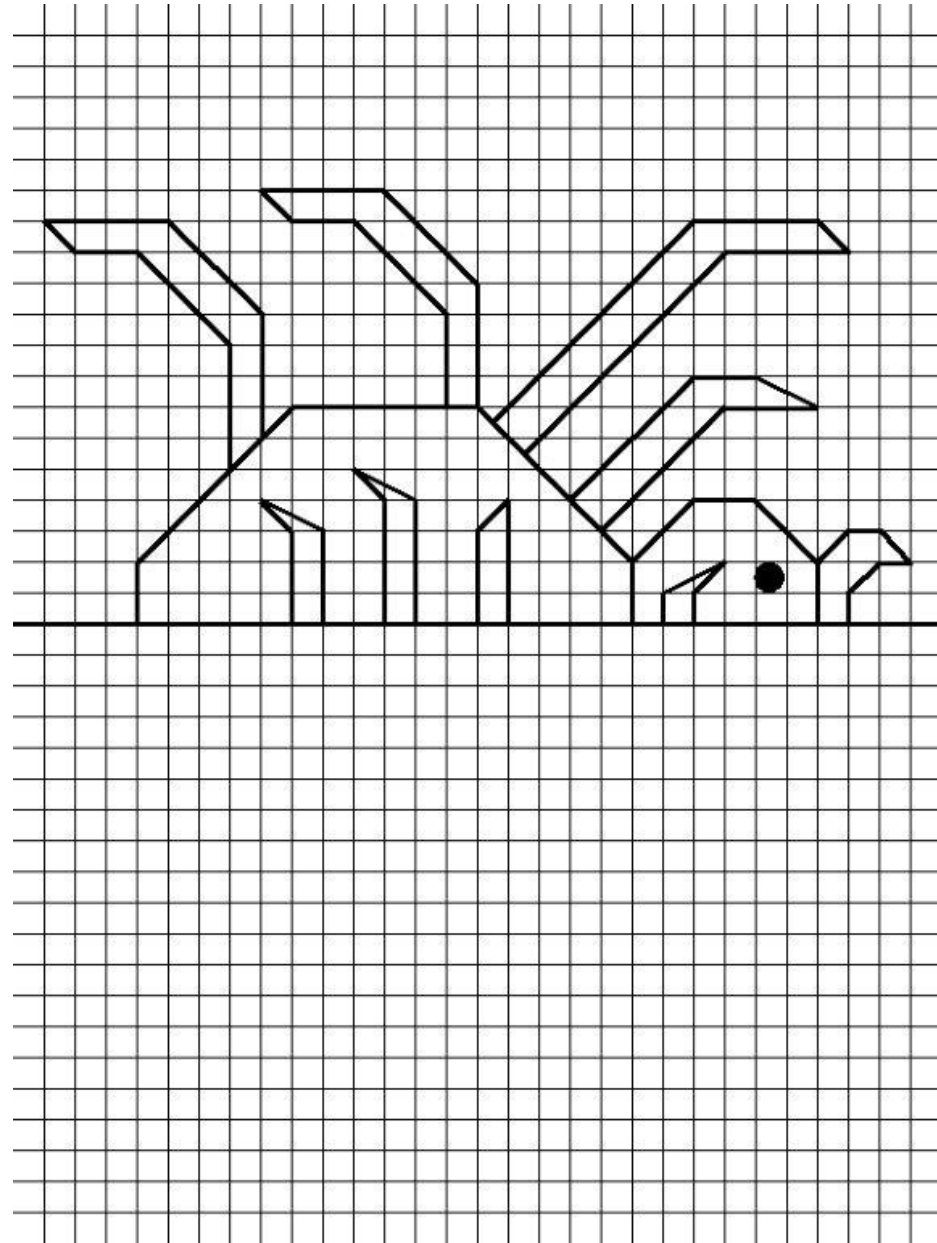




1.                     

Ce serpent sait qu'il est un reptile. Mais il s'en moque ! Ce qui compte pour lui, c'est de surveiller son trésor. Quatre colliers de 125 perles !

**Sais-tu combien cela fait de perles en tout ?**



Prénom :

Date :

## Fiche atelier

# CALC

Colorie le chemin que prend la sorcière pour retrouver son balai. Attention elle ne doit se déplacer que sur les cases dont le résultat est 70.



$20 + 70$	$20 + 50$	$10 + 30$	$50 + 60$	$25 + 65$	$80 + 10$
$40 + 40$	$40 + 30$	$60 + 10$	$30 + 50$	$65 + 15$	$90 - 30$
$50 + 30$	$80 - 20$	$80 - 10$	$50 + 20$	$90 - 20$	$80 - 20$
$70 + 20$	$20 + 60$	$90 - 30$	$30 + 30$	$55 + 15$	$85 - 10$
$10 + 80$	$40 + 40$	$30 + 40$	$10 + 60$	$75 - 5$	$50 + 30$
$70 + 10$	$5 + 55$	$100 - 30$	$80 - 20$	$40 + 50$	$10 + 50$



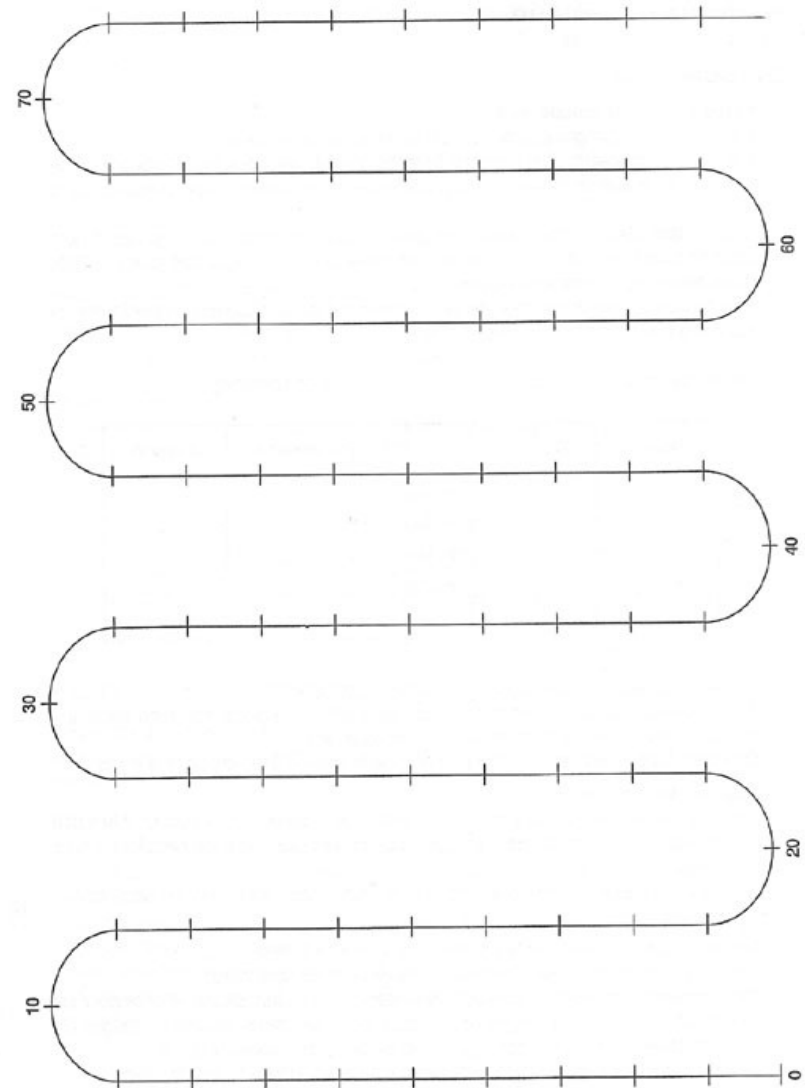
Prénom :

Date :

## Fiche atelier

# N

Place les nombres suivants sur le chemin de la sorcière:  
32 - 56 - 75 - 61 - 49 - 13 - 28 - 69 - 79 - 44



Prénom :

Date :

## Fiche atelier

1. La sorcière Isabella doit trouver 38 araignées pour sa potion. Elle en a déjà 12. Combien doit-elle encore en trouver?

Réponse: Elle doit encore trouver..... araignées .

2. Dans le panier de la sorcière Grabouilli, il y a 14 champignons. Celui de la sorcière Isabella en contient le double. Combien y a-t-il de champignons dans le panier d'Isabella?

Réponse: .....

3. Isabella a besoin de 45 oranges pour préparer sa recette. Les oranges sont vendues par sac de 5. Combien de sacs d'oranges doit-elle acheter?

Réponse: .....

Prénom :

Date :

## Fiche atelier

Colorie en bleu une carte de chacun des personnages pour obtenir 90 points.

Colorie en rouge une carte de chacun des personnages pour obtenir 80 points.



0	10	20	30	40	50	60	70	80
---	----	----	----	----	----	----	----	----



0	10	20	30	40	50	60	70	80
---	----	----	----	----	----	----	----	----



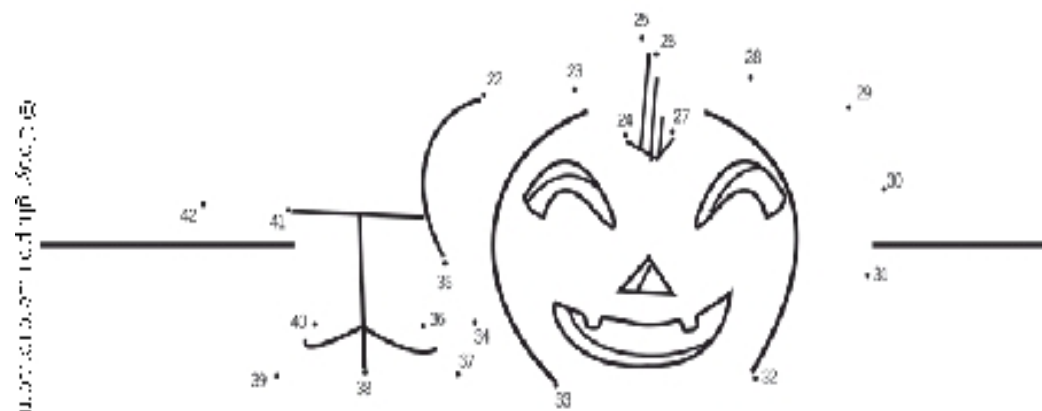

0	10	20	30	40	50	60	70	80
---	----	----	----	----	----	----	----	----

Prénom :

Date :

## Fiche atelier

**Relie les points en comptant de deux en deux pour retrouver ce que fait cette sorcière:**



www.cahiers.net