

Prénom : _____

Date : _____



Les nombres de 0 à 4

Objectif : Dénombrer une collection

1) Ecris pour chaque collection le nombre d'objets :

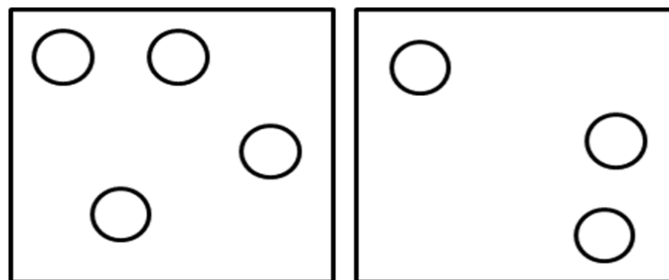


2) Ecris le nombre indiqué par les constellations de dés :



Objectif : Comparer une collection

1) Colorie la collection où il y a le moins d'objets :



Objectif : Connaître la suite numérique jusqu'à 10

2) Découpe les étiquettes et remets-les dans l'ordre

4	2	1	3
---	---	---	---

4	2	1	3
---	---	---	---

4	2	1	3
---	---	---	---

4	2	1	3
---	---	---	---

4	2	1	3
---	---	---	---

4	2	1	3
---	---	---	---