


NUMERATION et CALCULS

Quel est l'intrus ?

Le nombre 200 est un multiple de :

- a) 5
- b) 40
- c) 10
- d) 2
- e) 100
- f) 20
- g) 4
- h) 50
- i) 200
- j) 0
- k) 1



NUMERATION et CALCULS

L'intrus.




Réponse i)

NUMERATION et CALCULS

Quel est l'intrus ?

Le nombre 50 est un multiple de :

- g) 1
- h) 2
- i) 5
- j) 10
- k) 12
- l) 25
- m) 50



NUMERATION et CALCULS

L'intrus.




Réponse e)

NUMERATION et CALCULS

Trouve l'intrus.

Le nombre 30 est un multiple de :

- a) 1
- b) 2
- c) 3
- d) 4
- e) 5
- f) 6
- g) 10
- h) 15
- i) 30



NUMERATION et CALCULS

L'intrus.



Réponse d)