


Le cartapince des triangles




Place ta pince sur la bonne réponse

Triangle isocèle

Triangle rectangle

Triangle quelconque

Triangle équilatéral




Triangle équilatéral

Triangle quelconque

Triangle isocèle

Triangle rectangle




Triangle rectangle

Triangle équilatéral

Triangle isocèle

Triangle quelconque




Triangle
quelconque

Triangle
isocèle

Triangle
équilatéral

Triangle
rectangle

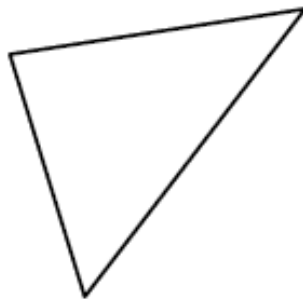


Triangle
isocèle

Triangle
rectangle

Triangle
quelconque

Triangle
équilatéral

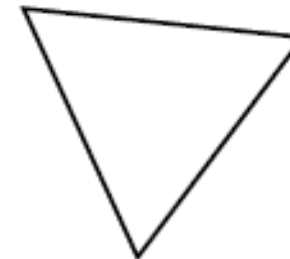


Triangle
équilatéral

Triangle
quelconque

Triangle
isocèle

Triangle
rectangle




Triangle
rectangle

Triangle
équilatéral

Triangle
isocèle

Triangle
quelconque

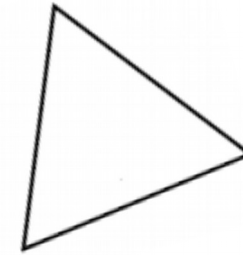


Triangle
quelconque

Triangle
isocèle

Triangle
équilatéral

Triangle
rectangle

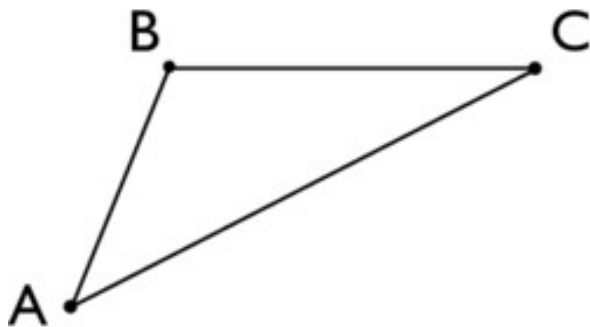


Triangle
isocèle

Triangle
rectangle

Triangle
quelconque

Triangle
équilatéral




Triangle
équilatéral

Triangle
quelconque

Triangle
isocèle

Triangle
rectangle




Triangle
rectangle

Triangle
équilatéral

Triangle
isocèle

Triangle
quelconque

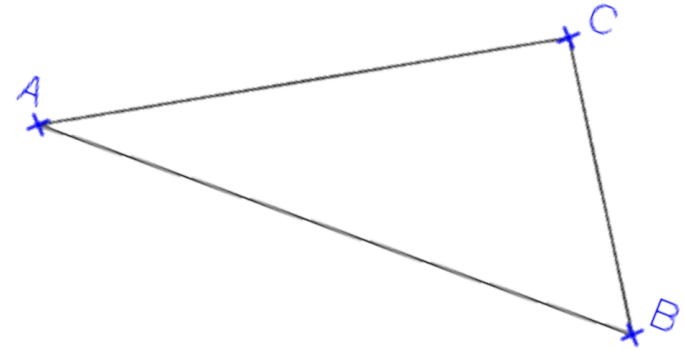


Triangle
quelconque

Triangle
isocèle

Triangle
équilatéral

Triangle
rectangle

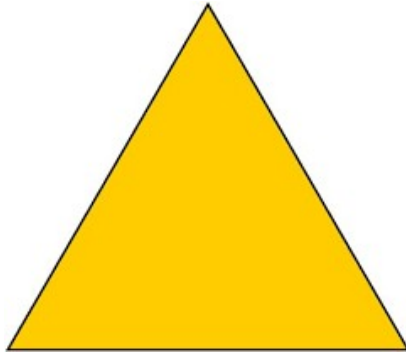


Triangle
isocèle

Triangle
rectangle

Triangle
quelconque

Triangle
équilatéral

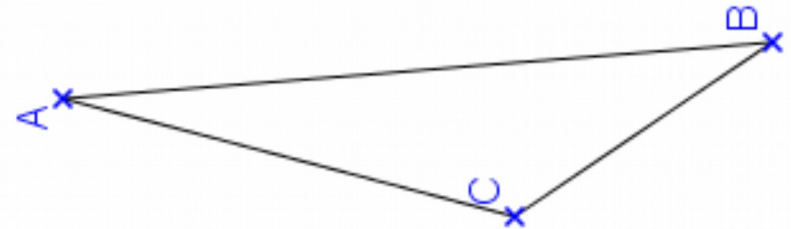


Triangle
équilatéral

Triangle
quelconque

Triangle
isocèle

Triangle
rectangle



Triangle
rectangle

Triangle
équilatéral

Triangle
isocèle

Triangle
quelconque