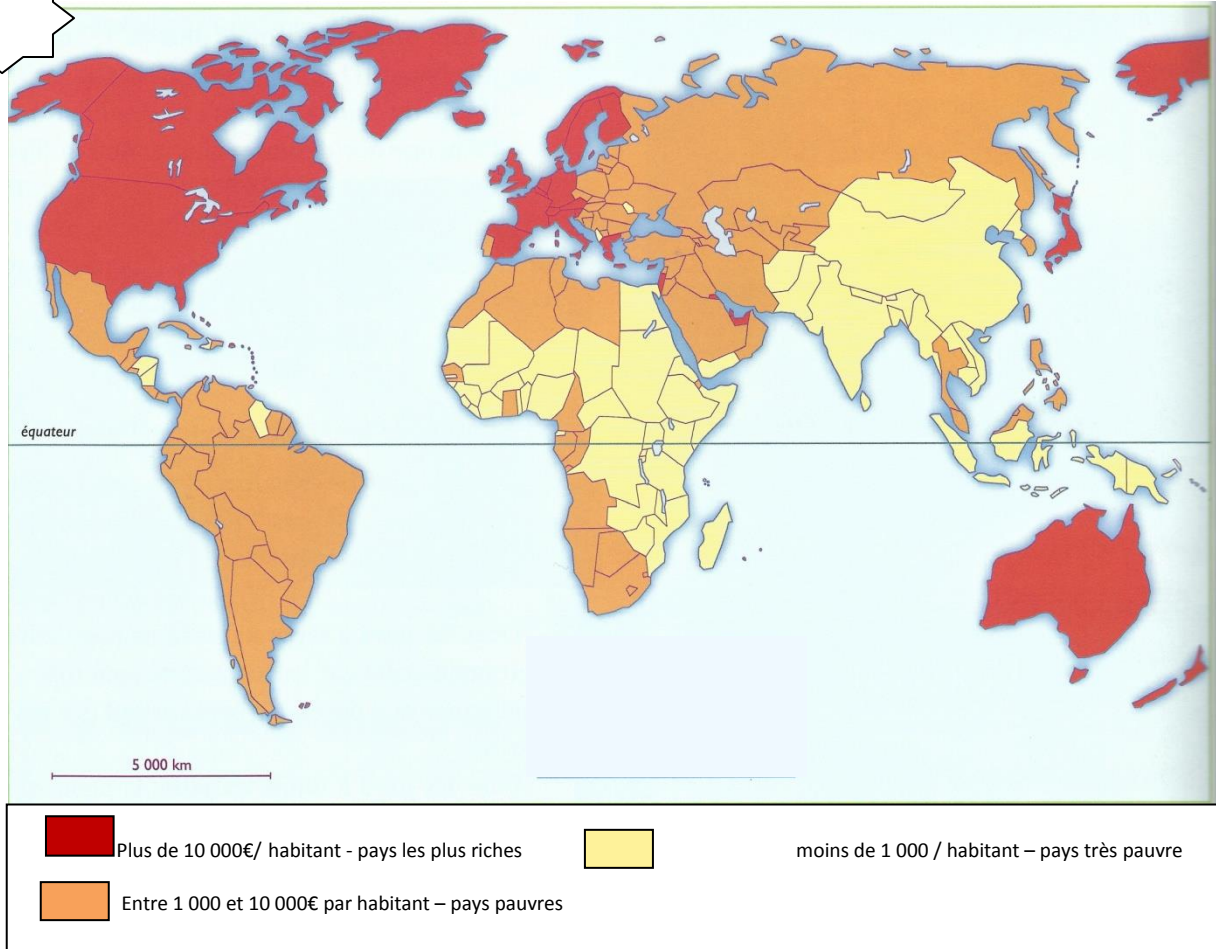


Comment se répartissent les richesses dans le monde ?

Pays riches – pays pauvres

1 la répartition des richesses dans le monde en PIB par habitant



Document 1 :

① Sur quels continents les pays riches sont-ils les plus nombreux ?

.....

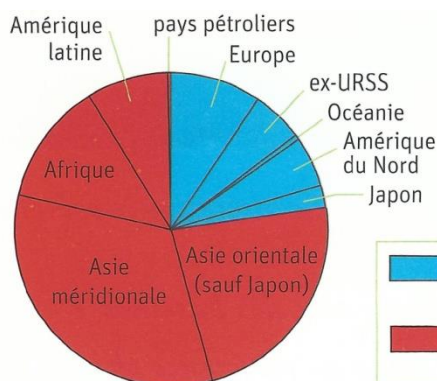
② Où se situent les pays pauvres du monde ?

.....

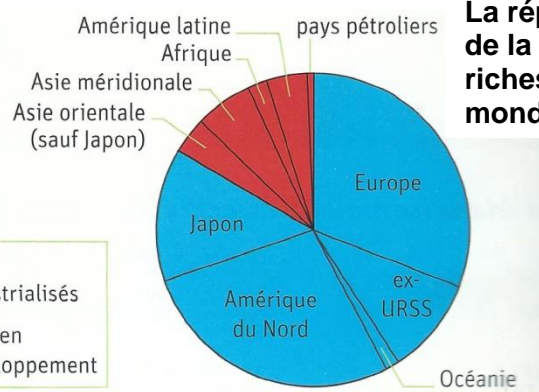
③ Où se situent les pays les plus pauvres ?

.....

2 La répartition de la population mondiale



La répartition de la richesse mondiale



Population et richesse nationale

Document 2 :

① *Quels continents représentent plus de trois quarts de la population mondiale ?*

.....

② *Ces continents sont-ils riches ou pauvres ?*


.....

③ *Cite une partie du monde qui représente une petite part de la population mondiale mais qui détient une grande partie des richesses ?*

.....

3

Le partage de la richesse, caricature de Selçuk, 1997



Document 3 :

① *Que représente le gâteau ?*

.....

② *Sur quelle part du gâteau se trouvent la majorité des pays ?*

.....

③ *Qu'est-ce qu'a voulu dénoncer l'auteur de cette caricature*

.....

En conclusion :

- a. Les pays industrialisés représentent : moins d'un quart / plus de la moitié / les trois quarts de la population mondiale.
- b. Les pays industrialisés détiennent : le quart / la moitié / plus des trois quarts des richesses mondiales.

4

| Indicateurs de pauvreté | Millions de personnes |
|--|-----------------------|
| Population vivant avec moins de 1 dollar par jour | 1 100 |
| Population souffrant de malnutrition | 831 |
| Enfants en bas âge non scolarisés | 104 |
| Population privée d'accès à une source d'eau aménagée | 1 197 |
| Population privée d'accès à des installations sanitaires | 2 742 |

Document 4

Quels sont les indices de pauvreté ?

.....

.....

.....

.....

.....