
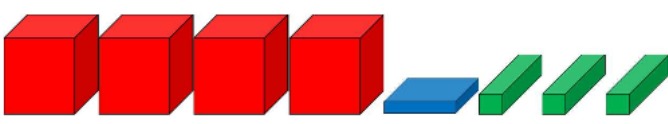
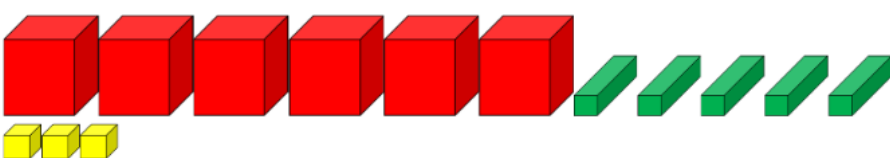


1 - Sur cette feuille, compte les milliers, les centaines, les dizaines et les unités, puis écris le nombre.

		
..... millier(s) centaine(s)	Nombre :
..... dizaine(s) unité(s)	

		
..... millier(s) centaine(s)	Nombre :
..... dizaine(s) unité(s)	

		
..... millier(s) centaine(s)	Nombre :
..... dizaine(s) unité(s)	

2 - Écris chaque nombre du premier exercice en lettres.

⇒

.....

⇒

.....

⇒

.....

3 - Relie chaque nombre à son écriture en lettres.

- | | | | |
|-------|-----------------------|-----------------------|--|
| 2 584 | <input type="radio"/> | <input type="radio"/> | trois-mille-trois-cent-quatre-vingt-dix |
| 2 508 | <input type="radio"/> | <input type="radio"/> | quatre-mille-cent-quatre-vingt-sept |
| 4 187 | <input type="radio"/> | <input type="radio"/> | quatre-mille-quatre-vingt-sept |
| 3 390 | <input type="radio"/> | <input type="radio"/> | deux-mille-cinq-cent-quatre-vingt-quatre |
| 4 087 | <input type="radio"/> | <input type="radio"/> | trois-mille-trente-neuf |
| 3 039 | <input type="radio"/> | <input type="radio"/> | deux-mille-cinq-cent-huit |