

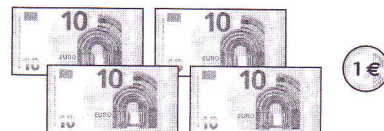
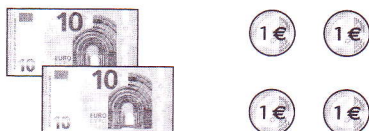
Compétence : Effectuer une addition en ligne de deux nombres de deux chiffres avec pour support la monnaie.

Prénom

Date

1 Mélissa possède 24 €.

Valentin possède 41 €.

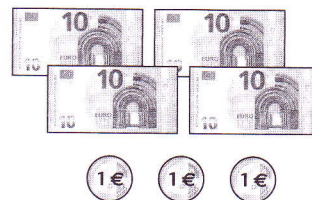
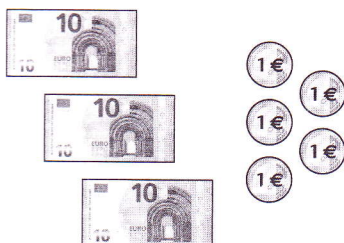


Combien possèdent-ils ensemble ? $24 + 41 = \dots\dots\dots$

Ensemble, ils possèdent €.

2 Théo possède 35 €.

Léa possède 43 €.




Combien possèdent-ils ensemble ? $35 + 43 = \dots\dots\dots$

Ensemble, ils possèdent €.

3 Thomas possède 42 €.

Julie possède 36 €.



Combien possèdent-ils ensemble ? $42 + 36 = \dots\dots\dots$

Ensemble, ils possèdent €.

Poser une addition en colonne

Date _____

une dizaine de plus...

1 Observe et complète.
(N'oublie pas la retenue.)

Pose les additions :

2 Pose les opérations et calcule.

36 + 47	d	u

+	.	.
	.	.
=	.	.

45 + 29	d	u

+	.	.
	.	.
=	.	.

28 + 24

	d	u
+		
=		

19 + 32

	d	u
+		
=		

21 + 19

	d	u
+		
=		

14 + 18

	d	u
+		
=		