

Lecture de nombres

Quel est ce nombre?

12

Lecture de nombres

Quel est ce nombre?

13

Lecture de nombres

Quel est ce nombre?

14

Lecture de nombres

Quel est ce nombre?

15

Lecture de nombres

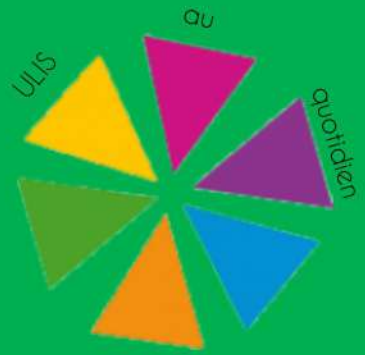
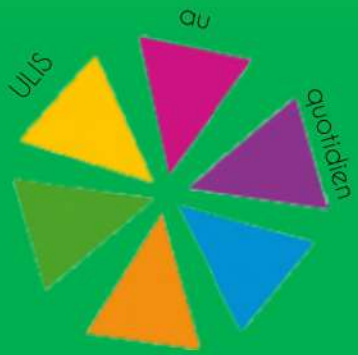
Quel est ce nombre?

16

Lecture de nombres

Quel est ce nombre?

17



Lecture de nombres

Quel est ce nombre?

18

Lecture de nombres

Quel est ce nombre?

19

Lecture de nombres

Quel est ce nombre?

20

Lecture de nombres

Quel est ce nombre?

21

Lecture de nombres

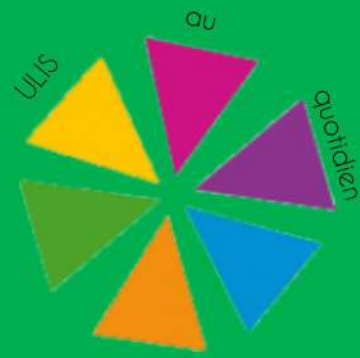
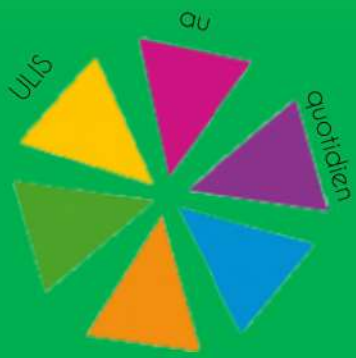
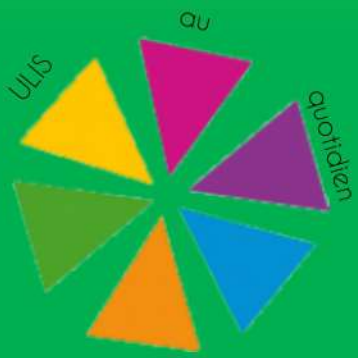
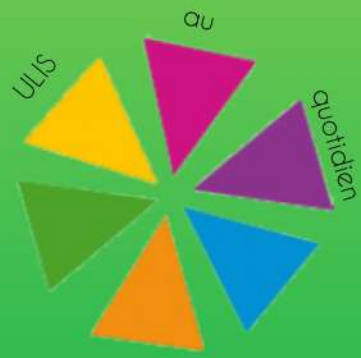
Quel est ce nombre?

22

Lecture de nombres

Quel est ce nombre?

23



Lecture de nombres

Quel est ce nombre?

24

Lecture de nombres

Quel est ce nombre?

25

Lecture de nombres

Quel est ce nombre?

26

Lecture de nombres

Quel est ce nombre?

27

Lecture de nombres

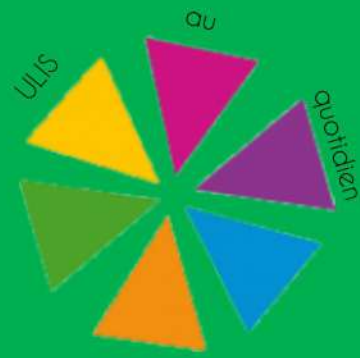
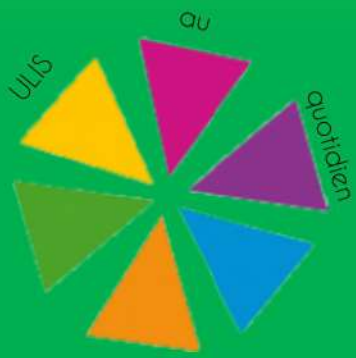
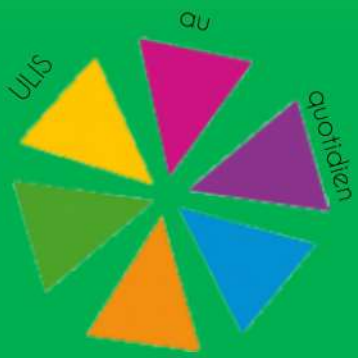
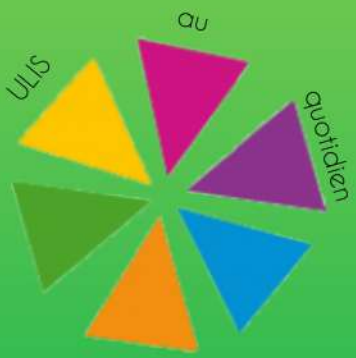
Quel est ce nombre?

28

Lecture de nombres

Quel est ce nombre?


29



Ranger les nombres

Range en ordre croissant:


12 - 21 - 27



Ranger les nombres

Range en ordre croissant:


28 - 15 - 17



Ranger les nombres

Range en ordre croissant:


22 - 11 - 15



Ranger les nombres

Range en ordre croissant:


17 - 19 - 8



Ranger les nombres

Range en ordre croissant:


18 - 6 - 21

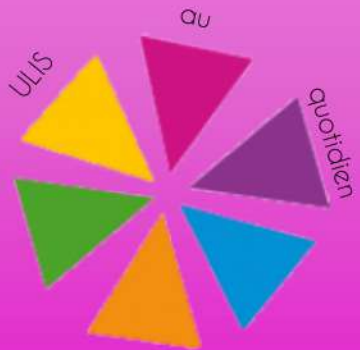
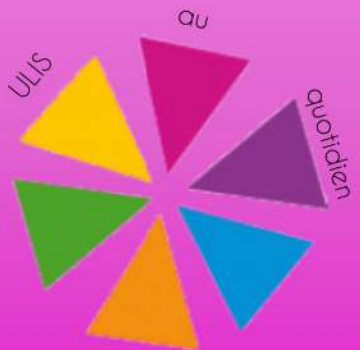
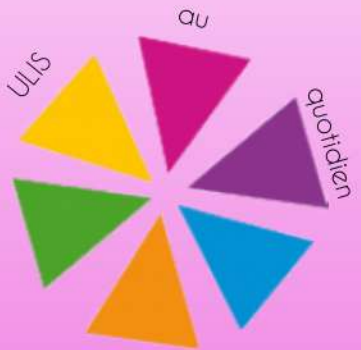
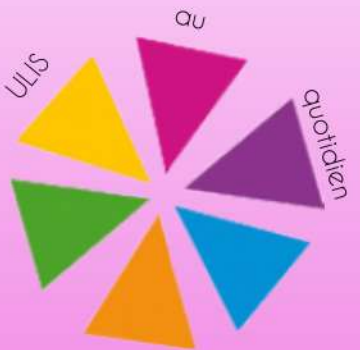
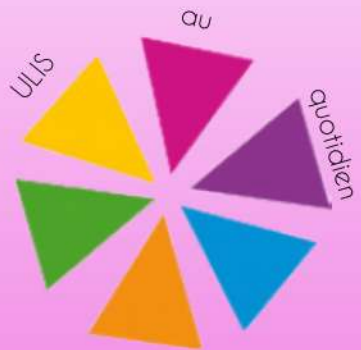


Ranger les nombres

Range en ordre croissant:

24 - 27 - 23

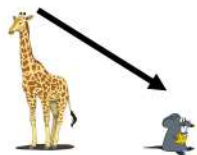




Ranger les nombres

Range en ordre décroissant:


28 - 12 - 17



Ranger les nombres

Range en ordre décroissant:

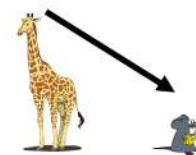
18 - 27 - 9



Ranger les nombres

Range en ordre décroissant:

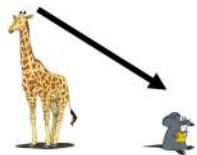
11 - 29 - 13



Ranger les nombres

Range en ordre décroissant:


28 - 10 - 15



Ranger les nombres

Range en ordre décroissant:

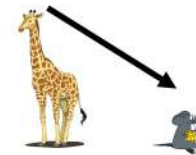
22 - 12 - 27



Ranger les nombres

Range en ordre décroissant:

18 - 12 - 27





Ranger les nombres

Ranger les nombres

Ranger les nombres

Montre le nombre le plus grand:

Montre le nombre le plus grand:

Montre le nombre le plus grand:

8 - 10 - 13

18 - 12 - 27

28 - 22 - 27

Ranger les nombres

Ranger les nombres

Ranger les nombres

Montre le nombre le plus petit:

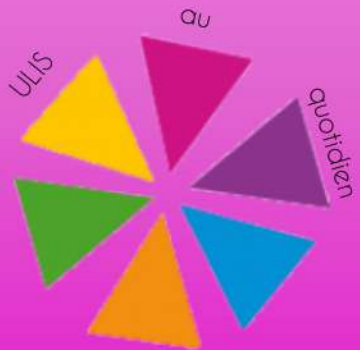
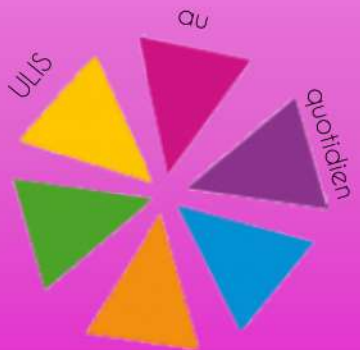
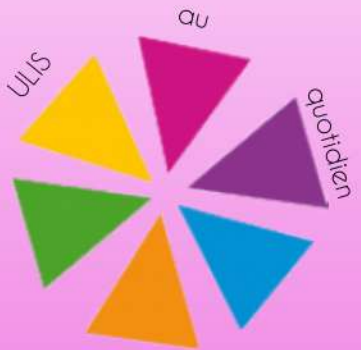
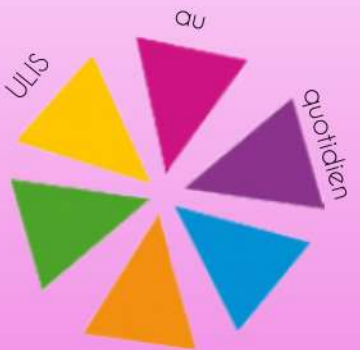
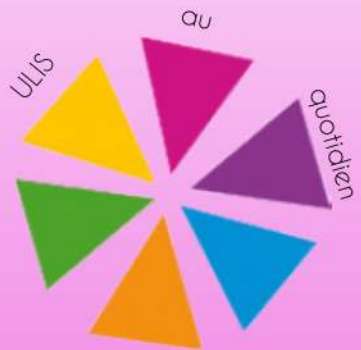
Montre le nombre le plus petit:

Montre le nombre le plus petit:

8 - 22 - 17

16 - 15 - 14

13 - 18 - 21



Ecrire les nombres

Ecrire les nombres

Ecrire les nombres

Ecris le nombre que je te dicte

Ecris le nombre que je te dicte

Ecris le nombre que je te dicte

onze

douze

treize

Ecrire les nombres

Ecrire les nombres

Ecrire les nombres

Ecris le nombre que je te dicte

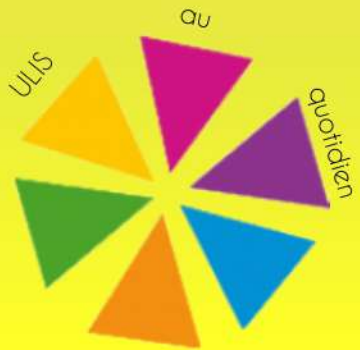
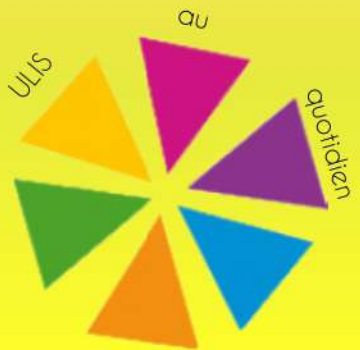
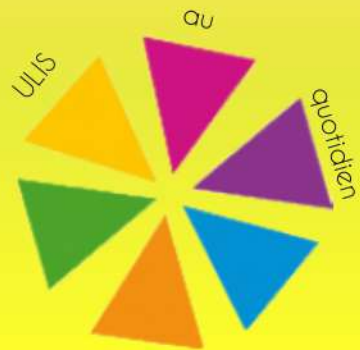
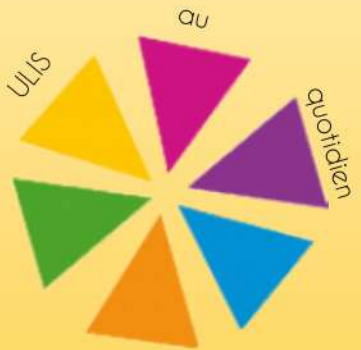
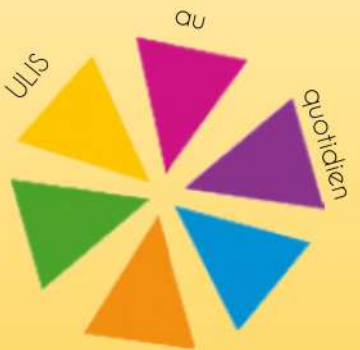
Ecris le nombre que je te dicte

Ecris le nombre que je te dicte

quatorze

quinze

seize



Ecrire les nombres

Ecrire les nombres

Ecrire les nombres

Ecris le nombre que je te dicte

Dix-sept

Ecris le nombre que je te dicte

Dix-huit

Ecris le nombre que je te dicte

Dix-neuf

Ecrire les nombres

Ecrire les nombres

Ecrire les nombres

Ecris le nombre que je te dicte

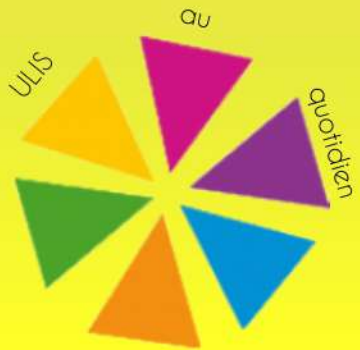
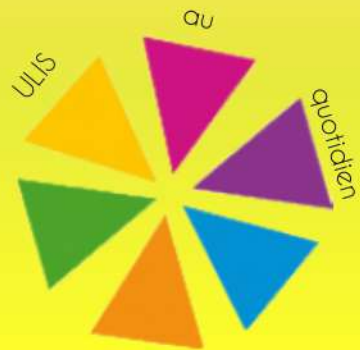
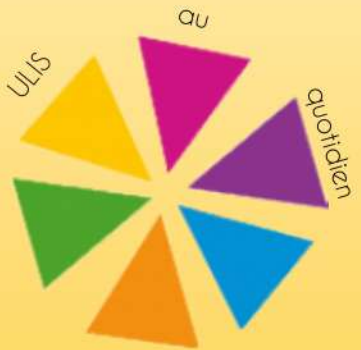
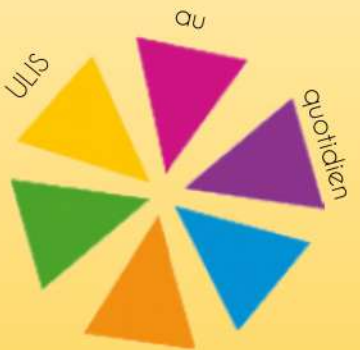
vingt

Ecris le nombre que je te dicte

Vingt et un

Ecris le nombre que je te dicte

Vingt-deux



Ecrire les nombres

Ecrire les nombres

Ecrire les nombres

Ecris le nombre que je te dicte

Ecris le nombre que je te dicte

Ecris le nombre que je te dicte

Vingt-trois

Vingt-quatre

Vingt-cinq

Ecrire les nombres

Ecrire les nombres

Ecrire les nombres

Ecris le nombre que je te dicte

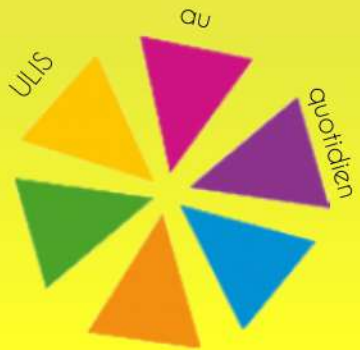
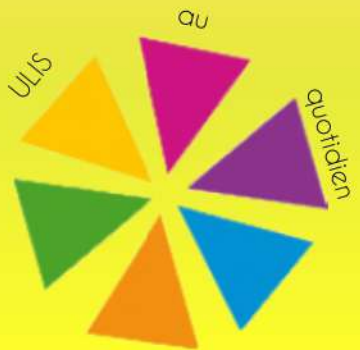
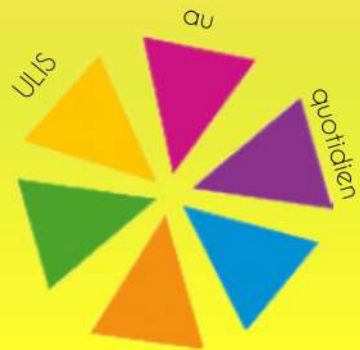
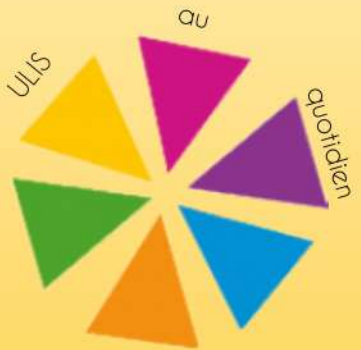
Ecris le nombre que je te dicte

Ecris le nombre que je te dicte

Vingt-six

Vingt-sept

Vingt-huit



former les nombres

former les nombres

former les nombres

Avec le matériel fais le nombre
suivant:

11

Avec le matériel fais le nombre
suivant:

12

Avec le matériel fais le nombre
suivant:

13

former les nombres

Former les nombres

Former les nombres

Avec le matériel fais le nombre
suivant:

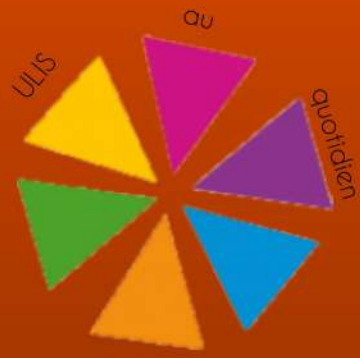
14

Avec le matériel fais le nombre
suivant:

15

Avec le matériel fais le nombre
suivant:

16



former les nombres

former les nombres

former les nombres

Avec le matériel fais le nombre
suivant:

17

Avec le matériel fais le nombre
suivant:

18

Avec le matériel fais le nombre
suivant:

19

former les nombres

Former les nombres

Former les nombres

Avec le matériel fais le nombre
suivant:

20

Avec le matériel fais le nombre
suivant:

21

Avec le matériel fais le nombre
suivant:

22



former les nombres

former les nombres

former les nombres

Avec le matériel fais le nombre
suivant:

23

Avec le matériel fais le nombre
suivant:

24

Avec le matériel fais le nombre
suivant:

25

former les nombres

Former les nombres

Former les nombres

Avec le matériel fais le nombre
suivant:

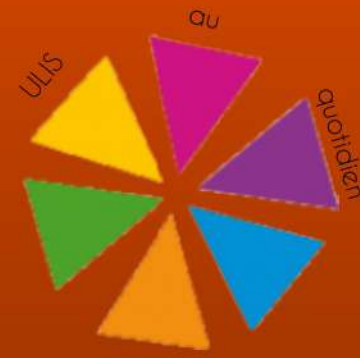
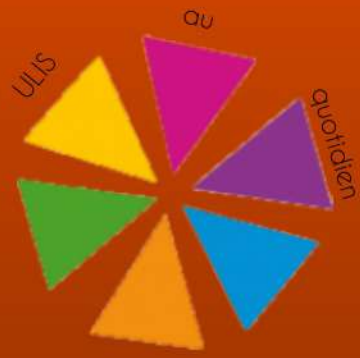
26

Avec le matériel fais le nombre
suivant:

27

Avec le matériel fais le nombre
suivant:

28



comparer les nombres

comparer les nombres

comparer les nombres

Ajoute le bon signe pour
comparer ces nombres:

23....18

Ajoute le bon signe pour
comparer ces nombres:

13....12

Ajoute le bon signe pour
comparer ces nombres:

23....17

comparer les nombres

comparer les nombres

comparer les nombres

Ajoute le bon signe pour
comparer ces nombres:

25....20

Ajoute le bon signe pour
comparer ces nombres:

26....16

Ajoute le bon signe pour
comparer ces nombres:

13....10



comparer les nombres

comparer les nombres

comparer les nombres

Ajoute le bon signe pour
comparer ces nombres:

13....18

Ajoute le bon signe pour
comparer ces nombres:

10....12

Ajoute le bon signe pour
comparer ces nombres:

12....17

comparer les nombres

comparer les nombres

comparer les nombres

Ajoute le bon signe pour
comparer ces nombres:

15....20

Ajoute le bon signe pour
comparer ces nombres:

16....16

Ajoute le bon signe pour
comparer ces nombres:

13....19



comparer les nombres

comparer les nombres

comparer les nombres

Ajoute le bon signe pour
comparer ces nombres:

14....28

Ajoute le bon signe pour
comparer ces nombres:

11....19

Ajoute le bon signe pour
comparer ces nombres:

11....21

comparer les nombres

comparer les nombres

comparer les nombres

Ajoute le bon signe pour
comparer ces nombres:

16....12

Ajoute le bon signe pour
comparer ces nombres:

17....16

Ajoute le bon signe pour
comparer ces nombres:

15....12



Décomposer les nombres

Décomposer les nombres

Décomposer les nombres

Quel nombre se cache ici?

1D + 2U

Quel nombre se cache ici?

1D + 3U

Quel nombre se cache ici?

1D + 4U

Décomposer les nombres

Décomposer les nombres

Décomposer les nombres

Quel nombre se cache ici?

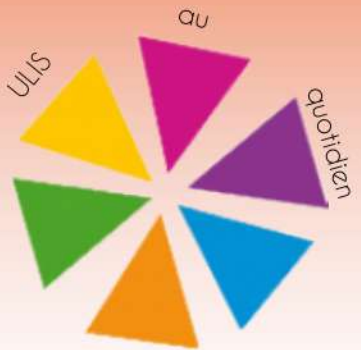
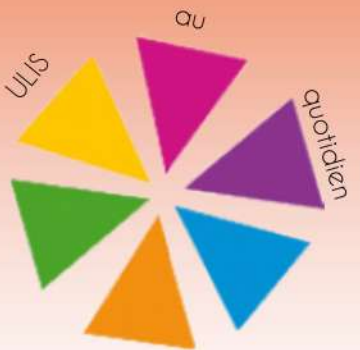
1D + 5U

Quel nombre se cache ici?

1D + 6U

Quel nombre se cache ici?

1D + 7U



Décomposer les nombres

Quel nombre se cache ici?

1D + 8U

Décomposer les nombres

Quel nombre se cache ici?

1D + 9U

Décomposer les nombres

Quel nombre se cache ici?

2D + 2U

Décomposer les nombres

Quel nombre se cache ici?

2D + 1U

Décomposer les nombres

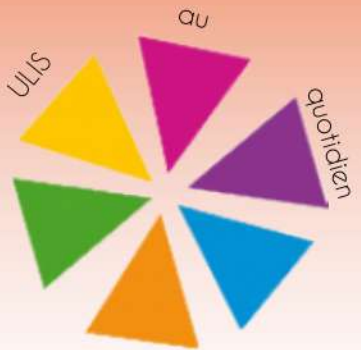
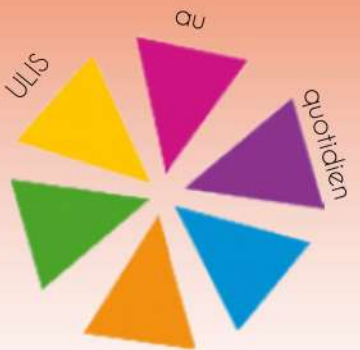
Quel nombre se cache ici?

2D + 3U

Décomposer les nombres

Quel nombre se cache ici?

2D + 4U



Décomposer les nombres

Décomposer les nombres

Décomposer les nombres

Quel nombre se cache ici?

2D + 5U

Quel nombre se cache ici?

2D + 6U

Quel nombre se cache ici?

2D + 7U

Décomposer les nombres

Décomposer les nombres

Décomposer les nombres

Quel nombre se cache ici?

2D + 8U

Quel nombre se cache ici?

2D + 9U

Quel nombre se cache ici?

1D + 1U

