


3 ours



Combien d'ours sont dans la maison ?



3 ours



Combien d'ours sont dans la maison ?



0

1

2

1



2

3

4 ours



Combien d'ours sont dans la maison ?



4 ours



Combien d'ours sont dans la maison ?



0

1

2

2



3

4

4 ours



Combien d'ours sont dans la maison ?



4 ours



Combien d'ours sont dans la maison ?



0

1

2

1

2

3

5 ours



Combien d'ours sont dans la maison ?



5 ours



Combien d'ours sont dans la maison ?



3

4

5

4

5

6

5 ours



Combien d'ours sont dans la maison ?



5 ours



Combien d'ours sont dans la maison ?



0

3

5

4

5

6