



La maîtresse avait **8** chocolats en réserve. Elle en a mangé **4**.
Combien de chocolats lui reste-t-il ?



La maîtresse avait **8** chocolats en réserve. Elle en a mangé **4**.
Combien de chocolats lui reste-t-il ?



La maîtresse avait **8** chocolats en réserve. Elle en a mangé **4**.
Combien de chocolats lui reste-t-il ?



La maîtresse avait **8** chocolats en réserve. Elle en a mangé **4**.
Combien de chocolats lui reste-t-il ?



La maîtresse avait **8** chocolats en réserve. Elle en a mangé **4**.
Combien de chocolats lui reste-t-il ?



La maîtresse avait **8** chocolats en réserve. Elle en a mangé **4**.
Combien de chocolats lui reste-t-il ?



La maîtresse avait **8** chocolats en réserve. Elle en a mangé **4**.
Combien de chocolats lui reste-t-il ?



La maîtresse avait **8** chocolats en réserve. Elle en a mangé **4**.
Combien de chocolats lui reste-t-il ?



La maîtresse avait **8** chocolats en réserve. Elle en a mangé **4**.
Combien de chocolats lui reste-t-il ?



La maîtresse avait **8** chocolats en réserve. Elle en a mangé **4**.
Combien de chocolats lui reste-t-il ?



La maîtresse avait **8** chocolats en réserve. Elle en a mangé **4**.
Combien de chocolats lui reste-t-il ?



La maîtresse avait **8** chocolats en réserve. Elle en a mangé **4**.
Combien de chocolats lui reste-t-il ?



La maîtresse avait **8** chocolats en réserve. Elle en a mangé **4**.
Combien de chocolats lui reste-t-il ?



La maîtresse avait **8** chocolats en réserve. Elle en a mangé **4**.
Combien de chocolats lui reste-t-il ?



Romain et Noah rassemblent leurs images de joueurs de foot.

Romain en a **42** et Noah **14**.

Combien d'images ont-ils en tout à eux deux ?



Romain et Noah rassemblent leurs images de joueurs de foot.

Romain en a **42** et Noah **14**.

Combien d'images ont-ils en tout à eux deux ?



Romain et Noah rassemblent leurs images de joueurs de foot.

Romain en a **42** et Noah **14**.

Combien d'images ont-ils en tout à eux deux ?



Romain et Noah rassemblent leurs images de joueurs de foot.

Romain en a **42** et Noah **14**.

Combien d'images ont-ils en tout à eux deux ?



Romain et Noah rassemblent leurs images de joueurs de foot.

Romain en a **42** et Noah **14**.

Combien d'images ont-ils en tout à eux deux ?



Romain et Noah rassemblent leurs images de joueurs de foot.

Romain en a **42** et Noah **14**.

Combien d'images ont-ils en tout à eux deux ?



Romain et Noah rassemblent leurs images de joueurs de foot.

Romain en a **42** et Noah **14**.

Combien d'images ont-ils en tout à eux deux ?



Romain et Noah rassemblent leurs images de joueurs de foot.

Romain en a **42** et Noah **14**.

Combien d'images ont-ils en tout à eux deux ?



Romain et Noah rassemblent leurs images de joueurs de foot.

Romain en a **42** et Noah **14**.

Combien d'images ont-ils en tout à eux deux ?



Romain et Noah rassemblent leurs images de joueurs de foot.

Romain en a **42** et Noah **14**.

Combien d'images ont-ils en tout à eux deux ?



Quentin a marqué **15** paniers sous le préau, Manuel en a marqué **25**.
Combien de paniers ont marqué les deux garçons ?



Quentin a marqué **15** paniers sous le préau, Manuel en a marqué **25**.
Combien de paniers ont marqué les deux garçons ?



Quentin a marqué **15** paniers sous le préau, Manuel en a marqué **25**.
Combien de paniers ont marqué les deux garçons ?



Quentin a marqué **15** paniers sous le préau, Manuel en a marqué **25**.
Combien de paniers ont marqué les deux garçons ?



Quentin a marqué **15** paniers sous le préau, Manuel en a marqué **25**.
Combien de paniers ont marqué les deux garçons ?



Quentin a marqué **15** paniers sous le préau, Manuel en a marqué **25**.
Combien de paniers ont marqué les deux garçons ?



Quentin a marqué **15** paniers sous le préau, Manuel en a marqué **25**.
Combien de paniers ont marqué les deux garçons ?



Quentin a marqué **15** paniers sous le préau, Manuel en a marqué **25**.
Combien de paniers ont marqué les deux garçons ?



Quentin a marqué **15** paniers sous le préau, Manuel en a marqué **25**.
Combien de paniers ont marqué les deux garçons ?



Quentin a marqué **15** paniers sous le préau, Manuel en a marqué **25**.
Combien de paniers ont marqué les deux garçons ?



Quentin a marqué **15** paniers sous le préau, Manuel en a marqué **25**.
Combien de paniers ont marqué les deux garçons ?




Quentin a marqué **15** paniers sous le préau, Manuel en a marqué **25**.
Combien de paniers ont marqué les deux garçons ?





Quentin a marqué **15** paniers sous le préau, Manuel en a marqué **25**.
Combien de paniers ont marqué les deux garçons ?





Quentin a marqué **15** paniers sous le préau, Manuel en a marqué **25**.
Combien de paniers ont marqué les deux garçons ?


 Au jeu des kapplas, Anaïs a empilé 58 bâtonnets, sa sœur en a empilé 61.
Qui a fait la tour la plus grande ?


 Au jeu des kapplas, Anaïs a empilé 58 bâtonnets, sa sœur en a empilé 61.
Qui a fait la tour la plus grande ?


 Au jeu des kapplas, Anaïs a empilé 58 bâtonnets, sa sœur en a empilé 61.
Qui a fait la tour la plus grande ?


 Au jeu des kapplas, Anaïs a empilé 58 bâtonnets, sa sœur en a empilé 61.
Qui a fait la tour la plus grande ?


 Au jeu des kapplas, Anaïs a empilé 58 bâtonnets, sa sœur en a empilé 61.
Qui a fait la tour la plus grande ?


 Au jeu des kapplas, Anaïs a empilé 58 bâtonnets, sa sœur en a empilé 61.
Qui a fait la tour la plus grande ?


 Au jeu des kapplas, Anaïs a empilé 58 bâtonnets, sa sœur en a empilé 61.
Qui a fait la tour la plus grande ?


 Au jeu des kapplas, Anaïs a empilé 58 bâtonnets, sa sœur en a empilé 61.
Qui a fait la tour la plus grande ?


 Au jeu des kapplas, Anaïs a empilé 58 bâtonnets, sa sœur en a empilé 61.
Qui a fait la tour la plus grande ?


 Au jeu des kapplas, Anaïs a empilé 58 bâtonnets, sa sœur en a empilé 61.
Qui a fait la tour la plus grande ?

 Au jeu des kapplas, Anaïs a empilé 58 bâtonnets, sa sœur en a empilé 61.
Qui a fait la tour la plus grande ?

 Au jeu des kapplas, Anaïs a empilé 58 bâtonnets, sa sœur en a empilé 61.
Qui a fait la tour la plus grande ?

 Au jeu des kapplas, Anaïs a empilé 58 bâtonnets, sa sœur en a empilé 61.
Qui a fait la tour la plus grande ?

 Au jeu des kapplas, Anaïs a empilé 58 bâtonnets, sa sœur en a empilé 61.
Qui a fait la tour la plus grande ?

 Au jeu des kapplas, Anaïs a empilé 58 bâtonnets, sa sœur en a empilé 61.
Qui a fait la tour la plus grande ?