

















		Club	Pts	J	G	N	P	Bp	Bc	Diff.
1	→	 Paris Saint-Germain	91	38	29	4	5	105	35	+70
2	→	 LOSC	75	38	22	9	7	68	33	+35
3	→	 Olympique Lyonnais	72	38	21	9	8	70	47	+23
4	→	 AS Saint-Etienne	66	38	19	9	10	59	41	+18
5	↑	 Olympique de Marseille	61	38	18	7	13	60	52	+8
6	↓	 Montpellier Hérault SC	59	38	15	14	9	53	42	+11
7	↑	 OGC Nice	56	38	15	11	12	30	35	-5
8	↑	 Stade de Reims	55	38	13	16	9	39	42	-3
9	↓	 Nîmes Olympique	53	38	15	8	15	57	58	-1
10	→	 Stade Rennais FC	52	38	13	13	12	55	52	+3
11	↑	 RC Strasbourg Alsace	49	38	11	16	11	58	48	+10
12	↓	 FC Nantes	48	38	13	9	16	48	48	0
13	→	 Angers SCO	46	38	10	16	12	44	49	-5
14	→	 Girondins de Bordeaux	41	38	10	11	17	34	42	-8
15	↑	 Amiens SC	38	38	9	11	18	31	52	-21
16	↓	 Toulouse FC	38	38	8	14	16	35	57	-22
17	↓	 AS Monaco	36	38	8	12	18	38	57	-19
18	↑	 Dijon FCO	34	38	9	7	22	31	60	-29
19	↓	 SM Caen	33	38	7	12	19	29	54	-25
20	→	 EA Guingamp	27	38	5	12	21	28	68	-40

Pts : Points

P : Perdus

J : Joués

Bp : Buts pour

G : Gagnés

BC : Buts contre

N : Nuls

Diff. : Différence de buts

Combien l'OGC Nice a-t-elle marquée de buts ? (BP)

35

30

53

Quelle équipe termine le championnat à la 18<sup>e</sup> place ?

Dijon

Nantes

LOSC

Combien de points a marqué le 12<sup>e</sup> du championnat ?

38

75

48

De quelle couleur est la flèche de l'AS Monaco ?

Bleue

Rouge

Verte

Quelle est la différence de buts (Diff.) de l'AS Saint-Etienne ?

+ 18

+ 8

- 40

Quelle équipe a fait le moins de matchs nuls (N) ?

PSG

Caen

Nice

Quel est le classement du Nîmes Olympique ?

7<sup>e</sup>

10<sup>e</sup>

9<sup>e</sup>

Combien Guingamp a-t-il pris de buts ? (BC)

68

62

98

Quelle équipe a fait 8 nuls ?

Reims

Amiens

Nîmes

Quelle équipe a perdu 22 matchs ?

Caen

Dijon

Monaco

Combien le Stade De Reims a-t-il gagné de matchs ?

38

23

13

Quelle équipe a une différence de buts nulle ?

Nice

Lyon

Nantes