

NUMERATION ET CALCULS

Trouve la réponse

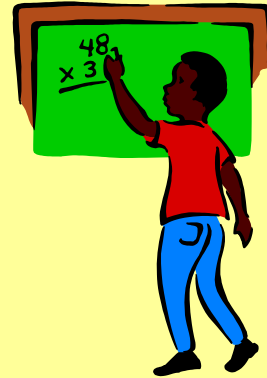
Alice a 68 €,
elle veut s'acheter
une poupée à 165 € :



Combien lui manque-t-il d'argent ?

NUMERATION ET CALCULS

Trouve la réponse.




$$165 - 68 = 97 \text{ €}$$

NUMERATION ET CALCULS

Trouve la réponse


Romain a 10 €.
Il achète 2 jouets à 1 € chacun.



Combien lui reste-t-il d'argent ?

NUMERATION ET CALCULS

Trouve la réponse.



$$10 - 2 = 8 \text{ €}$$

NUMERATION ET CALCULS

Trouve la réponse

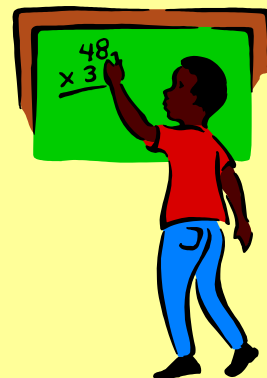
Maman a 10 €.
Elle achète :
3 pains à 50 cents.



Combien lui reste-t-il d'argent ?

NUMERATION ET CALCULS

Trouve la réponse.




$$8 \text{ € } 50$$

NUMERATION ET CALCULS

Trouve la réponse

Yaren a 30 €.


Si elle achète 3 poupées à 10 €.



Combien lui restera-t-elle ?

NUMERATION ET CALCULS

Trouve la réponse.



0 €

NUMERATION ET CALCULS

Trouve la réponse


Le père Noël a 50 cadeaux dans sa hotte.
Il donne 18 cadeaux.



Combien de cadeaux lui reste-t-il ?

NUMERATION ET CALCULS

Trouve la réponse.




$50 - 18 = 32$

NUMERATION ET CALCULS

Trouve la réponse


Mon papa est allé au magasin. Il a acheté
des tartines pour le matin et a payé 10 €.
Il avait 137 €.



Combien d'argent lui reste-t-il ?

NUMERATION ET CALCULS

Trouve la réponse.



$137 - 10 = 127 \text{ €}$