



Calcul : le sens de la multiplication



1

Le primeur range les ananas sur son étal. **Complète** l'addition et la phrase.



$6 + \dots + \dots = \dots$

Il y a 3 cartons de \dots ananas
ou 3 fois \dots ananas.

2

Complète les additions et les phrases.



$8 + \dots + \dots = \dots$

Il y a \dots bouquets de \dots fleurs.

Il y a \dots fois \dots fleurs.

$\dots + \dots + \dots + \dots = \dots$



Il y a \dots rangées de \dots salades.

Il y a \dots fois \dots salades.

3

Complète l'addition et la phrase.

Écris l'addition et la phrase.



$\dots + \dots + \dots + \dots = \dots$


Il y a \dots fois \dots cerises.

.....

.....

4

Avance de 5 en 5.



5 10