


○ 1. Orthographe

Lis bien les mots suivants et entoure ceux dans lesquels tu entends le son [oi] :

envoyer lundi front froid  
aquarium boîte bise  
wapiti joyeux zouave pion  
boisson soir souris

○ 2. Orthographe

Ecris les mots suivants(aide-toi de la leçon)



○ 3. Orthographe

Transforme les mots en remplaçant le son **a** par le son **oi**.

ta => \_\_\_\_\_  
val => \_\_\_\_\_  
far => \_\_\_\_\_  
pale => \_\_\_\_\_

○ 4. Grammaire

Écris une phrase avec les groupes de mots suivants, pense à la majuscule et au point : (sur le cahier rouge)  
une belle fleur – le petit garçon pour sa maman – cueille - bleue

○ 5. Grammaire

Écris à la forme négative :(cahier rouge)

Les cochons d'Inde mangent beaucoup.

○ 6. Grammaire

Recopie dans l'ordre alphabétique : (sur le cahier rouge)

chocolat – pain – carotte – fraise  
framboise – bois

○ 7. Grammaire

Transpose le texte suivant avec **Ils** :


(sur ton cahier rouge)  
Le chat est gourmand. Il aime le lait et la viande. Il chasse et il attrape des souris.

Aides : est => sont il => ils  
aime => aiment  
chasse => chassent  
attrape => attrapent

○ 8. Lecture

Lis le et numérote les dessins dans l'ordre de l'histoire.

Ce soir, on va au cinéma, papa et moi. Il a promis de m'acheter du pop-corn juste avant le film



○ 9. Lecture

Entoure le dessin qui correspond à la définition :

\* Je ressemble à un parapluie mais Je protège du soleil.



\* J'ai une couverture mais je ne suis pas en papier.



\* Je suis un instrument mais je n'ai pas de cordes.



\* Je vole, mais je n'ai ni ailes ni pattes.



○ 10. Problèmes

Une tablette de chocolat coute 3€. Maman en achète 4. Combien maman va-t-elle payer ?

Calcul : \_\_\_\_\_

Réponse : \_\_\_\_\_


○ 11. Quadrillage

Fiche quadrillage à coller et faire sur le cahier rouge.

○ 12. Calcul

40 + 5 = .....      50 + 5 = .....  
60 + 2 = .....      90 + 8 = .....  
70 + 0 = .....      80 + 1 = .....  
50 + .... = 57      ..... + 8 = 68  
90 + .... = 90      ..... + 5 = 45  
20 + .... = 29      ..... + 4 = 74

Prénom: .....

|   |                |   |
|---|----------------|---|
| ○ | 13. Numération |  |
|---|----------------|---|


Range du plus petit au plus grand.

|  |  |  |  |  |  |    |    |    |
|--|--|--|--|--|--|----|----|----|
|  |  |  |  |  |  | 10 | 60 | 80 |
|  |  |  |  |  |  | 30 | 70 | 50 |

|   |                |   |
|---|----------------|---|
| ○ | 14. Numération |  |
|---|----------------|---|

Complète le tableau :


|     |              |
|-----|--------------|
| ___ | quarante     |
| 100 | _____        |
| ___ | quatre-vingt |
| 60  | _____        |
| ___ | vingt        |

|   |                |   |
|---|----------------|---|
| ○ | 15. Numération |  |
|---|----------------|---|

Compare avec < ou >.

|            |       |              |
|------------|-------|--------------|
| 60         | ..... | 30           |
| cinquante  | ..... | 50           |
| 90         | ..... | soixante dix |
| 30         | ..... | 4 dizaines   |
| 2 dizaines | ..... | 10+10        |

**Lorsque tu réalises un exercice du plan sur ton travail :**



**Compétences travaillées :**

- ✧ Savoir orthographier le son « oi »
- ✧ Savoir ce qu'est une phrase.
- ✧ Savoir placer des mots dans l'ordre alphabétique
- ✧ Lire pour comprendre le sens.
- ✧ Résoudre un problème simple.
- ✧ Coder un parcours dans un quadrillage.
- ✧ Savoir compléter un calcul à trous.
- ✧ Connaître, comparer et savoir orthographier les dizaines jusqu'à 100.